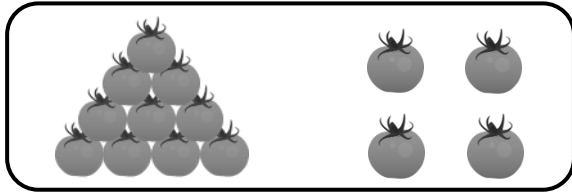


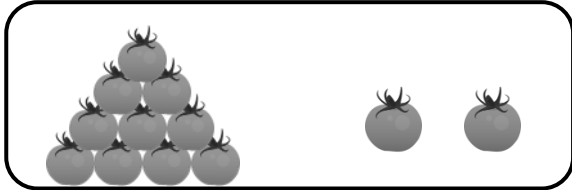
# PHIẾU TOÁN CUỐI TUẦN 19

Họ và tên học sinh: ..... Lớp: .....

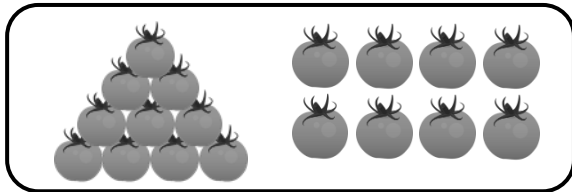
## Bài 1. Nói.



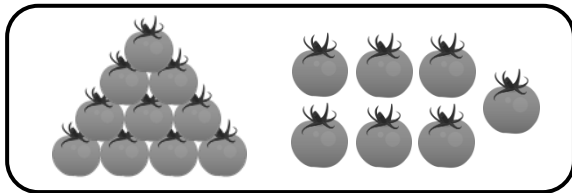
Mười lăm



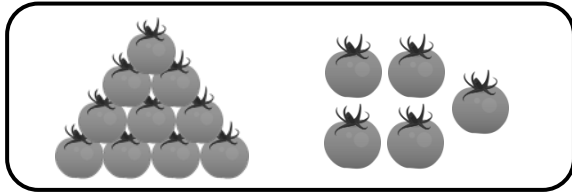
Mười bảy



Mười tám

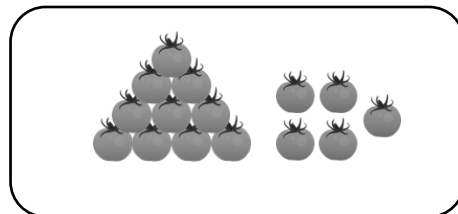
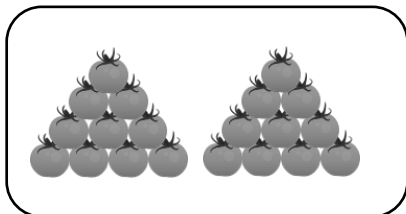



Mười bốn



Mười hai

## Bài 2. Số?



**Bài 3. Hoàn thành các dãy số sau:**

a)	10	11	12	...	...
b)	16	17	...	...	...
c)	11	13	...	17	...

**Bài 4. Hoàn thành các dãy số sau:**

a)	10	20	...	40	...	...	...
b)	10	30	...	70	...		
c)	90	80	70	...	...	...	30

**Bài 5. Tô màu theo yêu cầu sau:**

- Tô màu đỏ vào các số có hai chữ số giống nhau.
- Tô màu vàng vào các số tròn chục.
- Tô màu xanh vào các số có một chữ số.

0	1	2	3	4	5	6	7	8	9
10	11	12	13	14	15	16	17	18	19
20	21	22	23	24	25	26	27	28	29
30	31	32	33	34	35	36	37	38	39
40	41	42	43	44	45	46	47	48	49
50	51	52	53	54	55	56	57	58	59
60	61	62	63	64	65	66	67	68	69
70	71	72	73	74	75	76	77	78	79
80	81	82	83	84	85	86	87	88	89
90	91	92	93	94	95	96	97	98	99

**Bài 6. Dựa vào bảng ở bài 5, viết số thích hợp để hoàn thành các câu sau:**

- Số tròn chục bé nhất là: .....
- Số tròn chục lớn nhất có hai chữ số là: .....
- Số tròn chục đứng trước số tròn chục lớn nhất có hai chữ số là: .....
- Có .... số có một chữ số.