

TUYỂN TẬP CHUYÊN ĐỀ BỒI DƯỠNG TOÁN

TUYỂN TẬP CHUYÊN ĐỀ BỒI DƯỠNG TOÁN 9 MỨC ĐỘ CƠ BẢN

CHUYÊN ĐỀ 3. HỆ THỨC LƯỢNG TRONG TAM GIÁC VUÔNG

MỤC LỤC

Chủ đề 3. Hệ thức lượng trong tam giác vuông.....	1
Vấn đề 1. Hệ thức về cạnh và đường cao.....	2
Vấn đề 2. Hệ thức về cạnh và đường cao.....	5
Vấn đề 3. Luyện tập hệ thức về cạnh và đường cao.....	7
Vấn đề 4. Tỷ số lượng giác của góc nhọn (phần i).....	9
Vấn đề 5. Tỷ số lượng giác của góc nhọn (phần ii).....	12
Vấn đề 6. Một số hệ thức về cạnh và góc trong tam giác vuông (phần i).....	16
Vấn đề 7. Một số hệ thức về cạnh và góc trong tam giác vuông (phần ii).....	19
Ôn tập chủ đề 3.....	22
Đáp án.....	26

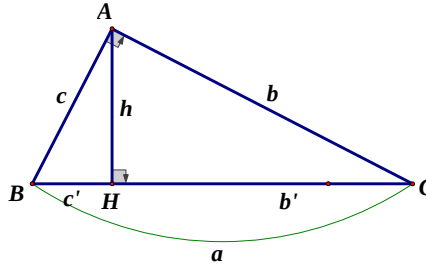
VẤN ĐỀ 1. HỆ THỨC VỀ CẠNH VÀ ĐƯỜNG CAO TRONG TAM GIÁC VUÔNG (PHẦN I)

TUYỂN TẬP CHUYÊN ĐỀ BỒI DƯỠNG TOÁN

A. TÓM TẮT LÝ THUYẾT

Cho tam giác ABC vuông tại A , đường cao AH . Khi đó ta có các hệ thức sau:

- $AB^2 = BH \cdot BC$ hay $c^2 = ac'$
- $AC^2 = CH \cdot BC$ hay $b^2 = ab'$
- $AB \cdot AC = BC \cdot AH$ hay $cb = ah$
- $HA^2 = HB \cdot HC$ hay $h^2 = c'b'$
- $\frac{1}{AH^2} = \frac{1}{AB^2} + \frac{1}{AC^2}$ hay $\frac{1}{h^2} = \frac{1}{c^2} + \frac{1}{b^2}$
- $BC^2 = AB^2 + AC^2$ (Định lý Pytago)



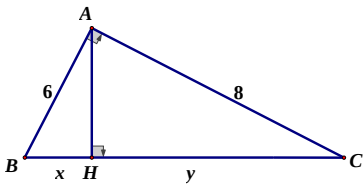
B. BÀI TẬP VÀ CÁC DẠNG TOÁN

Dạng 1. Tính độ dài các đoạn thẳng trong tam giác vuông

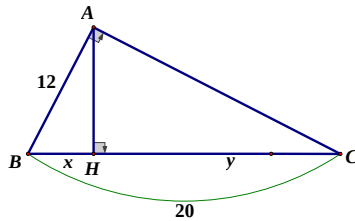
Phương pháp giải: Cho tam giác ABC vuông tại A , đường cao AH . Nếu biết độ dài hai trong sáu đoạn thẳng AB, AC, BC, HA, HB, HC thì ta tính luôn được bốn đoạn còn lại.

❖ Giáo viên hướng dẫn học sinh giải bài tập sau:

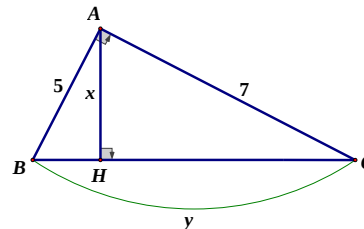
Bài 1. Tính x, y trong mỗi trường hợp sau:



Hình 1



Hình 2



Hình 3

Bài 2. Cho tam giác ABC vuông tại A , đường cao AH .

- Cho biết $AB = 3\text{cm}$, $AC = 4\text{cm}$. Tính độ dài các đoạn thẳng BH, CH, AH, BC .
- Cho biết $BH = 9\text{cm}$, $CH = 16\text{cm}$. Tính độ dài các đoạn thẳng AB, AC, BC, AH .

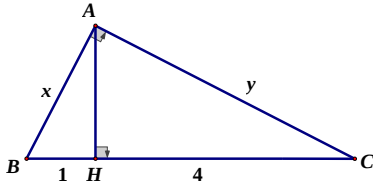
Bài 3. Cho tam giác ABC vuông tại A , $AH \perp BC$ ($H \in BC$). Cho biết $AB : AC = 3 : 4$ và $BC = 15\text{cm}$. Tính độ dài đoạn thẳng BH và HC .

TUYỂN TẬP CHUYÊN ĐỀ BỒI DƯỠNG TOÁN

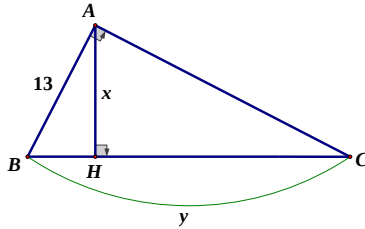
Bài 4. Cho tam giác ABC vuông tại A , đường cao AH . Cho biết $AB:AC = 3:4$ và $AH = 6\text{cm}$. Tính độ dài đoạn thẳng BH và CH .

❖ Học sinh tự luyện những bài tập sau tại lớp:

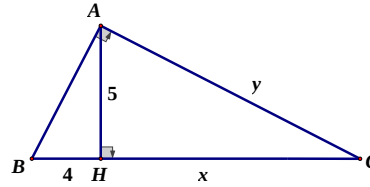
Bài 5. Tính x, y trong mỗi trường hợp sau:



Hình 4



Hình 5



Hình 6

Bài 6. Cho tam giác ABC vuông tại A , đường cao AH .

a) Cho biết $AB = 3\text{cm}$, $AC = 5\text{cm}$. Tính độ dài các đoạn thẳng BH, CH, AH, BC .

b) Cho biết $AH = 60\text{cm}$, $CH = 144\text{cm}$. Tính độ dài các đoạn thẳng AB, AC, BC, BH .

c) Cho biết $AC = 12\text{cm}$, $AH = \frac{60}{13}\text{cm}$. Tính độ dài các đoạn thẳng AB, BC, BH, CH .

Bài 7. Cho tam giác ABC vuông tại A , đường cao AH . Cho biết $\frac{AB}{AC} = \frac{5}{6}$ và $BC = 122\text{cm}$.
Tính độ dài đoạn thẳng BH và CH .

Bài 8. Cho tam giác ABC vuông tại A , đường cao AH . Cho biết $AB:AC = 3:4$ và $AH = 12\text{cm}$. Tính độ dài đoạn thẳng BH và CH .

C. BÀI TẬP VỀ NHÀ

Bài 9. Cho tam giác ABC vuông tại A , đường cao AH . Cho biết $AB = 4\text{cm}$, $AC = 7,5\text{cm}$.
Tính độ dài đoạn thẳng BH và HC .

Bài 10. Cho tam giác ABC vuông tại A , đường cao AH .

a) Cho biết $AH = 6\text{cm}$, $BH = 4,5\text{cm}$. Tính độ dài các đoạn thẳng AB, AC, BC, HC .

b) Cho biết $AB = 6\text{cm}$, $BH = 3\text{cm}$. Tính độ dài các đoạn thẳng AH, AC, CH .

TUYỂN TẬP CHUYÊN ĐỀ BỒI DƯỠNG TOÁN

Bài 11. Cho tam giác ABC vuông tại A , đường cao AH . Tính diện tích tam giác ABC biết $AH = 12\text{cm}$, $BH = 9\text{cm}$.

Bài 12. Cho tam giác ABC , biết $BC = 7,5\text{cm}$, $CA = 4,5\text{cm}$, $AB = 6\text{cm}$.

a) Tính đường cao AH của tam giác ABC .

b) Tính độ dài BH, CH .

Bài 13. Cho tam giác vuông với các cạnh góc vuông là 7 và 24 . Kẻ đường cao ứng với cạnh huyền. Tính độ dài đường cao và các đoạn thẳng mà đường cao đó chia ra trên cạnh huyền.

Bài 14. Cho tam giác ABC vuông tại A , đường cao AH . Cho biết $\frac{AB}{AC} = \frac{5}{7}$ và $AH = 15\text{cm}$.

Tính độ dài đoạn thẳng HB và HC .

Bài 15. Cho $ABCD$ là hình thang vuông tại A và D . Đường chéo $BD \perp BC$. Biết $AD = 12\text{cm}$, $DC = 25\text{cm}$. Tính độ dài AB, BC và BD .

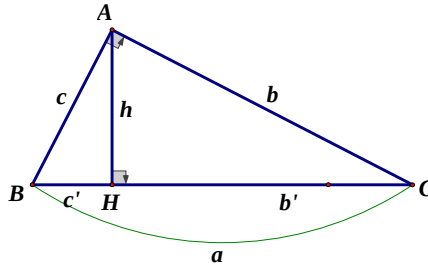
TUYỂN TẬP CHUYÊN ĐỀ BỒI DƯỠNG TOÁN

VẤN ĐỀ 2. HỆ THỨC VỀ CẠNH VÀ ĐƯỜNG CAO TRONG TAM GIÁC VUÔNG (PHẦN II)

A. TÓM TẮT LÝ THUYẾT

Nhắc lại lý thuyết. Cho tam giác ABC vuông tại A , đường cao AH . Khi đó ta có các hệ thức sau:

- $AB^2 = BH \cdot BC$ hay $c^2 = ac'$
- $AC^2 = CH \cdot BC$ hay $b^2 = ab'$
- $AB \cdot AC = BC \cdot AH$ hay $cb = ah$
- $HA^2 = HB \cdot HC$ hay $h^2 = c'b'$
- $\frac{1}{AH^2} = \frac{1}{AB^2} + \frac{1}{AC^2}$ hay $\frac{1}{h^2} = \frac{1}{c^2} + \frac{1}{b^2}$
- $BC^2 = AB^2 + AC^2$ (Định lý Pytago)



B. BÀI TẬP VÀ CÁC DẠNG TOÁN

Dạng 2. Chứng minh các hệ thức liên quan đến tam giác vuông

Phương pháp giải: Sử dụng các hệ thức về cạnh và đường cao một cách hợp lý theo hướng:

Bước 1: Chọn các tam giác vuông thích hợp chứa các đoạn thẳng có trong hệ thức.

Bước 2: Tính các đoạn thẳng đó nhờ hệ thức về cạnh và đường cao.

Bước 3: Liên kết các giá trị trên để rút ra hệ thức cần chứng minh.

❖ *Giáo viên hướng dẫn học sinh giải bài tập sau:*

Bài 1. Cho tam giác CDE nhọn, đường cao CH . Gọi M, N theo thứ tự là hình chiếu của H lên CD, CE . Chứng minh:

- $CD \cdot CM = CE \cdot CN$.
- $\triangle CMN \sim \triangle CED$.

Bài 2. Cho hình vuông $ABCD$. Gọi I là một điểm nằm giữa A và B . Tia DI và tia CB cắt nhau ở K . Kẻ đường thẳng qua D , vuông góc với DI , cắt đường thẳng BC tại L . Chứng minh:

TUYỂN TẬP CHUYÊN ĐỀ BỒI DƯỠNG TOÁN

a) Tam giác DIL là tam giác cân;

b) Tổng $\frac{1}{DI^2} + \frac{1}{DK^2}$ không đổi khi I thay đổi trên cạnh AB .

❖ Học sinh tự luyện những bài tập sau tại lớp:

Bài 3. Cho tam giác ABC có ba góc nhọn và AH là đường cao.

a) Chứng minh $AB^2 + CH^2 = AC^2 + BH^2$;

b) Gọi M, N theo thứ tự là hình chiếu của H lên AB, AC . Chứng minh: $AM \cdot AB = AN \cdot AC$

Bài 4. Cho hình thoi $ABCD$ có hai đường chéo cắt nhau tại O . Cho biết khoảng

cách từ O tới mỗi cạnh hình thoi là $h, AC = m, BD = n$. Chứng minh: $\frac{1}{m^2} + \frac{1}{n^2} = \frac{1}{4h^2}$.

C. BÀI TẬP VỀ NHÀ

Bài 5. Cho hình chữ nhật $ABCD$ có $AB = 8\text{cm}, BC = 15\text{cm}$.

a) Tính độ dài đoạn thẳng BD ;

b) Vẽ $AH \perp BD = H$. Tính độ dài đoạn thẳng AH ;

c) Đường thẳng AH cắt BC và DC lần lượt tại I và K . Chứng minh: $AH^2 = HI \cdot HK$.

Bài 6. Cho hình thang $ABCD$ vuông tại A và D . Cho biết $AB = 15\text{cm}, AD = 20\text{cm}$, các đường chéo AC và BD vuông góc với nhau ở O . Tính:

a) Độ dài các đoạn thẳng OB, OD .

b) Độ dài đoạn thẳng AC ;

c) Diện tích hình thang $ABCD$.

Bài 7. Cho tam giác ABC vuông tại A , đường cao AH , kẻ HE, HF lần lượt vuông góc với AB, AC . Chứng minh:

a) $\frac{EB}{FC} = \left(\frac{AB}{AC}\right)^3$

b) $BC \cdot BE \cdot CF = AH^3$.

Bài 8. Cho tam giác ABC cân tại A có AH và BK là hai đường cao. Kẻ đường thẳng vuông góc với BC tại B cắt tia CA tại D . Chứng minh:

a) $BD = 2AH$

b) $\frac{1}{BK^2} = \frac{1}{BC^2} + \frac{1}{4HA^2}$.

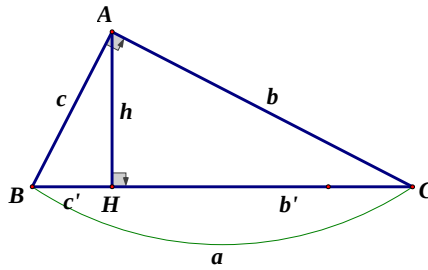
TUYỂN TẬP CHUYÊN ĐỀ BỒI DƯỠNG TOÁN

VẤN ĐỀ 3. LUYỆN TẬP HỆ THỨC VỀ CẠNH VÀ ĐƯỜNG CAO TRONG TAM GIÁC VUÔNG

A. TÓM TẮT LÝ THUYẾT

Nhắc lại lý thuyết. Cho tam giác ABC vuông tại A , đường cao AH . Khi đó ta có các hệ thức sau:

- $AB^2 = BH \cdot BC$ hay $c^2 = ac'$
- $AC^2 = CH \cdot BC$ hay $b^2 = ab'$
- $AB \cdot AC = BC \cdot AH$ hay $cb = ah$
- $HA^2 = HB \cdot HC$ hay $h^2 = c'b'$
- $\frac{1}{AH^2} = \frac{1}{AB^2} + \frac{1}{AC^2}$ hay $\frac{1}{h^2} = \frac{1}{c^2} + \frac{1}{b^2}$
- $BC^2 = AB^2 + AC^2$ (Định lý Pytago)



B. BÀI TẬP VÀ CÁC DẠNG TOÁN

❖ Giáo viên hướng dẫn học sinh giải bài tập sau:

Bài 1. Cho tam giác ABC vuông tại A , đường cao AH . Cho biết $BH = 4\text{cm}$, $CH = 9\text{cm}$. Gọi D, E lần lượt là hình chiếu của H lên các cạnh AB, AC .

a) Tính độ dài đoạn thẳng DE .

b) Các đường thẳng vuông góc với DE tại D, E lần lượt cắt BC tại M, N . Chứng

minh $MN = \frac{1}{2}BC$.

c) Tính diện tích của tứ giác $DENM$.

Bài 2. Cho tam giác ABC vuông tại A , đường cao AH . Gọi D, E lần lượt là hình chiếu của H lên các cạnh AB, AC . Chứng minh:

a) $\frac{AC^2}{AC^2} = \frac{HB}{HC}$; b) $\frac{AC^3}{AC^3} = \frac{BD}{EC}$; c) $DE^3 = BD \cdot CE \cdot BC$; d) $\sqrt[3]{BC^2} = \sqrt[3]{BD^2} + \sqrt[3]{CE^2}$.

❖ Học sinh tự luyện những bài tập sau tại lớp:

Bài 3. Cho tam giác ABC vuông tại A , đường cao AH .

a) Cho biết $AB = 6\text{cm}$, $AC = 8\text{cm}$. Tính độ dài các đoạn thẳng BH, CH, AH, BC .

TUYỂN TẬP CHUYÊN ĐỀ BỒI DƯỠNG TOÁN

b) Cho biết $AB = 6\text{ cm}$, $BC = 10\text{ cm}$. Tính độ dài các đoạn thẳng BH , CH , AH , AC .

Bài 4. Tìm độ dài các cạnh của một tam giác vuông nếu đường cao ứng với cạnh huyền có độ dài 48 cm và hình chiếu của các cạnh góc vuông trên cạnh huyền theo tỉ lệ $9:16$.

Bài 5. Cho tam giác ABC vuông tại A , phân giác AD , đường cao AH . Cho biết $BD = 15\text{ cm}$, $CD = 20\text{ cm}$. Tính độ dài các đoạn thẳng HB , HC .

Bài 6. Cho hình thang cân $ABCD$ có độ dài cạnh đáy $AB = 26\text{ cm}$ và cạnh bên $AD = 10\text{ cm}$. Cho biết đường chéo AC vuông góc với cạnh bên BC . Tính diện tích của hình thang $ABCD$.

C. BÀI TẬP VỀ NHÀ

Bài 7. Cho tam giác ABC vuông tại A , đường cao AH .

a) Nếu $BH = 2\text{ cm}$, $CH = 8\text{ cm}$. Tính độ dài các đoạn AB , AC , BC , AH .

b) Nếu $AH = 5\text{ cm}$, $CH = 16\text{ cm}$. Tính độ dài các đoạn AB , AC , BC , BH .

Bài 8. Cho tam giác ABC vuông tại A , đường cao AH . Cho biết $AB:AC = 3:4$ và $AH = 12\text{ cm}$. Tính độ dài các đoạn thẳng BH , CH .

Bài 9. Cho tam giác ABC vuông tại A , phân giác AD , đường cao AH . Cho biết $BD = 15\text{ cm}$, $CD = 20\text{ cm}$. Tính độ dài các đoạn thẳng HB , HC .

Bài 10. Cho tam giác ABC vuông tại A , đường cao AH . Tính chu vi của tam giác

ABC biết rằng $AH = 14\text{ cm}$, $\frac{HB}{HC} = \frac{1}{4}$.

Bài 11. Cho tam giác ABC vuông tại A , đường cao AH . Tính diện tích tam giác ABC biết rằng $AH = 12\text{ cm}$, $BH = 9\text{ cm}$.

Bài 12. Cho tam giác ABC vuông tại C , đường cao CK .

a) Cho biết $AB = 10\text{ cm}$, $AC = 8\text{ cm}$. Tính BC , CK , BK , AK .

b) Gọi H và I theo thứ tự là hình chiếu của K lên BC và AC . Chứng minh:
 $CB \cdot CH = CA \cdot CI$.

TUYỂN TẬP CHUYÊN ĐỀ BỒI DƯỠNG TOÁN

c) Gọi M là chân đường vuông góc kẻ từ K xuống IH . Chứng minh

$$\frac{1}{KM^2} = \frac{1}{CH^2} + \frac{1}{CI^2}.$$

d) Chứng minh: $\frac{AI}{BH} = \frac{AC^3}{BC^3}$.

VẤN ĐỀ 4. TỈ SỐ LƯỢNG GIÁC CỦA GÓC NHỌN (PHẦN I)

A. TÓM TẮT LÝ THUYẾT

- Cho góc nhọn $\alpha (0^\circ < \alpha < 90^\circ)$. Dựng tam giác ABC vuông tại A sao cho $\alpha = \widehat{ABC}$. Từ đó ta có:

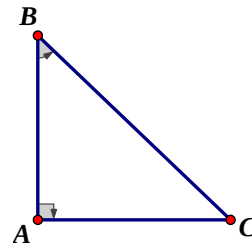
$$\cos \alpha = \frac{AB}{BC}; \sin \alpha = \frac{AC}{BC}; \tan \alpha = \frac{AC}{AB}; \cot \alpha = \frac{AB}{AC}.$$

- Với góc nhọn α bất kì, ta luôn có:

$$0 < \sin \alpha < 1; 0 < \cos \alpha < 1.$$

$$\tan \alpha = \frac{\sin \alpha}{\cos \alpha}; \cot \alpha = \frac{\cos \alpha}{\sin \alpha}; \tan \alpha \cdot \cot \alpha = 1;$$

$$\sin^2 \alpha + \cos^2 \alpha = 1; 1 + \tan^2 \alpha = \frac{1}{\cos^2 \alpha}; 1 + \cot^2 \alpha = \frac{1}{\sin^2 \alpha}.$$



- Nếu hai góc phụ nhau thì sin góc này bằng cosin góc kia, tang góc này bằng cotang góc kia.
- Bảng tỉ số lượng giác của các góc đặc biệt:

	30°	45°	60°
$\sin \alpha$	$\frac{1}{2}$	$\frac{\sqrt{2}}{2}$	$\frac{\sqrt{3}}{2}$
$\cos \alpha$	$\frac{\sqrt{3}}{2}$	$\frac{\sqrt{2}}{2}$	$\frac{1}{2}$
$\tan \alpha$	$\frac{\sqrt{3}}{3}$	1	$\sqrt{3}$
$\cot \alpha$	$\sqrt{3}$	1	$\frac{\sqrt{3}}{3}$

TUYỂN TẬP CHUYÊN ĐỀ BỒI DƯỠNG TOÁN

B. BÀI TẬP VÀ CÁC DẠNG TOÁN

Dạng 1. Tính tỉ số lượng giác của góc nhọn, tính cạnh, tính góc

Phương pháp giải: Sử dụng kiến thức trong phần Tóm tắt lí thuyết ở trên.

❖ *Giáo viên hướng dẫn học sinh giải bài tập sau:*

Bài 1. Cho tam giác ABC vuông tại C có $BC = 1,2\text{cm}$, $AC = 0,9\text{cm}$. Tính các tỉ số lượng giác của góc B . Từ đó suy ra tỉ số lượng giác của góc A .

Bài 2. Cho tam giác ABC vuông tại A , đường cao AH . Hãy tính $\sin B$ và $\sin C$ trong các trường hợp sau (làm tròn kết quả đến chữ số thập phân thứ 4):

a) $AB = 13\text{cm}$; $BH = 0,5\text{dm}$

b) $BH = 3\text{cm}$; $CH = 4\text{cm}$.

Bài 3. Cho tam giác ABC có $AB = a\sqrt{5}$; $BC = a\sqrt{3}$; $AC = a\sqrt{2}$.

a) Chứng minh ABC là tam giác vuông.

b) Tính các tỉ số lượng giác của góc B . Từ đó suy ra tỉ số lượng giác của góc A .

Bài 4. Cho tam giác ABC vuông tại A , hãy tính các tỉ số lượng giác của góc C biết rằng $\cos B = 0,6$.

Bài 5. Cho tam giác ABC vuông tại A , $AB = 5\text{cm}$, $\cot B = \frac{5}{8}$. Tính độ dài các đoạn thẳng AC và BC .

❖ *Học sinh tự luyện những bài tập sau tại lớp:*

Bài 6. Cho tam giác ABC vuông tại A có $BA = 1,6\text{cm}$; $CA = 1,2\text{cm}$. Tính các tỉ số lượng giác của góc B . Từ đó suy ra tỉ số lượng giác của góc C .

Bài 7. Cho tam giác ABC có $CB = a\sqrt{5}$; $BA = a\sqrt{3}$; $AC = a\sqrt{2}$.

a) Chứng minh ABC là tam giác vuông.

b) Tính các tỉ số lượng giác của góc B . Từ đó suy ra tỉ số lượng giác của góc C .

Bài 8. Cho tam giác ABC vuông tại A . Cho biết $\cos B = 0,8$. Hãy tính các tỉ số lượng giác của góc C .

TUYỂN TẬP CHUYÊN ĐỀ BỒI DƯỠNG TOÁN

Bài 9. Cho tam giác ABC vuông tại A , $AB = 6\text{ cm}$, $\tan B = \frac{5}{12}$. Hãy tính độ dài các đoạn thẳng AC và BC .

C. BÀI TẬP VỀ NHÀ

Bài 10. Cho tam giác ABC vuông tại A có $AB = 60\text{ mm}$; $AC = 8\text{ cm}$. Tính các tỉ số lượng giác của góc B . Từ đó suy ra tỉ số lượng giác của góc C .

Bài 11. Cho tam giác ABC vuông tại A . Biết $AB = 30\text{ cm}$; $\hat{B} = \alpha$, $\cot \alpha = \frac{5}{12}$. Tính độ dài các cạnh BC , AC .

Bài 12. Tìm $\sin \alpha$, $\cot \alpha$, $\tan \alpha$ biết $\cos \alpha = \frac{1}{5}$.

Bài 13. Cho tam giác ABC vuông tại A . Tính AC , BC biết:

a) $AB = 12\text{ cm}$, $\tan B = \frac{3}{4}$;

b) $AB = 15\text{ cm}$, $\cos B = \frac{5}{13}$.

Bài 14. Cho tam giác ABC vuông tại A , $\hat{C} = 30^\circ$, $BC = 10\text{ cm}$.

a) Tính độ dài các cạnh AB , AC .

b) Kẻ từ A các đường thẳng AM , AN lần lượt vuông góc với các đường phân giác trong và ngoài của góc B . Chứng minh $MN \parallel BC$ và $MN = BC$.

c) Chứng minh tam giác MAB và ABC đồng dạng. Tìm tỉ số đồng dạng.

TUYỂN TẬP CHUYÊN ĐỀ BỒI DƯỠNG TOÁN

VẤN ĐỀ 5. TỈ SỐ LƯỢNG GIÁC CỦA GÓC NHỌN (PHẦN II)

A. TÓM TẮT LÝ THUYẾT

- Cho góc nhọn $\alpha (0^\circ < \alpha < 90^\circ)$. Dựng tam giác ABC vuông tại A sao cho $\alpha = \widehat{ABC}$. Từ đó ta có:

$$\cos \alpha = \frac{AB}{BC}; \sin \alpha = \frac{AC}{BC}; \tan \alpha = \frac{AC}{AB}; \cot \alpha = \frac{AB}{AC}.$$

- Với góc nhọn α bất kì, ta luôn có:

$$0 < \sin \alpha < 1; 0 < \cos \alpha < 1.$$

$$\tan \alpha = \frac{\sin \alpha}{\cos \alpha}; \cot \alpha = \frac{\cos \alpha}{\sin \alpha}; \tan \alpha \cdot \cot \alpha = 1;$$

$$\sin^2 \alpha + \cos^2 \alpha = 1; 1 + \tan^2 \alpha = \frac{1}{\cos^2 \alpha}; 1 + \cot^2 \alpha = \frac{1}{\sin^2 \alpha}.$$

- Nếu hai góc phụ nhau thì sin góc này bằng cosin góc kia, tang góc này bằng cotang góc kia.
- Bảng tỉ số lượng giác của các góc đặc biệt:

	30°	45°	60°
$\sin \alpha$	$\frac{1}{2}$	$\frac{\sqrt{2}}{2}$	$\frac{\sqrt{3}}{2}$
$\cos \alpha$	$\frac{\sqrt{3}}{2}$	$\frac{\sqrt{2}}{2}$	$\frac{1}{2}$
$\tan \alpha$	$\frac{\sqrt{3}}{3}$	1	$\sqrt{3}$
$\cot \alpha$	$\sqrt{3}$	1	$\frac{\sqrt{3}}{3}$

B. BÀI TẬP VÀ CÁC DẠNG TOÁN

Dạng 2. Sắp thứ tự dãy các tỉ số lượng giác

Phương pháp giải: Để sắp thứ tự dãy các tỉ số lượng giác cho trước, ta cần làm được hai bước sau:

TUYỂN TẬP CHUYÊN ĐỀ BỒI DƯỠNG TOÁN

Bước 1: Đưa về các tỉ số lượng giác trong bài toán cùng loại bằng cách sử dụng tính chất: “Nếu hai góc phụ nhau thì sin góc này bằng cos góc kia, tan góc này bằng cot góc kia”.

Bước 2: Với hai góc nhọn α, β , ta có:

$$\sin \alpha < \sin \beta \Leftrightarrow \alpha < \beta;$$

$$\cos \alpha < \cos \beta \Leftrightarrow \alpha > \beta;$$

$$\tan \alpha < \tan \beta \Leftrightarrow \alpha < \beta;$$

$$\cot \alpha < \cot \beta \Leftrightarrow \alpha > \beta.$$

❖ *Giáo viên hướng dẫn học sinh giải bài tập sau:*

Bài 1. Không dùng bảng số và máy tính, hãy so sánh:

a) $\sin 20^\circ$ và $\sin 70^\circ$ b) $\cos 60^\circ$ và $\cos 70^\circ$ c) $\tan 73^\circ 20'$ và $\tan 45^\circ$ d) $\cot 20^\circ$ và $\cot 37^\circ 40'$

Bài 2. Sắp xếp tỉ số lượng giác sau theo thứ tự từ lớn đến bé:

a) $\tan 42^\circ, \cot 71^\circ, \tan 38^\circ, \cot 69^\circ 15', \tan 28^\circ$

b) $\sin 32^\circ, \cos 51^\circ, \sin 39^\circ, \cos 79^\circ 13', \sin 38^\circ$

❖ *Học sinh tự luyện những bài tập sau tại lớp:*

Bài 3. Không dùng bảng số và máy tính, hãy so sánh:

a) $\sin 40^\circ$ và $\sin 70^\circ$ b) $\cos 80^\circ$ và $\cos 50^\circ$ c) $\tan 73^\circ 20'$ và $\tan 65^\circ$ d) $\cot 53^\circ$ và $\cot 37^\circ 40'$

Bài 4. Sắp xếp tỉ số lượng giác sau theo thứ tự từ lớn đến bé:

a) $\tan 12^\circ, \cot 61^\circ, \tan 28^\circ, \cot 79^\circ 15', \tan 58^\circ$

b) $\cos 67^\circ, \sin 56^\circ, \cos 63^\circ 41', \sin 74^\circ, \cos 85^\circ$

Dạng 3. Dựng góc nhọn α biết tỉ số lượng giác của nó là $\frac{m}{n}$.

Phương pháp giải: Dựng một tam giác vuông có hai cạnh là m và n trong đó m và n là hai cạnh góc vuông hoặc một cạnh góc vuông và một cạnh huyền rồi vận dụng định nghĩa tỉ số lượng giác để nhận ra góc α .

❖ *Giáo viên hướng dẫn học sinh giải bài tập sau:*

TUYỂN TẬP CHUYÊN ĐỀ BỒI DƯỠNG TOÁN

Bài 5. Dựng góc nhọn α biết rằng:

a) $\sin \alpha = \frac{3}{5}$

b) $\cos \alpha = \frac{4}{7}$

c) $\tan \alpha = \frac{3}{2}$

d) $\cot \alpha = \frac{5}{6}$.

Bài 6. Dựng góc nhọn α biết rằng:

a) $\sin \alpha = \frac{2}{3}$

b) $\cos \alpha = \frac{2}{5}$

c) $\tan \alpha = \frac{3}{2}$

d) $\cot \alpha = \frac{4}{5}$.

C. BÀI TẬP VỀ NHÀ

Bài 7. Cho tam giác ABC vuông tại A . Biết $AB = 30\text{cm}$, $\hat{B} = \alpha$, $\tan \alpha = \frac{5}{12}$. Tính cạnh BC, AC .

Bài 8. Cho tam giác ABC vuông tại A . Đường cao AH . Tính $\sin B, \sin C$ biết rằng:

a) $AB = 13, BH = 5$

b) $BH = 3, CH = 4$.

Bài 9. Dựng góc nhọn α biết rằng:

a) $\sin \alpha = \frac{1}{2}$

b) $\cos \alpha = \frac{2}{3}$

c) $\tan \alpha = \frac{4}{5}$

d) $\cot \alpha = \frac{3}{4}$.

Bài 10. Sắp xếp tỉ số lượng giác sau theo thứ tự từ lớn đến bé:

a) $\sin 35^\circ, \cos 28^\circ, \sin 34^\circ 72', \cos 62^\circ, \sin 45^\circ$;

b) $\cos 37^\circ, \cos 65^\circ 30', \sin 72^\circ, \cos 59^\circ, \sin 47^\circ$.

Bài 11. Tính giá trị biểu thức:

$$A = \cos^2 52^\circ \sin 45^\circ + \sin^2 52^\circ \cos 45^\circ;$$

$$B = \sin 45^\circ \cos^2 47^\circ + \sin^2 47^\circ \cos 45^\circ.$$

Bài 12. Tìm $\cos \alpha, \tan \alpha, \cot \alpha$ biết $\sin \alpha = \frac{1}{5}$.

Bài 13. Cho tam giác ABC vuông tại A , $\hat{C} = 30^\circ, BC = 10\text{cm}$.

a) Tính độ dài các cạnh AB, AC .

b) Kẻ từ A các đường thẳng AM, AN lần lượt vuông góc với các đường phân giác trong và ngoài của góc B . Chứng minh $MN \parallel BC$ và $MN = BC$.

TUYỂN TẬP CHUYÊN ĐỀ BỒI DƯỠNG TOÁN

c) Chứng minh tam giác MAB đồng dạng với tam giác ABC . Tìm tỉ số đồng dạng.

Bài 14. Không dùng máy tính hoặc bảng số, hãy tính:

a) $A = \cos^2 20^\circ + \cos^2 30^\circ + \cos^2 40^\circ + \cos^2 50^\circ + \cos^2 60^\circ + \cos^2 70^\circ$

b) $B = \sin^2 5^\circ + \sin^2 25^\circ + \sin^2 45^\circ + \sin^2 65^\circ + \sin^2 85^\circ$.

Bài 15. Cho tam giác ABC vuông tại A , $AB < AC$, $\hat{C} = \alpha = 45^\circ$, đường trung tuyến AM , đường cao AH , $MA = MB = MC = a$. Chứng minh:

a) $\sin 2\alpha = 2\sin \alpha \cos \alpha$;

b) $1 + \cos 2\alpha = 2\cos^2 \alpha$;

c) $1 - \cos 2\alpha = 2\sin^2 \alpha$.

TUYỂN TẬP CHUYÊN ĐỀ BỒI DƯỠNG TOÁN

VẤN ĐỀ 6. MỘT SỐ HỆ THỨC VỀ CẠNH VÀ GÓC TRONG TAM GIÁC VUÔNG (PHẦN I)

A. TÓM TẮT LÝ THUYẾT

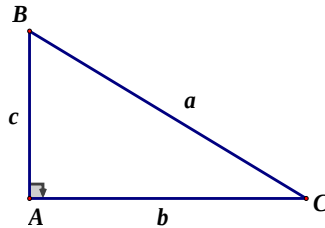
- Cho tam giác ABC vuông tại A , có $BC = a, AC = b, AB = c$. Ta có:

$$b = a \cdot \sin B = a \cdot \cos C;$$

$$c = a \cdot \sin C = a \cdot \cos B;$$

$$b = c \cdot \tan B = c \cdot \cot C;$$

$$c = b \cdot \tan C = b \cdot \cot B.$$



- Trong một tam giác vuông
Cạnh góc vuông = (cạnh huyền) \times (sin góc đối) = (cạnh huyền) \times (cos góc kề)
Cạnh góc vuông = (Cạnh góc vuông) \times (tan góc đối) = (cạnh góc vuông còn lại) \times (cot góc kề).

B. BÀI TẬP VÀ CÁC DẠNG TOÁN

Dạng 1. Giải tam giác vuông

Phương pháp giải:

- Giải tam giác vuông là tính độ dài các cạnh và số đo các góc dựa vào dữ kiện cho trước của bài toán
- Để giải tam giác vuông, ta dùng hệ thức giữa cạnh và các góc của một tam giác vuông và sử dụng máy tính cầm tay hoặc bảng lượng giác để tính các yếu tố còn lại.
- Các bài toán về giải tam giác vuông bao gồm:
 - Giải tam giác vuông khi biết độ dài một cạnh và số đo một góc nhọn.
 - Giải tam giác vuông khi biết độ dài hai cạnh.

❖ Giáo viên hướng dẫn học sinh giải bài tập sau:

Bài 1. Cho tam giác ABC vuông tại A , có $BC = a, AC = b, AB = c$. Giải tam giác vuông ABC biết rằng:

a) $b = 10\text{cm}; \hat{C} = 30^\circ$

b) $a = 20\text{cm}; \hat{B} = 35^\circ$.

TUYỂN TẬP CHUYÊN ĐỀ BỒI DƯỠNG TOÁN

Bài 2. Cho tam giác ABC vuông tại A , có $BC = a, AC = b, AB = c$. Giải tam giác vuông ABC biết rằng:

a) $a = 15\text{cm}; b = 10\text{cm}$

b) $b = 12\text{cm}; c = 7\text{cm}$.

❖ Học sinh tự luyện những bài tập sau tại lớp:

Bài 3. Cho tam giác ABC vuông tại A , có $BC = a, AC = b, AB = c$. Giải tam giác vuông ABC biết rằng:

a) $b = 28\text{cm}; c = 21\text{cm}$

b) $a = 10\text{cm}; b = 6\text{cm}$

Bài 4. Cho tam giác ABC vuông tại A , có $BC = a, AC = b, AB = c$. Giải tam giác vuông ABC biết rằng:

a) $c = 3,8\text{cm}, \hat{B} = 51^\circ$

b) $a = 11\text{cm}; \hat{C} = 60^\circ$.

Dạng 2. Tính các cạnh và góc của tam giác

Phương pháp giải: Làm xuất hiện tam giác vuông để áp dụng các hệ thức lượng trên bằng cách kẻ thêm đường cao.

❖ Giáo viên hướng dẫn học sinh giải bài tập sau:

Bài 5. Cho tam giác ABC có $BC = 11\text{cm}, \hat{A} = 38^\circ$ và $\hat{A} = 30^\circ$. Gọi N là chân đường vuông góc hạ từ A xuống cạnh BC . Hãy tính:

a) Độ dài đoạn thẳng AN ;

b) Độ dài đoạn thẳng AC .

Bài 6. Cho tam giác ABC , có $BC = 6\text{cm}, \hat{B} = 60^\circ, \hat{C} = 40^\circ$. Hãy tính:

a) Chiều cao CH và cạnh AC

b) Diện tích tam giác ABC .

❖ Học sinh tự luyện những bài tập sau tại lớp:

Bài 7. Cho tam giác ABC có $\hat{B} = 60^\circ, \hat{C} = 50^\circ, AC = 3,5\text{cm}$. Tính diện tích tam giác ABC (làm tròn đến hàng đơn vị).

Bài 8. Cho tứ giác $ABCD$ có các đường chéo cắt nhau tại O . Cho biết $AC = 4\text{cm}, BD = 5\text{cm}, \hat{AOB} = 50^\circ$. Tính diện tích tứ giác $ABCD$.

C. BÀI TẬP VỀ NHÀ

TUYỂN TẬP CHUYÊN ĐỀ BỒI DƯỠNG TOÁN

Bài 9. Cho tam giác ABC vuông tại A , có $BC = a, AC = b, AB = c$. Giải tam giác vuông ABC biết rằng:

a) $b = 5,4\text{cm}, \hat{C} = 30^\circ$

b) $c = 10\text{cm}, \hat{C} = 45^\circ$

Bài 10. Cho tam giác ABC vuông tại A , có $BC = a, AC = b, AB = c$. Giải tam giác vuông ABC biết rằng:

a) $a = 15\text{cm}, b = 10\text{cm}$

b) $b = 12\text{cm}; c = 7\text{cm}.$

Bài 11. Cho tam giác ABC vuông tại B . Giải tam giác ABC biết rằng:

a) $\hat{A} = 40^\circ, AC = 8$

b) $\hat{C} = 28^\circ, AB = 5$

c) $AB = 8, BC = 15$

Bài 12. Cho tam giác ABC có $\hat{B} = 60^\circ, \hat{C} = 50^\circ, AC = 35\text{cm}$. Tính diện tích tam giác ABC .

Bài 13. Cho tứ giác $ABCD$ có $\hat{A} = \hat{D} = 90^\circ, \hat{C} = 40^\circ, AB = 4\text{cm}, AD = 3\text{cm}$. Tính diện tích tứ giác $ABCD$.

Bài 14. Cho tam giác ABC vuông tại A , có đường cao AH ; $HB = 9\text{cm}, HC = 16\text{cm}$.

a) Tính AB, AC, AH .

a) Gọi D và E lần lượt là hình chiếu vuông góc của H trên AB, AC . Tứ giác $ADHE$ là hình gì?

b) Tính chu vi và diện tích của tứ giác $ADHE$.

Bài 15. Cho tam giác ABC vuông tại A , biết $AB = 3\text{cm}, BC = 5\text{cm}$

a) Giải tam giác vuông ABC (số đo góc làm tròn đến độ)

b) Từ B kẻ đường thẳng vuông góc với BC , đường thẳng này cắt đường thẳng AC tại D .

Tính độ dài các đoạn thẳng AD, BD .

c) Gọi E, F lần lượt là hình chiếu của A , trên BC và BD . Chứng minh $BF \cdot BD = BE \cdot BC$.

TUYỂN TẬP CHUYÊN ĐỀ BỒI DƯỠNG TOÁN

VẤN ĐỀ 7. MỘT SỐ HỆ THỨC VỀ CẠNH VÀ GÓC TRONG TAM GIÁC VUÔNG (PHẦN II)

A. TÓM TẮT LÝ THUYẾT

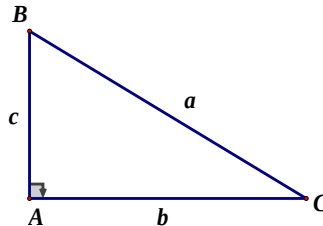
- Cho tam giác ABC vuông tại A có $BC = a, AC = b, AB = c$. Ta có:

$$b = a \cdot \sin B = a \cdot \cos C;$$

$$c = a \cdot \sin C = a \cdot \cos B;$$

$$b = c \cdot \tan B = c \cdot \cot C;$$

$$c = b \cdot \tan C = b \cdot \cot B.$$



- Trong một tam giác vuông
Cạnh góc vuông = (cạnh huyền) \times (sin góc đối) = (cạnh huyền) \times (cos góc kề)
Cạnh góc vuông = (Cạnh góc vuông) \times (tan góc đối) = (cạnh góc vuông còn lại) \times (cot góc kề).

B. BÀI TẬP VÀ CÁC DẠNG TOÁN

Dạng 3. Toán ứng dụng thực tế

Phương pháp giải: Dùng hệ thức liên hệ giữa cạnh và góc trong tam giác vuông để giải quyết tình huống trong thực tế.

- Giáo viên hướng dẫn học sinh giải các bài tập sau:*

Bài 1. Một cột đèn có bóng trên mặt đất dài $7,5m$. Các tia nắng mặt trời tạo với mặt đất một góc xấp xỉ bằng 42° . Tính chiều cao của cột đèn.

Bài 2. Một cầu trượt trong công viên có độ dốc là 28° và có độ cao là $2,1cm$. Tính độ dài của mặt cầu trượt (làm tròn đến chữ số thập phân thứ nhất).

- Học sinh tự luyện các bài tập sau tại lớp.*

Bài 3. Một cột đèn có bóng trên mặt đất là $5m$. Các tia nắng mặt trời tạo với mặt đất một góc xấp xỉ bằng 50° . Tính chiều cao của cột đèn.

Bài 4. Một cột đèn điện AB cao $6m$ có bóng in trên mặt đất là AC dài $3,5m$. Hãy tính góc BCA (làm tròn đến phút) mà tia sáng mặt trời tạo với mặt đất.

Dạng 4. Toán tổng hợp

TUYỂN TẬP CHUYÊN ĐỀ BỒI DƯỠNG TOÁN

Phương pháp giải: Vận dụng linh hoạt một số hệ thức giữa cạnh và góc trong một tam giác vuông để giải toán.

- Giáo viên hướng dẫn học sinh giải bài tập sau:

Bài 5. Cho tam giác ABC vuông tại A , có $AC > AB$. Đường cao AH . Gọi D, E lần lượt là hình chiếu của H trên AB, AC .

a) Chứng minh $AD \cdot AB = AE \cdot AC$ và tam giác ABC đồng dạng với tam giác AED .

b) Cho biết $BH = 2\text{cm}$, $HC = 4,5\text{cm}$. Tính độ dài đoạn thẳng DE .

c) Tính số đo góc ABC (làm tròn đến độ).

d) Tính diện tích tam giác ADE

- Học sinh tự luyện bài tập sau tại lớp:

Bài 6. Cho hình chữ nhật $ABCD$. Qua B kẻ đường thẳng vuông góc với đường chéo AC tại H . Gọi E, F, G theo thứ tự là trung điểm của AH, BH, CD .

a) Chứng minh tứ giác $EF CG$ là hình bình hành.

b) Chứng minh $BEG = 90^\circ$.

c) Cho biết $BH = h$, $\widehat{BAC} = \alpha$. Tính S_{ABCD} theo h và α .

d) Tính độ dài đường chéo AC theo h và α .

C. BÀI TẬP VỀ NHÀ

Bài 7. Cho tam giác ABC vuông tại A biết $AB = 21\text{cm}$, $\widehat{C} = 60^\circ$. Tính độ dài đường phân giác BD của góc \widehat{ABC} , D nằm trên cạnh AC .

Bài 8. Cho tam giác ABC vuông tại A , $\widehat{C} = 30^\circ$, $BC = 10\text{cm}$.

a) Tính AB, AC .

b) Kẻ từ A các đường thẳng AM, AN lần lượt vuông góc với các đường phân giác trong và phân giác ngoài của góc B . Chứng minh MN song song với BC và $2MN = BC$.

c) Chứng minh tam giác MAB đồng dạng với tam giác ABC . Tính tỉ số đồng dạng.

Bài 9. Cho tam giác ABC vuông tại A , có $AC > AB$, đường cao AH . Gọi D, E lần lượt là hình chiếu của H trên AB, AC .

a) Chứng minh $AD \cdot AB = AE \cdot AC$ và tam giác ABC đồng dạng với tam giác AED .

b) Cho biết $BH = 2\text{cm}$, $HC = 4,5\text{cm}$. Tính:

TUYÊN TẬP CHUYÊN ĐỀ BỒI DƯỠNG TOÁN

- i. Độ dài đoạn thẳng DE .
- ii. Số đo \widehat{ABC} (làm tròn đến độ).
- iii. Diện tích tam giác ADE .

Bài 10. Chứng minh:

- a) Diện tích của một tam giác bằng nửa tích của hai cạnh nhân với \sin của góc nhọn tạo bởi các đường thẳng chứa hai cạnh ấy.
- b) Diện tích của một hình bình hành bằng tích của hai cạnh kề nhân với \sin của góc nhọn tạo bởi các đường thẳng chứa hai cạnh ấy.

TUYỂN TẬP CHUYÊN ĐỀ BỒI DƯỠNG TOÁN

ÔN TẬP CHỦ ĐỀ 3

A. TÓM TẮT LÝ THUYẾT

1. Hệ thức về cạnh và đường cao trong tam giác vuông

Cho tam giác ABC vuông tại A , đường cao AH . Khi đó ta có các hệ thức sau:

- $AB^2 = BH \cdot BC$ hay $c^2 = ac'$
- $AC^2 = CH \cdot BC$ hay $b^2 = ab'$
- $AB \cdot AC = BC \cdot AH$ hay $cb = ah$
- $HA^2 = HB \cdot HC$ hay $h^2 = c'b'$
- $\frac{1}{AH^2} = \frac{1}{AB^2} + \frac{1}{AC^2}$

$$\text{Hay } \frac{1}{h^2} = \frac{1}{c^2} + \frac{1}{b^2}$$

- $BC^2 = AB^2 + AC^2$ (Định lý Pitago)

2. Tỷ số lượng giác của góc nhọn

- Cho góc nhọn α ($0^\circ < \alpha < 90^\circ$). Dựng tam giác vuông BAC sao cho $\alpha = \angle ABC$. Từ đó ta có:

$$\cos \alpha = \frac{AB}{BC}; \quad \sin \alpha = \frac{AC}{BC}; \quad \tan \alpha = \frac{AC}{AB}; \quad \cot \alpha = \frac{AB}{AC}.$$

- Với góc nhọn α bất kỳ ta luôn có:

$$0 < \sin \alpha < 1; \quad 0 < \cos \alpha < 1.$$

$$\tan \alpha = \frac{\sin \alpha}{\cos \alpha}; \quad \cot \alpha = \frac{\cos \alpha}{\sin \alpha}; \quad \tan \alpha \cdot \cot \alpha = 1;$$

$$\sin^2 \alpha + \cos^2 \alpha = 1; \quad 1 + \tan^2 \alpha = \frac{1}{\cos^2 \alpha}; \quad 1 + \cot^2 \alpha = \frac{1}{\sin^2 \alpha}$$

- Nếu hai góc phụ nhau thì \sin góc này bằng \cos góc kia, \tan góc này bằng \cot góc kia.
- **Bảng tỷ số lượng giác của các góc đặc biệt:**

α	30°	45°	60°
Tỷ số			
$\sin \alpha$	$\frac{1}{2}$	$\frac{\sqrt{2}}{2}$	$\frac{\sqrt{3}}{2}$

TUYỂN TẬP CHUYÊN ĐỀ BỒI DƯỠNG TOÁN

$\cos \alpha$	$\frac{\sqrt{3}}{2}$	$\frac{\sqrt{2}}{2}$	$\frac{1}{2}$
$\tan \alpha$	$\frac{\sqrt{3}}{3}$	1	$\sqrt{3}$
$\cot \alpha$	$\sqrt{3}$	1	$\frac{\sqrt{3}}{3}$

3. Hệ thức về cạnh và góc trong tam giác vuông

- Cho tam giác ABC vuông tại A có $BC = a$, $AC = b$, $AB = c$. Ta có:

$$b = a \cdot \sin B = a \cdot \cos C$$

$$c = a \cdot \sin C = a \cdot \cos B$$

$$b = c \cdot \tan B = c \cdot \cot C$$

$$c = b \cdot \tan C = b \cdot \cot B$$

- Trong một tam giác vuông

$$\text{Cạnh góc vuông} = (\text{cạnh huyền}) \times (\sin \text{ góc đối})$$

$$= (\text{cạnh huyền}) \times (\cos \text{ góc kề})$$

$$\text{Cạnh góc vuông} = (\text{cạnh góc vuông}) \times (\tan \text{ góc đối})$$

$$= (\text{cạnh góc vuông}) \times (\cot \text{ góc kề})$$

B. BÀI TẬP TỰ LUYỆN.

Bài 1. Cho tam giác ABC vuông tại A , đường cao AH . Trong các đoạn thẳng AB , AC , BC , AH , HB , HC , hãy tính độ dài các đoạn thẳng còn lại nếu biết:

a) $AB = 6\text{cm}$ và $AC = 9\text{cm}$

b) $AB = 15\text{cm}$ và $HB = 9\text{cm}$

c) $AC = 44\text{cm}$ và $BC = 55\text{cm}$

Bài 2. Cho tam giác ABC vuông tại A , ($AB < AC$) có đường cao AH và $AH = 12\text{cm}$, $BC = 25\text{cm}$.

a) Tìm độ dài các đoạn thẳng BH , CH , AB và AC .

b) Vẽ trung tuyến AM . Tìm số đo của góc \widehat{AMH} .

c) Tính diện tích tam giác AHM .

Bài 3. Cho tam giác ABC có đường cao CH , $BC = 12\text{cm}$, $\widehat{B} = 60^\circ$ và $\widehat{C} = 40^\circ$.

a) Tính độ dài các đoạn thẳng CH và AC .

TUYỂN TẬP CHUYÊN ĐỀ BỒI DƯỠNG TOÁN

b) Tính diện tích tam giác ABC .

Bài 4. Cho tam giác ABC vuông tại A , đường cao AH , $AB = 3\text{cm}$, $AC = 4\text{cm}$.

a) Tính độ dài các đoạn thẳng BC và AH

b) Tính số đo các góc \hat{B} và \hat{C} .

c) Đường phân giác trong góc \hat{A} cắt cạnh BC tại E . Tính độ dài các đoạn thẳng BE và CE .

Bài 5. Cho tam giác nhọn ABC có đường cao AH . Từ H kẻ HE vuông góc với AB (E thuộc AB) và kẻ HF vuông góc với AC (F thuộc AC).

a) Chứng minh $AE \cdot AB = AF \cdot AC$.

b) Cho biết $AB = 4\text{cm}$, $AH = 3\text{cm}$. Tính độ dài các đoạn thẳng AE và BE .

c) Cho biết $\hat{HAC} = 30^\circ$. Tính độ dài đoạn thẳng FC .

Bài 6. Tứ giác $MNEF$ vuông tại M , F , có EF là đáy lớn, hai đường chéo ME và NF vuông góc với nhau tại O .

a) Cho biết $MN = 9\text{cm}$ và $MF = 12\text{cm}$. Hãy:

i. Giải tam giác MNF .

ii. Tính độ dài các đoạn thẳng MO và FO .

iii. Kẻ NH vuông góc với EF tại H . Tính diện tích tam giác FNE . Từ đó tính diện tích tam giác FOH .

b) Chứng minh $MF^2 = MN \cdot FE$.

Bài 7. Cho tam giác DEF biết $DE = 6\text{cm}$, $DF = 8\text{cm}$, $EF = 10\text{cm}$.

a) Chứng minh tam giác DEF là tam giác vuông.

b) Vẽ đường cao DK . Hãy tính DK , FK .

c) Giải tam giác vuông EDK .

d) Vẽ phân giác trong DM của tam giác DEF . Tính các độ dài các đoạn thẳng ME , MF .

e) Tính $\sin F$ trong các tam giác vuông DFK và DEF . Từ đó suy ra $ED \cdot DF = DK \cdot EF$.

Bài 8. Cho tam giác ABC vuông tại A , $\hat{B} = 60^\circ$ và $BC = 6\text{cm}$.

a) Tính độ dài các cạnh AB , AC .

b) Trên tia đối của tia BA lấy điểm D sao cho $BD = BC$. Chứng minh $\frac{AB}{BD} = \frac{AC}{CD}$.

TUYỂN TẬP CHUYÊN ĐỀ BỒI DƯỠNG TOÁN

c) Đường thẳng song song với phân giác góc $\angle B$ kẻ từ A cắt CD tại H . Chứng minh

$$\frac{1}{AH^2} = \frac{1}{AC^2} + \frac{1}{AD^2}.$$

Bài 9. Cho hình vuông $ABCD$ và điểm E tùy ý trên cạnh BC . Tia Ax vuông góc với AE tại A cắt CD kéo dài tại F . Kẻ trung tuyến AI của tam giác AEF và kéo dài cắt cạnh CD tại K .

a) Chứng minh $AE = AF$.

b) Chứng minh các tam giác AKF , CAF đồng dạng và $AF^2 = KF \cdot CF$.

c) Cho $AB = 4\text{cm}$, $BE = \frac{3}{4}BC$. Tính diện tích tam giác AEF .

d) AE kéo dài cắt CD tại J . Chứng minh $\frac{1}{AE^2} + \frac{1}{AJ^2}$ không phụ thuộc vào vị trí của điểm E .

Bài 10. Không dùng máy tính, sắp xếp các tỉ số lượng giác sau theo thứ tự từ bé đến lớn:

a) $\sin 24^\circ$, $\cos 35^\circ$, $\sin 54^\circ$, $\cos 70^\circ$, $\sin 78^\circ$.

b) $\cot 24^\circ$, $\tan 16^\circ$, $\cot 57^\circ 67'$, $\cot 30^\circ$, $\tan 80^\circ$.

Bài 11. Không dùng máy tính, sắp xếp các tỉ số lượng giác sau theo thứ tự tăng dần:

a) $\sin 40^\circ$, $\cos 28^\circ$, $\sin 65^\circ$, $\cos 88^\circ$, $\cos 20^\circ$.

b) $\tan 32^\circ 48'$, $\cot 28^\circ 36'$, $\tan 56^\circ 32'$, $\cot 67^\circ 18'$.

Bài 12. Cho α là góc nhọn.

a) Tính $\sin \alpha$, $\cot \alpha$, $\tan \alpha$ biết $\cos \alpha = \frac{1}{5}$.

b) Tính $\cos \alpha$, $\tan \alpha$, $\cot \alpha$ biết $\sin \alpha = \frac{2}{3}$.

c) Cho $\tan \alpha = 2$. Tính $\sin \alpha$, $\cos \alpha$, $\cot \alpha$.

d) Cho $\cot \alpha = 3$. Tính $\sin \alpha$, $\cos \alpha$, $\tan \alpha$.

Bài 13. Một cột cờ cao 7m có bóng trên mặt đất dài 4m . Tính góc α mà các tia sáng mặt trời tạo với mặt đất (làm tròn đến phút).

Bài 14. Một cột đèn có bóng trên mặt đất dài $6,5\text{m}$, các tia sáng mặt trời tạo với mặt đất một góc xấp xỉ 44° . Tính chiều cao của cột đèn.

TUYỂN TẬP CHUYÊN ĐỀ BỒI DƯỠNG TOÁN

Bài 15. a) Tính giá trị của biểu thức $A = \cos^2 20^\circ + \cos^2 40^\circ + \cos^2 50^\circ + \cos^2 70^\circ$.

b) Rút gọn biểu thức $B = \sin^6 \alpha + \cos^6 \alpha + 3\sin^2 \alpha - \cos^2 \alpha$.

Bài 16. Cho $0^\circ < x < 90^\circ$. Hãy chứng minh các đẳng thức sau:

a) $\sin^4 x + \cos^4 x = 1 - 2\sin^2 x \cos^2 x$.

b) $\sin^6 x + \cos^6 x = 1 - 3\sin^2 x \cos^2 x$.

c) $\sin^4 x - \cos^4 x = 1 - 2\cos^2 x$.

Bài 17. Cho $0^\circ < x < 90^\circ$. Hãy chứng minh các đẳng thức sau:

a) $\frac{1 - \cos x}{\sin x} = \frac{\sin x}{1 + \cos x}$

b) $\frac{\sin x}{1 + \cos x} + \frac{1 + \cos x}{\sin x} = \frac{2}{\sin x}$

c) $\frac{\sin x + \cos x - 1}{1 - \cos x} = \frac{2 \cos x}{\sin x - \cos x + 1}$

ĐÁP ÁN

VẤN ĐỀ 1

Bài 1. Hình 1: $x = 3,6$; $y = 6,4$; Hình 2: $x = 7,2$; $y = 12,8$; Hình 3: $x = \frac{35\sqrt{74}}{74}$; $y = \sqrt{74}$

Bài 2. a) $BH = 1,8$; $CH = 3,2$; $AH = 2,4$; $BC = 5$

b) $AB = 15$; $AC = 20$; $BC = 25$; $AH = 12$

Bài 3. $BH = 5,4$; $HC = 9,6$

Bài 4. $BH = 4,5$; $CH = 8$

Bài 5. $x = \sqrt{5}$; $y = 2\sqrt{5}$

Bài 6. a) $BH = 1,8 \text{ cm}$; $CH = 3,2 \text{ cm}$; $AH = 2,4 \text{ cm}$; $AC = 4 \text{ cm}$

b) $AB = 65 \text{ cm}$; $AC = 156 \text{ cm}$; $BC = 169 \text{ cm}$; $BH = 25 \text{ cm}$

TUYỂN TẬP CHUYÊN ĐỀ BỒI DƯỠNG TOÁN

c) $AB = 5 \text{ cm}$, $BC = 13 \text{ cm}$, $BH = \frac{25}{13} \text{ cm}$, $CH = \frac{144}{13} \text{ cm}$

Bài 7. $BH = 50 \text{ cm}$, $CH = 72 \text{ cm}$

Bài 8. $BH = 9 \text{ cm}$, $CH = 16 \text{ cm}$

Bài 9. $BH = \frac{32}{17} \text{ cm}$, $CH = \frac{225}{34} \text{ cm}$

Bài 10. a) $AB = 7,5 \text{ cm}$; $AC = 10 \text{ cm}$; $BC = 12,5 \text{ cm}$; $HC = 8 \text{ cm}$

b) $AH = 3\sqrt{3} \text{ cm}$; $AC = 6\sqrt{3} \text{ cm}$; $CH = 9 \text{ cm}$

Bài 11. $S = 150 \text{ cm}^2$

Bài 12. a) $AH = 3,6 \text{ cm}$; b) $BH = 4,8 \text{ cm}$; $CH = 2,7 \text{ cm}$

Bài 13. Đường cao: $6,72$; Độ dài hai đoạn chia cạnh huyền: $1,96$; $23,04$

Bài 14. $HB = \frac{75}{7} \text{ cm}$; $HC = 21 \text{ cm}$

Bài 15. $AB = 9 \text{ cm}$; $BC = 20 \text{ cm}$; $BD = 15 \text{ cm}$

VẤN ĐỀ 2

Bài 1. a) $CD \cdot CM = CE \cdot CN (=CH^2)$; b) $\triangle CMN \sim \triangle CDE$ (c.g.c) vì \hat{C} chung và $\frac{CM}{CE} = \frac{CN}{CD}$

Bài 2. a) $\triangle ADI = \triangle CDL$ (g.c.g) $\Rightarrow DI = DL \Rightarrow \triangle DIL$ là tam giác cân

b) $\frac{1}{DI^2} + \frac{1}{DK^2} = \frac{1}{DL^2} + \frac{1}{DK^2} = \frac{1}{DC^2}$

Bài 3. a) $AB^2 + CH^2 = (BH^2 + AH^2) + CH^2 = BH^2 + (AH^2 + CH^2) = BH^2 + AC^2$

b) Làm tương tự câu a) bài 1, có $AM \cdot AB = AN \cdot AC (=AH^2)$

Bài 4. $\frac{1}{OA^2} + \frac{1}{OB^2} = \frac{4}{AC^2} + \frac{4}{BD^2} \Rightarrow$ đpcm

Bài 5. a) $BD = 17$; b) $AH = \frac{120}{17}$

TUYỂN TẬP CHUYÊN ĐỀ BỒI DƯỠNG TOÁN

c) $\Delta BHI \sim \Delta KCI$ (g.g) $\Rightarrow \frac{HI}{KI} = \frac{BI}{IC} \Rightarrow \Delta HKD \sim \Delta HBI$ (g.g)
 $\Rightarrow \frac{HK}{HB} = \frac{HD}{HI} \Leftrightarrow HK \cdot HI = HD \cdot HB = AH^2$

Bài 6. a) $OB = 9 \text{ cm}, OD = 16 \text{ cm};$ b) $OA = 12, AC = \frac{100}{3};$ c) $S_{ABC} = \frac{1250}{3} \text{ cm}^2$

Bài 7. a) $\frac{EB}{FC} = \frac{HB^2}{AB} : \frac{HC^2}{AC} = \left(\frac{AB^2}{BC} : \frac{AC^2}{BC} \right) \cdot \frac{AC}{AB} = \left(\frac{AB}{AC} \right)^4 \cdot \frac{AC}{AB} = \left(\frac{AB}{AC} \right)^3$

b) $BC \cdot BE \cdot CF = BC \cdot \frac{HB^2}{AB} \cdot \frac{HC^2}{AC} = \frac{BC}{AB \cdot AC} \cdot (HB \cdot HC)^2 = \frac{1}{AH} \cdot AH^4 = AH^3$

Bài 8. a) AH là đường trung bình của $\Delta BCD \Rightarrow BD = 2AH$

b) $\frac{1}{BK^2} = \frac{1}{BC^2} + \frac{1}{BD^2} = \frac{1}{BC^2} + \frac{1}{4AH^2}$

VẤN ĐỀ 3.

Bài 1. a) $DE = 6 \text{ cm};$ b) Chứng minh M là trung điểm của BH, N là trung điểm của CH

c) $S = 19,5 \text{ cm}$

Bài 2. a) $\frac{AB^2}{AC^2} = \frac{HB \cdot BC}{HC \cdot BC} = \frac{HB}{HC}$

b) $\frac{BD}{EC} = \frac{HB^2}{AB} : \frac{HC^2}{AC} = \left(\frac{AB^2}{BC} : \frac{AC^2}{BC} \right) \cdot \frac{AC}{AB} = \left(\frac{AB}{AC} \right)^4 \cdot \frac{AC}{AB} = \left(\frac{AB}{AC} \right)^3$

c) $BD \cdot CE \cdot BC = \frac{HB^2}{AB} \cdot \frac{HC^2}{AC} \cdot BC = (HB \cdot HC)^2 \cdot \frac{BC}{AB \cdot AC} = AH^4 \cdot \frac{1}{AH} = AH^3 = DE^3$

d) $\sqrt[3]{BC^2} = \sqrt[3]{BD^2} + \sqrt[3]{CE^2} \Leftrightarrow \sqrt[3]{\frac{BC^2}{CE^2}} = \sqrt[3]{\frac{BD^2}{CE^2}} + 1 \Leftrightarrow \sqrt[3]{\frac{BC^2}{CE^2}} = \left(\frac{AB}{AC} \right)^2 + 1$

$\Leftrightarrow \sqrt[3]{\frac{BC^2}{CE^2}} = \left(\frac{BC}{AC} \right)^2 \Leftrightarrow \left(\frac{BC}{CE} \right) = \left(\frac{BC}{AC} \right)^3 \Leftrightarrow \left(\frac{AC}{BC} \right)^2 = \frac{CE}{AC}$

$\Leftrightarrow \sin^2 \angle ABC = \frac{CE \cdot AC}{AC^2} = \frac{HC^2}{AC^2} = \cos \angle ACB$ (dpcm)

Bài 3. a) $BH = 3,6 \text{ cm}; CH = 6 \text{ cm}; AH = 4,8 \text{ cm}; BC = 10 \text{ cm}$

b) $BH = 3,6 \text{ cm}; CH = 6,4 \text{ cm}; AH = 4,8 \text{ cm}; AC = 8 \text{ cm}$

TUYỂN TẬP CHUYÊN ĐỀ BỒI DƯỠNG TOÁN

Bài 4. Cạnh huyền: 100 cm ; các cạnh góc vuông: 60 cm và 80 cm

Bài 5. $HB = 22\text{ cm}$; $HC = 12,6\text{ cm}$

Bài 6. $S = \frac{34560}{169} \approx 204,5\text{ cm}^2$

Bài 7. a) $AB = 4\text{ cm}$, $AB = 2\sqrt{5}\text{ cm}$, $AC = 4\sqrt{5}\text{ cm}$, $BC = 10\text{ cm}$

b) $AB = \frac{5\sqrt{281}}{16}$, $AC = \sqrt{281}$, $BC = \frac{281}{16}$, $BH = \frac{25}{16}$

Bài 8. $BH = 9\text{ cm}$, $CH = 16\text{ cm}$

Bài 9. Tương tự bài 3

Bài 10. $P = 35 + 21\sqrt{5} \approx 81,95\text{ cm}$

Bài 11. $S = 150\text{ cm}^2$

Bài 12. a) $BC = 6\text{ cm}$; $CK = 4,8\text{ cm}$; $BK = 3,6\text{ cm}$; $AK = 6,4\text{ cm}$

b) $CB \cdot CH = CK^2 = CA \cdot CI$

c) $\frac{1}{KM^2} = \frac{1}{HK^2} + \frac{1}{KI^2} = \frac{1}{CH^2} + \frac{1}{CI^2}$

d) $\frac{AI}{BH} = \frac{KA^2}{AC} : \frac{KB^2}{BC} = \left(\frac{AC^2}{AB} : \frac{BC^2}{AB} \right)^2 \cdot \frac{BC}{AC} = \left(\frac{AC}{BC} \right)^4 \cdot \frac{BC}{AC} = \left(\frac{AC}{BC} \right)^3$

VẤN ĐỀ 4.

BÀI 1. $\sin B = \frac{3}{5}$; $OK = \sqrt{41}$; $OH = 3$

Bài 2. a) $\sin B = \frac{12}{13} \approx 0,9231$; $\sin C = \frac{5}{13} \approx 0,3846$

b) $\sin B = \sqrt{\frac{4}{7}} \approx 0,7559$; $\sin C = \sqrt{\frac{3}{7}} \approx 0,6547$

Bài 3. a) Vì $OK = 2\sqrt{2}$

TUYÊN TẬP CHUYÊN ĐỀ BỒI DƯỠNG TOÁN

$$b) \sin B = \cos A = \frac{\sqrt{10}}{5}; \cos B = \sin A = \frac{\sqrt{15}}{5}; \tan B = \cot A = \frac{\sqrt{6}}{3}; \cot B = \tan A = \frac{3}{\sqrt{6}}$$

Bài 4. $\cos C = 0,8; \sin C = 0,6; \cot C = \frac{4}{3}; \tan C = \frac{3}{4}$

Bài 5. $AC = 8; BC = \sqrt{89}$

Bài 6. $\sin B = \cos C = \frac{3}{5}; \cos B = \sin C = \frac{4}{5}; \tan B = \cot C = \frac{3}{4}; \cot B = \tan C = \frac{4}{3}$

Bài 7. a) Vì $HN = \frac{18\sqrt{13}}{13}$

$$b) \sin B = \cos C = \frac{\sqrt{10}}{15}; \cos B = \sin C = \frac{\sqrt{15}}{5}; \tan B = \cot C = \frac{\sqrt{6}}{3}; \cot B = \tan C = \frac{3}{\sqrt{6}}$$

Bài 8. $\sin C = 0,8; \cos C = 0,6; \cot C = \frac{3}{4}; \tan C = \frac{4}{3}$

Bài 9. $AC = \frac{5}{3}; BC = \frac{13}{2}$

Bài 10. $O \in Oy$

Bài 11. $AC = 72; BC = 12\sqrt{61}$

Bài 12. $\sin \alpha = \frac{2\sqrt{6}}{5}; \tan \alpha = 2\sqrt{6}; \cot \alpha = \frac{\sqrt{6}}{12}$

Bài 13. a) $AC = 9; BC = 15$

b) $AC = 9\sqrt{17}; AC = 5$

Bài 14. a) $AB = 5\sqrt{3}; AC = 5$

b) $ANBM$ là hình chữ nhật vì $AN // BM; AN = BM$

c) $\Delta MAB \sim \Delta ACB$ (g - g)

VẤN ĐỀ 5.

TUYỂN TẬP CHUYÊN ĐỀ BỒI DƯỠNG TOÁN

Bài 1. a) $\sin 20^\circ < \sin 70^\circ$; b) $\cos 60^\circ > \cos 70^\circ$; c) $\tan 73^\circ 20' > \tan 45^\circ$; d) $\cot 20^\circ > \cot 37^\circ 40'$ **Bài 2.**

a) $\cot 71^\circ (= \tan 19^\circ) < \cot 69^\circ 15' (= \tan 20^\circ 85') < \tan 28^\circ < \tan 38^\circ < \tan 42^\circ$

b) $\cos 79^\circ 13' = \sin 10^\circ 87' < \sin 32^\circ < \sin 38^\circ < \cos 51^\circ = \sin 39^\circ$

Bài 3. a) $\sin 40^\circ < \sin 70^\circ$; b) $\cos 80^\circ < \cos 50^\circ$; c) $\tan 73^\circ 20' > \tan 65^\circ$; d) $\cot 53^\circ < \cot 37^\circ 40'$

Bài 4. a) $\cot 79^\circ 15' = \tan 10^\circ 85' < \tan 12^\circ < \tan 28^\circ < \cot 61^\circ (= \tan 29^\circ) < \tan 58^\circ$

b) $\cos 85^\circ < \cos 67^\circ (= \sin 23^\circ) < \cos 63^\circ 41' (= \sin 26^\circ 59') < \sin 56^\circ < \sin 74^\circ$

Bài 5. Dựng một tam giác vuông có

a) Độ dài cạnh góc vuông là 3, cạnh huyền là 5, góc đối diện với cạnh góc vuông đó là α

b) độ dài cạnh góc vuông là 4, cạnh huyền là 7, góc giữa cạnh góc vuông và cạnh huyền đó là α

c) Độ dài hai cạnh góc vuông là 3 và 2, góc đối diện với cạnh góc vuông có độ dài 3 là α

d) Độ dài hai cạnh góc vuông là 5 và 6, góc đối diện với cạnh góc vuông độ dài 6 là góc α

Bài 6. Dựng một tam giác vuông có

a) Độ dài cạnh góc vuông là 2, cạnh huyền là 3, góc đối diện với cạnh góc vuông đó là góc α

b) Độ dài cạnh góc vuông là 2, cạnh huyền là 5 góc giữa cạnh góc vuông với cạnh huyền đó là góc α

c) Độ dài hai cạnh góc vuông là 3 và 2, góc đối diện với cạnh góc vuông có độ dài 3 là α

d) Độ dài hai cạnh góc vuông là 4 và 5, góc đối diện với cạnh góc vuông độ dài 5 là góc α

Bài 7. $BC = 32,5 \text{ cm}$; $AC = 12,5 \text{ cm}$

Bài 8. a) $\sin B = \frac{12}{13}$; $\sin C = \frac{5}{13}$

TUYỂN TẬP CHUYÊN ĐỀ BỒI DƯỠNG TOÁN

$$b) \sin B = \frac{2}{\sqrt{7}}; \sin C = \frac{\sqrt{21}}{7}$$

Bài 9. Dựng một tam giác vuông có

a) Độ dài cạnh góc vuông là 1, cạnh huyền là 2, góc đối diện với cạnh góc vuông đó là α

b) Độ dài cạnh góc vuông là 2, cạnh huyền là 3, góc giữa cạnh góc vuông và cạnh huyền đó là α

c) Độ dài hai cạnh góc vuông là 4 và 5, góc đối diện với cạnh góc vuông có độ dài 4 là góc α

d) Độ dài hai cạnh góc vuông là 4 và 5, góc đối diện với cạnh góc vuông có độ dài 4 là góc α

Bài 10. a) $\cos 62^\circ (= \sin 28^\circ) < \sin 34^\circ < \sin 35^\circ < \sin 45^\circ < \cos 28^\circ (= \sin 62^\circ)$

b) $\cos 65^\circ 30' (= \sin 24^\circ 30') < \cos 59^\circ (= \sin 31^\circ) < \sin 47^\circ < \cos 37^\circ (= \sin 53^\circ) < \sin 72^\circ$

Bài 11. a) $A = \frac{1}{\sqrt{2}}; b) B = \frac{1}{\sqrt{2}}$

Bài 12. $\cos \alpha = \frac{2\sqrt{6}}{5}; \tan \alpha = \frac{1}{2\sqrt{6}}; \cot \alpha = 2\sqrt{6}$

Bài 13. Tương tự Bài 14, Vấn đề 4

Bài 14. a) $A = 3; b) = 2, 5$

Bài 15. Góc 2α là góc \widehat{AMH}

$$a) \sin 2\alpha = \frac{AH}{AM} = \frac{2AH}{BC} = 2 \frac{AB \cdot AC}{BC^2} = 2 \sin \alpha \cos \alpha$$

$$b) 1 + \cos 2\alpha = 1 + \frac{HM}{AM} = \frac{HC}{AM} = \frac{2HC}{BC} = 2 \cdot \frac{AC^2}{BC^2} = 2 \cos^2 \alpha$$

$$c) 1 - \cos 2\alpha = 1 - \frac{HM}{AM} = \frac{HB}{AM} = \frac{2HB}{BC} = 2 \cdot \frac{AB^2}{BC^2} = 2 \sin^2 \alpha$$

VẤN ĐỀ 6.

TUYÊN TẬP CHUYÊN ĐỀ BỒI DƯỠNG TOÁN

Bài 1. a) $a = \frac{20\sqrt{3}}{3}$, $c = \frac{10\sqrt{3}}{3}$;

b) $b = 20 \sin 35^\circ \approx 11,48$, $c = 20 \cos 35^\circ \approx 16,38$

Bài 2. a) $c = \sqrt{115}$; $\sin B = \frac{10}{15} \Rightarrow \hat{B} = 41,8^\circ \Rightarrow \hat{C} = 48,2^\circ$

b) $a = \sqrt{193}$; $\tan B = \frac{12}{7} \Rightarrow \hat{B} \approx 59,7^\circ \Rightarrow \hat{C} \approx 30,3^\circ$

Bài 3. a) $a = 35$; $\hat{B} \approx 53,1^\circ$; $\hat{C} \approx 36,9^\circ$

b) $c = 8$; $\hat{B} = 41,8^\circ$; $\hat{C} = 48,2^\circ$

Bài 14. a) $b \approx 2,95$; $a \approx 4,69$; $\hat{C} \approx 49^\circ$

b) $c \approx 9,53^\circ$; $b = 5,5$; $\hat{B} = 30^\circ$

Bài 5. $AN \approx 3,65 \text{ cm}$; $AC \approx 7,3 \text{ cm}$

Bài 6. a) $CH = 3\sqrt{3} \text{ cm}$; $AC = 3\sqrt{3} : \sin 80^\circ \approx 5,28 \text{ cm}$

b) $S = \frac{1}{2} \cdot 3\sqrt{3} \cdot 6,92 \approx 17,98 \text{ cm}^2$

Bài 7. $S \approx 5,09 \text{ cm}^2$

Bài 8. $S = 7,66 \text{ cm}^2$

Bài 9. a) $c \approx 3,12$; $a \approx 6,24$; $\hat{B} = 60^\circ$

b) $a = 10\sqrt{2}$

Bài 10. a) $c = \sqrt{115}$; $\sin \hat{B} = \frac{10}{15} \Rightarrow \hat{B} \approx 41,8^\circ \Rightarrow \hat{C} \approx 48,2^\circ$

b) $a = \sqrt{193}$; $\tan B = \frac{12}{7} \Rightarrow \hat{B} \approx 59,7^\circ \Rightarrow \hat{C} = 30,3^\circ$

Bài 11. a) $a \approx 5,14 \text{ cm}$; $b \approx 6,13 \text{ cm}$; $\hat{C} = 50^\circ$

b) $\hat{A} = 62^\circ$; $a \approx 9,4 \text{ cm}$; $b \approx 10,65 \text{ cm}$

TUYỂN TẬP CHUYÊN ĐỀ BỒI DƯỠNG TOÁN

c) $b = 17 \text{ cm}$; $\hat{A} \approx 61,93^\circ$; $\hat{C} \approx 28,07^\circ$

Bài 12. $S \approx 509,08 \text{ cm}^2$

Bài 13. $S = \frac{24 + 9\sqrt{3}}{2} \text{ cm}^2$

Bài 14. a) $AB = 15 \text{ cm}$; $AC = 20 \text{ cm}$; $BC = 25 \text{ cm}$; $AH = 12 \text{ cm}$

b) $ADHE$ là hình chữ nhật

c) $S = 69,12 \text{ cm}^2$; $P = 33,6 \text{ cm}$

Bài 15. a) $AC = 4 \text{ cm}$; $\hat{B} = 53,13^\circ$; $\hat{C} = 36,87^\circ$

b) $AD = 2,25 \text{ cm}$; $BD = 3,75 \text{ cm}$

c) $BF \cdot BD = BA^2 = BE \cdot BC$

VẤN ĐỀ 7.

Bài 1. Chiều cao $\approx 6,75 \text{ m}$

Bài 2. Độ dài $\approx \frac{2,1}{\sin 28^\circ} \approx 4,5 \text{ m}$

Bài 3. Chiều cao $= 5 \tan 50^\circ \approx 5,96 \text{ m}$

Bài 4. $\hat{BCA} = 59^\circ 44'$

Bài 5. a) $AE \cdot AC = AH^2 = AD \cdot AB \Rightarrow \Delta ABC \sim \Delta AED$ (c.g.c)

b) $DE = 3 \text{ cm}$

c) $\hat{ABC} = 56^\circ$; d) $S_{ADE} = \frac{54}{13} \text{ cm}^2$

Bài 6. a) Vì $EF = CG = \frac{1}{2} AB$; $EF \parallel CG \parallel AB$

b) $CF \perp BE$ mà $EG \parallel CF \Rightarrow EG \perp BE \Rightarrow \hat{BEG} = 90^\circ$

c) $S_{ABCD} = \frac{h^2}{\sin \alpha \cdot \cos \alpha}$

TUYỂN TẬP CHUYÊN ĐỀ BỒI DƯỠNG TOÁN

$$d) AC = \frac{h}{\sin \alpha \cos \alpha}$$

$$\text{Bài 7. } BD = \frac{21}{\cos 22,5^\circ} \approx 22,73 \text{ cm}$$

$$\text{Bài 8. a) } AB = 5 \text{ cm; } AC = 5\sqrt{3} \text{ cm}$$

b) \widehat{AMB} là hình chữ nhật $\Rightarrow \widehat{EBM} = \widehat{ABM} = \widehat{NMB} \Rightarrow MN \parallel BC$ (so le trong) $\Rightarrow AMBN$ là hình chữ nhật $\Rightarrow MN = AB = \frac{1}{2} BC$

$$c) \widehat{EBM} = \widehat{ABM} = \frac{1}{2} \widehat{ABC} = 30^\circ = \widehat{ACB} \Rightarrow \Delta MAB \sim \Delta ABC (g.g) \quad \text{Tỉ số đồng dạng } \frac{AB}{BC} = \frac{1}{2}$$

Bài 9. Tương tự bài 5

Bài 10. a) Giả sử tam giác ABC có $\widehat{A} < 90^\circ$, kẻ đường cao BH ta có

$$BH = AB \sin \widehat{A} \Rightarrow S_{ABC} = \frac{1}{2} BH \cdot AC \Rightarrow S_{ABC} = \frac{1}{2} AB \cdot AC \cdot \sin \widehat{A}$$

b) $ABCD$ là hình bình hành có $\widehat{A} < 90^\circ, \Delta ABD = \Delta CBD \Rightarrow S_{ABCD} = 2S_{ABO} = AB \sin \widehat{A}$

$$\text{Bài 1. a) } BC = 3\sqrt{13} \text{ cm; } AH = \frac{18\sqrt{13}}{13} \text{ cm; } BH = \frac{12\sqrt{13}}{13} \text{ cm; } CH = \frac{27\sqrt{13}}{13} \text{ cm}$$

$$b) BC = 25 \text{ cm; } AC = 20 \text{ cm; } HC = 16 \text{ cm; } AH = 12 \text{ cm}$$

$$c) AB = 33 \text{ cm; } AH = \frac{132}{5} \text{ cm; } BH = \frac{99}{5} \text{ cm; } CH = \frac{176}{5} \text{ cm}$$

Bài 2. a) Đặt $BH = 9 \text{ cm; } CH = 16 \text{ cm; } AB = 15 \text{ cm; } AC = 20 \text{ cm}$

$$b) \widehat{AMH} \approx 73,4^\circ; c) S_{AHM} = 84 \text{ cm}^2$$

$$\text{Bài 3. a) } CH = 6\sqrt{3} \text{ cm; } AC = \frac{6\sqrt{3}}{\sin 80^\circ} \approx 10,55 \text{ cm}$$

$$b) S_{\Delta ABC} = \frac{1}{2} 6\sqrt{3}(6 + 1,83) \approx 40,69 \text{ cm}^2$$

$$\text{Bài 4. a) } BC = 5 \text{ cm; } AH = \frac{12}{5} \text{ cm}$$

TUYỂN TẬP CHUYÊN ĐỀ BỒI DƯỠNG TOÁN

b) $\hat{B} \approx 53,13^\circ$; $\hat{C} \approx 36,87^\circ$

c) $BE = \frac{15}{7} \text{ cm}$; $CE = \frac{20}{7} \text{ cm}$

Bài 5. a) $AE \cdot AB = AH^2 = AE \cdot AC$

b) $AE = \frac{9}{4}$; $BE = \frac{7}{4}$

c) $FC = \frac{\sqrt{2}}{3} \text{ cm}$

Bài 6.

a) i) $NF = 15 \text{ cm}$; $\hat{MFN} \approx 48,59^\circ$; $\hat{MNF} \approx 41,41^\circ$

ii) $OM = \frac{36}{5}$; $FO = \frac{48}{5}$

iii) $S_{FNE} = 96 \text{ cm}^2$; $\frac{S_{\Delta FOH}}{S_{\Delta FNE}} = \frac{FO}{FN} \cdot \frac{FH}{FE} = \frac{9}{25} \Rightarrow S_{\Delta FOH} = 34,56 \text{ cm}^2$

b) $\Delta MFN \sim \Delta FEM$ (g - g) $\Rightarrow \frac{MF}{FE} = \frac{MN}{FM} \Leftrightarrow FM^2 = MN \cdot FE$

Bài 7. a) Vì $DE^2 + DF^2 = FE^2$

b) $DK = \frac{24}{5} \text{ cm}$; $FK = \frac{32}{5} \text{ cm}$

c) $EK = \frac{18}{5} \text{ cm}$; $\hat{DKE} = 90^\circ$; $\hat{KDE} \approx 36^\circ, 52'$; $\hat{KED} \approx 53^\circ 8'$

d) $ME = \frac{30}{7} \text{ cm}$; $MF = \frac{40}{7} \text{ cm}$

e) $\sin \hat{DFK} = \frac{DK}{DF}$, $\sin \hat{DFE} = \frac{DF}{EF} \Rightarrow \frac{DK}{DF} = \frac{DE}{EF} \Leftrightarrow DE \cdot DF = DK \cdot EF$

Bài 8. a) $AB = 3 \text{ cm}$; $AC = 6\sqrt{3} \text{ cm}$

b) $\frac{AB}{BD} = \frac{AB}{BC} = \cos \hat{ABC} = \cos 60^\circ = \cos \hat{ACD} = \frac{AC}{CD}$

c) $\frac{1}{AH^2} = \frac{1}{AC^2} + \frac{1}{AD^2}$

TUYỂN TẬP CHUYÊN ĐỀ BỒI DƯỠNG TOÁN

Bài 9. a) $\triangle ABE = \triangle ADE$ (g.c.g) $\Rightarrow AE = AF$

b) \widehat{F} chung, $\widehat{FAK} = \widehat{FCA} = 45^\circ \Rightarrow \triangle AKF \sim \triangle CAF$ (g - g) $\Rightarrow \frac{AF}{KF} = \frac{CF}{AF} \Leftrightarrow AF^2 = KF \cdot CF$

c) $S_{AEF} = \frac{93}{2} \text{ cm}^2$

d) $AE = AF \Rightarrow \frac{1}{AE^2} + \frac{1}{AJ^2} = \frac{1}{AF^2} + \frac{1}{AJ^2} = \frac{1}{AD^2} = \text{const}$

Bài 10. a) $\cos 70^\circ (= \sin 20^\circ) < \sin 24^\circ < \sin 45^\circ < \cos 35^\circ (= \sin 55^\circ) < \sin 78^\circ$

b) $\tan 16^\circ (= \cot 74^\circ) < \cot 57^\circ 76' < \cot 30^\circ < \cot 24^\circ < \tan 80^\circ (= \cot 10^\circ)$

Bài 11. a) $\cos 20^\circ < \sin 65^\circ (= \cos 25^\circ) < \cos 28^\circ < \sin 40^\circ (= \cos 50^\circ) < \cos 88^\circ$

b) $\cot 67^\circ 18' (= \tan 22^\circ 42') < \cot 28^\circ 36' (= \tan 61^\circ 24') < \tan 32^\circ 48' < \tan 56^\circ 32'$

Bài 12. a) $\cos \alpha = \frac{\sqrt{24}}{5}; \tan \alpha = \frac{1}{\sqrt{24}}; \cot \alpha = \sqrt{24}$

b) $\cos \alpha = \frac{\sqrt{5}}{3}; \tan \alpha = \frac{2}{\sqrt{5}}; \cot \alpha = \frac{\sqrt{5}}{2}$

c) $\cot \alpha = \frac{1}{2}; \cos \alpha = \pm \frac{1}{\sqrt{5}}; \sin \alpha = \pm \frac{2}{\sqrt{5}}$

d) $\tan \alpha = \frac{1}{3}; \sin \alpha = \pm \frac{1}{\sqrt{10}}; \cos \alpha = \pm \frac{3}{\sqrt{10}}$

Bài 13. $\tan \alpha = \frac{7}{4} \Rightarrow \alpha \approx 60^\circ 15'$

Bài 14. 6,28 cm

Bài 15. a) $A = 2$; b) $B = 3\sin^4 \alpha + \sin^2 \alpha$

Bài 16. a) $\sin^4 \alpha + \cos^4 \alpha = (\sin^2 \alpha + \cos^2 \alpha)^2 - 2\sin^2 \alpha \cos^2 \alpha = 1 - 2\sin^2 \alpha \cos^2 \alpha$

b) $\sin^6 \alpha + \cos^6 \alpha = (\sin^2 \alpha + \cos^2 \alpha)^3 - 3\sin^2 \alpha \cos^2 \alpha (\sin^2 \alpha + \cos^2 \alpha)$

c) $\sin^4 \alpha - \cos^4 \alpha = (\sin^2 \alpha + \cos^2 \alpha)(\sin^2 \alpha - \cos^2 \alpha) = 1 - 2\cos^2 \alpha$

TUYÊN TẬP CHUYÊN ĐỀ BỒI DƯỠNG TOÁN

Bài 17. a) $\frac{1 - \cos x}{\sin x} = \frac{\sin x}{1 + \cos x} \Leftrightarrow (1 - \cos x)(1 + \cos x) = \sin^2 x \Leftrightarrow \sin^2 x + \cos^2 x = 1$

b) $VT = \frac{\sin^2 x + (1 + \cos x)^2}{\sin x(1 + \cos x)} = \frac{1 + 2\cos x}{\sin x(1 + \cos x)} = VP$

c) Biến đổi tương tự câu a