

PHIẾU TOÁN CUỐI TUẦN 24

Họ và tên học sinh: Lớp:

Em hãy khoanh vào đáp án đúng nhất (bài 1 đến bài 3)

Bài 1. Chọn từ thích hợp điền vào chỗ trống.



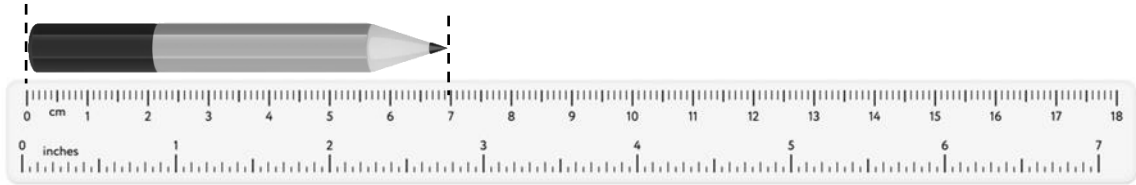
Trên thước có vạch chia thành từng

- A. xăng-ti-mét B. gang tay C. mét

Bài 2. Xăng-ti-mét viết tắt là:

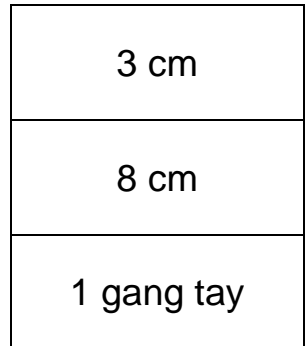
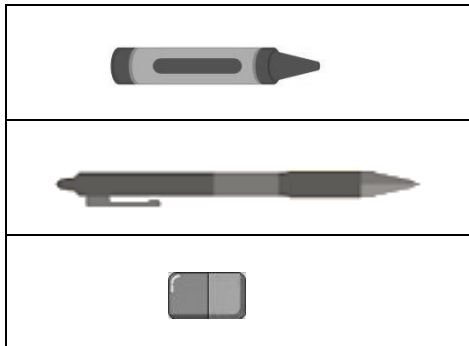
- A. m C. km D. cm

Bài 3. Bút chì dài:



- A. 3 cm B. 6 cm C. 7 cm

Bài 4. Nối đồ vật với độ dài phù hợp.



Bài 5. Tô màu vào những đồ vật có độ dài bằng 5 cm hoặc dài hơn 5 cm.

