

PHIẾU TOÁN CUỐI TUẦN 26

Họ và tên học sinh: Lớp:

Em hãy khoanh vào đáp án đúng nhất hoặc hoàn thành các bài tập theo yêu cầu.

Bài 1. Đâu là các số có hai chữ số?

A. 102; 2; 15; 48.

B. 90; 63; 11; 22.

C. 11; 15; 8; 88.

Bài 2. Số 73 có:

A. 3 chục và 7 đơn vị.

B. 70 chục và 3 đơn vị.

C. 7 chục và 3 đơn vị.

Bài 3. Nối số với phép tính thích hợp.

87

59

90

66

38

$54 + 5$

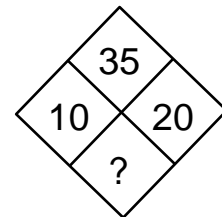
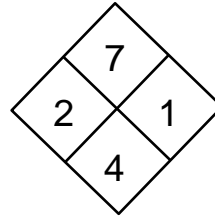
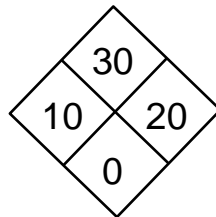
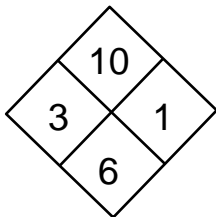
$82 + 5$

$20 + 18$

$40 + 50$

$14 + 52$

Bài 4. Số thích hợp điền vào dấu ? là:



A. 5

B. 10

C. 15

Bài 5. Đặt tính rồi tính.

$43 + 4$

$23 + 46$

$60 + 19$

$10 + 20$

.....
.....
.....
.....

Bài 6. Nam được cô giáo thưởng 15 ngôi sao. Mai được cô giáo thưởng 14 ngôi sao. Hỏi cả hai bạn được thưởng bao nhiêu ngôi sao?

Phép tính thích hợp là:

--	--	--	--	--

