

BÀI TẬP TRẮC NGHIỆM ÔN TẬP HỌC KÌ I

MÔN: HOÁ HỌC – LỚP 9

Bài 1. TÍNH CHẤT HÓA HỌC CỦA OXIT - KHÁI QUÁT VỀ SỰ PHÂN LOẠI OXIT

Câu 1: (Mức 1)

Oxit là:

- A. Hỗn hợp của nguyên tố oxi với một nguyên tố hoá học khác.
- B. Hợp chất của nguyên tố phi kim với một nguyên tố hoá học khác.
- C. Hợp chất của oxi với một nguyên tố hoá học khác.
- D. Hợp chất của nguyên tố kim loại với một nguyên tố hoá học khác.

Đáp án: C

Câu 2: (Mức 1)

Oxit axit là:

- A. Những oxit tác dụng với dung dịch axit tạo thành muối và nước.
- B. Những oxit tác dụng với dung dịch bazơ tạo thành muối và nước.
- C. Những oxit không tác dụng với dung dịch bazơ và dung dịch axit.
- D. Những oxit chỉ tác dụng được với muối.

Đáp án: B

Câu 3: (Mức 1)

Oxit Bazơ là:

- A. Những oxit tác dụng với dung dịch axit tạo thành muối và nước.
- B. Những oxit tác dụng với dung dịch bazơ tạo thành muối và nước.
- C. Những oxit không tác dụng với dung dịch bazơ và dung dịch axit.
- D. Những oxit chỉ tác dụng được với muối.

Đáp án: A

Câu 4: (Mức 1)

Oxit lưỡng tính là:

- A. Những oxit tác dụng với dung dịch axit tạo thành muối và nước.
- B. Những oxit tác dụng với dung dịch bazơ và tác dụng với dung dịch axit tạo

thành

muối và nước.

C. Những oxit tác dụng với dung dịch bazơ tạo thành muối và nước.

D. Những oxit chỉ tác dụng được với muối.

Đáp án: B

Câu 5: (Mức 1)

Oxit trung tính là:

A. Những oxit tác dụng với dung dịch axit tạo thành muối và nước.

B. Những oxit tác dụng với dung dịch bazơ tạo thành muối và nước.

C. Những oxit không tác dụng với axit, bazơ, nước.

D. Những oxit chỉ tác dụng được với muối.

Đáp án: C

Câu 6: (Mức 1)

Chất tác dụng với nước tạo ra dung dịch bazơ là:

A. CO_2 ,

B. Na_2O .

C. SO_2 ,

D. P_2O_5

Đáp án: B

Câu 7: (Mức 1)

Chất tác dụng với nước tạo ra dung dịch axit là

A. K_2O .

B. CuO .

C. P_2O_5 .

D. CaO .

Đáp án: C

Câu 8: (Mức 1)

Chất tác dụng với nước tạo ra dung dịch bazơ là:

A. K_2O .

B. CuO .

C. CO .

D. SO_2 .

Đáp án: A

Câu 9: (Mức 1)

Chất tác dụng với nước tạo ra dung dịch axit là:

A. CaO ,

B. BaO ,

C. Na_2O

D. SO_3 .

Đáp án: D

Câu 10: (Mức 1)

Chất khí nào sau đây là nguyên nhân gây ra hiệu ứng nhà kính ?

- A. CO₂ B. O₂ C. N₂ D. H₂

Đáp án : A

Câu 11: (Mức 1)

Lưu huỳnh trioxit (SO₃) tác dụng được với:

- A. Nước, sản phẩm là bazơ.
B. Axit, sản phẩm là bazơ.
C. Nước, sản phẩm là axit
D. Bazơ, sản phẩm là axit.

Đáp án: C

Câu 12: (Mức 1)

Đồng (II) oxit (CuO) tác dụng được với:

- A. Nước, sản phẩm là axit.
B. Bazơ, sản phẩm là muối và nước.
C. Nước, sản phẩm là bazơ.
D. Axit, sản phẩm là muối và nước.

Đáp án: D

Câu 13: (Mức 2)

Sắt (III) oxit (Fe₂O₃) tác dụng được với:

- A. Nước, sản phẩm là axit.
B. Axit, sản phẩm là muối và nước.
C. Nước, sản phẩm là bazơ.
D. Bazơ, sản phẩm là muối và nước.

Đáp án: B

Câu 14: (Mức 1)

Công thức hoá học của sắt oxit, biết Fe(III) là:

- A. Fe₂O₃. B. Fe₃O₄. C. FeO. D. Fe₃O₂.

Đáp án: A

Câu 15: (Mức 2)

Dãy chất sau đây chỉ gồm các oxit:

A. MgO, Ba(OH)₂, CaSO₄, HCl.

B. MgO, CaO, CuO, FeO.

C. SO₂, CO₂, NaOH, CaSO₄.

D. CaO, Ba(OH)₂, MgSO₄, BaO.

Đáp án: B.

Câu 16: (Mức 2)

0,05 mol FeO tác dụng vừa đủ với:

A. 0,02mol HCl. B. 0,1mol HCl.

C. 0,05mol HCl. D. 0,01mol HCl.

Đáp án: B

Câu 17: (Mức 2)

0,5mol CuO tác dụng vừa đủ với:

A. 0,5mol H₂SO₄. B. 0,25mol HCl.

C. 0,5mol HCl. D. 0,1mol H₂SO₄.

Đáp án: A

Câu 18: (Mức 2)

Dãy chất gồm các oxit axit là:

A. CO₂, SO₂, NO, P₂O₅.

B. CO₂, SO₃, Na₂O, NO₂.

C. SO₂, P₂O₅, CO₂, SO₃.

D. H₂O, CO, NO, Al₂O₃.

Đáp án: C.

Câu 19: (Mức 2)

Dãy chất gồm các oxit bazơ:

A. CuO, NO, MgO, CaO.

B. CuO, CaO, MgO, Na₂O.

C. CaO, CO₂, K₂O, Na₂O.

D. K₂O, FeO, P₂O₅, Mn₂O₇.

Đáp án: B.

Câu 20: (Mức 2)

Dãy chất sau là oxit lưỡng tính:

A. Al_2O_3 , ZnO , PbO_2 , Cr_2O_3 .

B. Al_2O_3 , MgO , PbO , SnO_2 .

C. CaO , ZnO , Na_2O , Cr_2O_3 .

D. PbO_2 , Al_2O_3 , K_2O , SnO_2 .

Đáp án: A

Câu 21: (Mức 2)

Dãy oxit tác dụng với nước tạo ra dung dịch kiềm:

A. CuO , CaO , K_2O , Na_2O .

B. CaO , Na_2O , K_2O , BaO .

C. Na_2O , BaO , CuO , MnO .

D. MgO , Fe_2O_3 , ZnO , PbO .

Đáp án: B.

Câu 22: (Mức 2)

Dãy oxit tác dụng với dung dịch axit clohidric (HCl):

A. CuO , Fe_2O_3 , CO_2 , FeO .

B. Fe_2O_3 , CuO , MnO , Al_2O_3 .

C. CaO , CO , N_2O_5 , ZnO .

D. SO_2 , MgO , CO_2 , Ag_2O .

Đáp án: B.

Câu 23: (Mức 2)

Dãy oxit tác dụng với dung dịch NaOH:

A. CuO , Fe_2O_3 , SO_2 , CO_2 .

B. CaO , CuO , CO , N_2O_5 .

C. CO_2 , SO_2 , P_2O_5 , SO_3 .

D. SO_2 , MgO , CuO , Ag_2O .

Đáp án: C.

Câu 24: (Mức 2)

Dãy oxit vừa tác dụng nước, vừa tác dụng với dung dịch kiềm là:

A. CuO, Fe₂O₃, SO₂, CO₂.

B. CaO, CuO, CO, N₂O₅.

C. SO₂, MgO, CuO, Ag₂O.

D. CO₂, SO₂, P₂O₅, SO₃.

Đáp án: D

Câu 25: (Mức 2)

Dãy oxit vừa tác dụng với nước, vừa tác dụng với dung dịch axit là:

A. CuO, Fe₂O₃, SO₂, CO₂.

B. CaO, CuO, CO, N₂O₅.

C. CaO, Na₂O, K₂O, BaO.

D. SO₂, MgO, CuO, Ag₂O.

Đáp án: C.

Câu 26: (Mức 2)

Dãy oxit vừa tác dụng với axit, vừa tác dụng với kiềm là:

A. Al₂O₃, ZnO, PbO₂, Cr₂O₃.

B. Al₂O₃, MgO, PbO, SnO₂.

C. CaO, FeO, Na₂O, Cr₂O₃.

D. CuO, Al₂O₃, K₂O, SnO₂.

Đáp án: A

Câu 27: (Mức 2)

Hai oxit tác dụng với nhau tạo thành muối là:

A. CO₂ và BaO. B. K₂O và NO.

C. Fe₂O₃ và SO₃. D. MgO và CO.

Đáp án: A.

Câu 28: (Mức 2)

Một oxit của photpho có thành phần phần trăm của P bằng 43,66%. Biết phân tử khối của oxit bằng 142đvC. Công thức hoá học của oxit là:

A. P₂O₃.

B. P₂O₅.

C. PO₂.

D. P₂O₄.

Đáp án: B.

Câu 29: (Mức 2)

Một oxit được tạo bởi 2 nguyên tố là sắt và oxi, trong đó tỉ lệ khối lượng giữa sắt và oxi là 7/3. Công thức hoá học của oxit sắt là:

- A. FeO. B. Fe₂O₃. C. Fe₃O₄. D. FeO₂.

Đáp án: B

Câu 30: (Mức 3)

Khử hoàn toàn 0,58 tấn quặng sắt chứa 90 % là Fe₃O₄ bằng khí hiđro. Khối lượng sắt thu được là:

- A. 0,378 tấn. B. 0,156 tấn. C. 0,126 tấn. D. 0,467 tấn.

Đáp án: A

Câu 31: (Mức 2)

Có thể tinh chế CO ra khỏi hỗn hợp (CO + CO₂) bằng cách:

- A. Dẫn hỗn hợp qua dung dịch Ca(OH)₂ dư.
B. Dẫn hỗn hợp qua dung dịch PbCl₂ dư
C. Dẫn hỗn hợp qua NH₃.
D. Dẫn hỗn hợp qua dung dịch Cu(NO₃)₂.

Đáp án : A.

Câu 32: (Mức 2)

Có 3 oxit màu trắng: MgO, Al₂O₃, Na₂O. Có thể nhận biết được các chất đó bằng thuốc thử sau:

- A. Chỉ dùng quì tím. B. Chỉ dùng axit
C. Chỉ dùng phenolphthalein D. Dùng nước

Đáp án: D.

Câu 33: (Mức 3)

Thể tích khí hiđro (đktc) cần dùng để khử hoàn toàn hỗn hợp gồm 20 g CuO và 111,5g PbO là:

- A. 11,2 lít. B. 16,8 lít. C. 5,6 lít. D. 8,4 lít.

Đáp án: B.

Câu 34: (Mức 3)

Cho 7,2 gam một loại oxit sắt tác dụng hoàn toàn với khí hiđro cho 5,6 gam sắt.
Công thức oxit sắt là:

- A. FeO. B. Fe₂O₃. C. Fe₃O₄. D. FeO₂.

Đáp án: A

Câu 35: (Mức 3)

Hấp thụ hoàn toàn 2,24 lít khí CO₂ (đktc) vào dung dịch nước vôi trong có chứa 0,075 mol Ca(OH)₂. Muối thu được sau phản ứng là:

- A. CaCO₃.
B. Ca(HCO₃)₂
C. CaCO₃ và Ca(HCO₃)₂
D. CaCO₃ và CaHCO₃.

Đáp án: C

Câu 36: (Mức 3)

Công thức hoá học của oxit có thành phần % về khối lượng của S là 40%:

- A. SO₂. B. SO₃. C. SO. D. S₂O₄.

Đáp án: B

Câu 37: (Mức 3)

Hoà tan 2,4 g một oxit kim loại hoá trị II cần dùng 30g dd HCl 7,3%. Công thức của oxit kim loại là:

- A. CaO. B. CuO. C. FeO. D. ZnO.

Đáp án: B

Câu 38: (Mức 3)

Để tách riêng Fe₂O₃ ra khỏi hỗn hợp BaO và Fe₂O₃ ta dùng:

- A. Nước. B. Giấy quì tím. C. Dung dịch HCl. D. dung dịch NaOH.

Đáp án. A

Câu 39: (Mức 3)

Hấp thụ hoàn toàn 11,2 lít khí CO₂ (đktc) bằng một dung dịch chứa 20 g NaOH.
Muối được tạo thành là:

- A. Na₂CO₃. B. NaHCO₃. C. Hỗn hợp Na₂CO₃ và NaHCO₃.

D. $\text{Na}(\text{HCO}_3)_2$.

Đáp án: B.

Câu 40: (Mức 3)

Hoà tan 6,2 g natri oxit vào 193,8 g nước thì được dung dịch A. Nồng độ phần trăm của dung dịch A là:

A. 4%. B. 6%. C. 4,5% D. 10%

Đáp án: A

Câu 41: (Mức 3)

Hoà tan 23,5 g kali oxit vào nước được 0,5 lít dung dịch A. Nồng độ mol của dung dịch A là:

A. 0,25M. B. 0,5M C. 1M. D. 2M.

Đáp án: C.

Bài 2: MỘT SỐ OXIT QUAN TRỌNG

Câu 42 (mức 2) :

Oxit tác dụng với nước tạo ra dung dịch làm quỳ tím hóa xanh là:

A. CO_2 B. P_2O_5 C. Na_2O D. MgO

Đáp án : C

Câu 43 (mức 1) :

Oxit khi tác dụng với nước tạo ra dung dịch axit sunfuric là:

A. CO_2 B. SO_3 C. SO_2 D. K_2O

Đáp án : B

Câu 44 (mức 1):

Oxit được dùng làm chất hút ẩm (chất làm khô) trong phòng thí nghiệm là:

A. CuO B. ZnO C. PbO D. CaO

Đáp án : D

Câu 45 (mức 2):

Dẫn hỗn hợp khí gồm CO_2 , CO , SO_2 lội qua dung dịch nước vôi trong (dư), khí thoát ra

là :

A. CO

B. CO₂

C. SO₂

D. CO₂

và SO₂

Đáp án : A

Câu 46 (mức 1):

Sản phẩm của phản ứng phân hủy canxicacbonat bởi nhiệt là :

A. CaO và CO

B. CaO và CO₂

C. CaO và SO₂

D. CaO

và P₂O₅

Đáp án : B

Câu 47(mức 3):

Hòa tan hết 12,4 gam Natrioxit vào nước thu được 500ml dung dịch A . Nồng độ mol của dung dịch A là :

A. 0,8M

B. 0,6M

C. 0,4M

D.

0,2M

Đáp án : A

Câu 48(mức 2) :

Để nhận biết 2 lọ mất nhãn đựng CaO và MgO ta dùng:

A. HCl

B. NaOH

C. HNO₃

D.

Quỳ tím ẩm

Đáp án : D

Câu 49 (mức 2):

Chất nào dưới đây có phần trăm khối lượng của oxi lớn nhất ?

A. CuO

B. SO₂

C. SO₃

D.

Al₂O₃

Đáp án : C

Câu 50 (mức 3):

Hòa tan hết 5,6 gam CaO vào dung dịch HCl 14,6% . Khối lượng dung dịch HCl đã dùng

là :

A. 50 gam

B. 40 gam

C. 60 gam

D. 73

gam

Đáp án : A

Câu 51 (mức 1):

Cặp chất tác dụng với nhau sẽ tạo ra khí lưu huỳnh đioxit là:

- A. CaCO_3 và HCl B. Na_2SO_3 và H_2SO_4 C. CuCl_2 và KOH
D. K_2CO_3 và HNO_3

Đáp án : B

Câu 52 (mức 3):

Oxit của một nguyên tố hóa trị (II) chứa 28,57% oxi về khối lượng . Nguyên tố đó là:

- A. Ca B. Mg C. Fe D.
Cu

Đáp án : A

Câu 53 (mức 3):

Hòa tan 2,4 gam oxit của một kim loại hóa trị II vào 21,9 gam dung dịch HCl 10% thì vừa đủ . Oxit đó là:

- A. CuO B. CaO C. MgO D.
 FeO

Đáp án : A

Câu 54 (mức 2) :

Để loại bỏ khí CO_2 có lẫn trong hỗn hợp (O_2 , CO_2) , người ta cho hỗn hợp đi qua dung

dịch chứa:

- A. HCl B. Ca(OH)_2 C. Na_2SO_4 D.
 NaCl

Đáp án : B

Câu 55 (mức 2) :

Oxit nào sau đây khi tác dụng với nước tạo ra dung dịch có $\text{pH} > 7$?

- A. CO_2 B. SO_2 C. CaO D.
 P_2O_5

Đáp án : C

Câu 56 (mức 3):

Để thu được 5,6 tấn vôi sống với hiệu suất phản ứng đạt 95% thì lượng CaCO_3 cần dùng là :

- A. 9,5 tấn B. 10,5 tấn C. 10 tấn D. 9,0 tấn

Đáp án : B

Câu 57 (mức 1) :

Khí nào sau đây **Không** duy trì sự sống và sự cháy ?

- A. CO B. O_2 C. N_2 D. CO_2

Đáp án : D

Câu 58 (mức 2):

Để nhận biết 3 khí không màu : SO_2 , O_2 , H_2 đựng trong 3 lọ mất nhãn ta dùng:

- A . Giấy quỳ tím ẩm
B . Giấy quỳ tím ẩm và dùng que đóm cháy dở còn tàn đỏ
C . Than hồng trên que đóm
D . Dẫn các khí vào nước vôi trong

Đáp án : B

Câu 59 (mức 1) :

Chất nào sau đây góp phần nhiều nhất vào sự hình thành mưa axit ?

- A . CO_2 B. SO_2 C. N_2 D. O_3

Đáp án : B

Câu 60 (mức 3):

Cho 20 gam hỗn hợp X gồm CuO và Fe_2O_3 tác dụng vừa đủ với 0,2 lít dung dịch HCl có nồng độ 3,5M. Thành phần phần trăm theo khối lượng của CuO và Fe_2O_3 trong hỗn hợp X lần lượt là :

- A. 25% và 75% B. 20% và 80%
C. 22% và 78% D. 30% và 70%

Đáp án : B

Câu 61 (mức 3) :

Cho 2,24 lít CO_2 (đktc) tác dụng với dung dịch $\text{Ba}(\text{OH})_2$ dư. Khối lượng chất kết tủa thu được là :

A. 19,7 g

B. 19,5 g

C. 19,3 g

D. 19 g

Đáp án : A

Câu 62 (mức 2) :

Khí có tỉ khối đối với hidro bằng 32 là:

A. N_2O

B. SO_2

C. SO_3

D. CO_2

Đáp án : B

Câu 63 (mức 3):

Hòa tan 12,6 gam natrisunfit vào dung dịch axit clohidric dư. Thể tích khí SO_2 thu được ở đktc là:

A. 2,24 lít

B. 3,36 lít

C. 1,12 lít

D. 4,48 lít

Đáp án : A

Câu 64 (mức 2):

Để làm khô khí CO_2 cần dẫn khí này qua :

A. H_2SO_4 đặc

B. NaOH rắn

C. CaO

D. KOH rắn

Đáp án : A

Câu 65 (mức 3) :

Nếu hàm lượng của sắt là 70% thì đó là chất nào trong số các chất sau :

A. Fe_2O_3

B. FeO

C. Fe_3O_4

D. FeS

Đáp án : A

Câu 66 (mức 3):

Khử 16 gam Fe_2O_3 bằng CO dư , sản phẩm khí thu được cho đi vào dung dịch $\text{Ca}(\text{OH})_2$ dư thu được a gam kết tủa. Giá trị của a là :

A. 10 g

B. 20 g

C. 30 g

D. 40 g

Đáp án : C

Câu 67 (mức 3):

Hòa tan hết 11,7g hỗn hợp gồm CaO và CaCO₃ vào 100 ml dung dịch HCl 3M .

Khối lượng muối thu được là :

- A. 16,65 g B. 15,56 g C. 166,5 g D.
155,6g

Đáp án : A

Câu 68 (mức 2):

Chất khí nặng gấp 2,2069 lần không khí là:

- A. CO₂ B. SO₂ C. SO₃
D. NO

Đáp án : B

Câu 69 (mức 1):

Trong hơi thở, Chất khí làm đục nước vôi trong là:

- A. SO₂ B. CO₂ C. NO₂
D. SO₃

Đáp án : B

Câu 70 (mức 1):

Chất có trong không khí góp phần gây nên hiện tượng vôi sống hóa đá là :

- A. NO B. NO₂ C. CO₂
D. CO

Đáp án : C

Câu 71 (mức 2):

Dãy các chất tác dụng với lưu huỳnh đioxit là:

- A. Na₂O,CO₂, NaOH,Ca(OH)₂ B.
CaO,K₂O,KOH,Ca(OH)₂
C. HCl,Na₂O,Fe₂O₃ ,Fe(OH)₃ D.
Na₂O,CuO,SO₃ ,CO₂

Đáp án : B

Câu 72 (mức 2):

Chất làm quỳ tím ẩm chuyển sang màu đỏ là:

- A. MgO B. CaO C. SO₂ D. K₂O

Đáp án : C

Câu 73 (mức 2):

Dãy các chất tác dụng được với nước tạo ra dung dịch bazơ là:

A. MgO, K₂O, CuO, Na₂O

B. CaO, Fe₂O₃, K₂O, BaO

C. CaO, K₂O, BaO, Na₂O

D. Li₂O, K₂O, CuO, Na₂O

Đáp án : C

Câu 74 (mức 2):

Dung dịch được tạo thành từ lưu huỳnh đioxit với nước có :

A. pH = 7

B. pH > 7

C. pH < 7

D.

pH = 8

Đáp án : C

Câu 75 (mức 2) :

Cho các oxit : Na₂O , CO , CaO , P₂O₅ , SO₂ . Có bao nhiêu cặp chất tác dụng được với nhau ?

A. 2

B. 3

C. 4

D. 5

Đáp án : C

Câu 76 (mức 1) :

Vôi sống có công thức hóa học là :

A. Ca

B. Ca(OH)₂

C. CaCO₃

D. CaO

Đáp án : D

Câu 77 (mức 1):

Cặp chất tác dụng với nhau tạo ra muối natrisunfit là:

A. NaOH và CO₂

B. Na₂O và SO₃

C. NaOH và SO₃

D. NaOH và SO₂

Đáp án : D

Câu 78 (mức 3):

Oxit có phần trăm khối lượng của nguyên tố kim loại gấp 2,5 lần phần trăm khối lượng của nguyên tố oxi là:

C. MgO, Fe₂O₃, CuO, K₂O.

D. MgO, Fe₂O₃, SO₂, P₂O₅.

Đáp án: C

Câu 83: (Mức 1)

Dãy các chất **không** tác dụng được với dung dịch H₂SO₄ loãng là:

A. Zn, ZnO, Zn(OH)₂.

B. Cu, CuO, Cu(OH)₂.

C. Na₂O, NaOH, Na₂CO₃.

D. MgO, MgCO₃, Mg(OH)₂.

Đáp án: B

Câu 84: (Mức 1)

Dãy các chất **không** tác dụng được với dung dịch HCl là:

A. Al, Fe, Pb.

B. Al₂O₃, Fe₂O₃, Na₂O.

C. Al(OH)₃, Fe(OH)₃, Cu(OH)₂.

D. BaCl₂, Na₂SO₄, CuSO₄.

Đáp án: D

Câu 85: (Mức 1)

Chất tác dụng với dung dịch HCl tạo thành chất khí nhẹ hơn không khí là:

A. Mg

B. CaCO₃

C. MgCO₃

D. Na₂SO₃

Đáp án: A

Câu 86: (Mức 1)

CuO tác dụng với dung dịch H₂SO₄ tạo thành:

A. Dung dịch không màu.

B. Dung dịch có màu lục nhạt.

C. Dung dịch có màu xanh lam.

D. Dung dịch có màu vàng nâu.

Đáp án: C

Câu 87: (Mức 1)

Cặp chất tác dụng với nhau tạo thành muối và nước:

- A. Magie và dung dịch axit sunfuric
- B. Magie oxit và dung dịch axit sunfuric
- C. Magie nitrat và natri hidroxit
- D. Magie clorua và natri clorua

Đáp án: B

Câu 88: (Mức 1)

Cặp chất tác dụng với nhau tạo thành sản phẩm có chất khí:

- A. Bari oxit và axit sunfuric loãng
- B. Bari hidroxit và axit sunfuric loãng
- C. Bari cacbonat và axit sunfuric loãng
- D. Bari clorua và axit sunfuric loãng

Đáp án: C

Câu 89: (Mức 1)

Kẽm tác dụng với dung dịch axit clohidric sinh ra:

- A. Dung dịch có màu xanh lam và chất khí màu nâu.
- B. Dung dịch không màu và chất khí có mùi hắc.
- C. Dung dịch có màu vàng nâu và chất khí không màu
- D. Dung dịch không màu và chất khí cháy được trong không khí.

Đáp án: D

Câu 90: (Mức 1)

Chất phản ứng được với dung dịch HCl tạo ra một chất khí có mùi hắc, nặng hơn không khí và làm đục nước vôi trong:

- A. Zn
- B. Na_2SO_3
- C. FeS
- D. Na_2CO_3

Đáp án: B

Câu 91: (Mức 1)

Nhóm chất tác dụng với dung dịch H_2SO_4 loãng sinh ra chất kết tủa màu trắng:

- A. ZnO, BaCl_2
- B. CuO, BaCl_2
- C. BaCl_2 , $\text{Ba}(\text{NO}_3)_2$

D. $\text{Ba}(\text{OH})_2$, ZnO

Đáp án: C

Câu 92: (Mức 1)

MgCO_3 tác dụng với dung dịch HCl sinh ra:

- A. Chất khí cháy được trong không khí
- B. Chất khí làm vẩn đục nước vôi trong.
- C. Chất khí duy trì sự cháy và sự sống.
- D. Chất khí không tan trong nước.

Đáp án: B

Câu 93: (Mức 1)

Dãy chất tác dụng với dung dịch H_2SO_4 loãng tạo thành dung dịch có màu xanh lam:

- A. CuO , MgCO_3
- B. Cu , CuO
- C. $\text{Cu}(\text{NO}_3)_2$, Cu
- D. CuO , $\text{Cu}(\text{OH})_2$

Đáp án: D

Câu 94: (Mức 1)

Dùng quì tím để phân biệt được cặp chất nào sau đây:

- A. Dung dịch HCl và dung dịch KOH .
- B. Dung dịch HCl và dung dịch H_2SO_4 .
- C. Dung dịch Na_2SO_4 và dung dịch NaCl .
- D. Dung dịch NaOH và dung dịch KOH .

Đáp án: A

Câu 95: (Mức 2)

Để phân biệt 2 dung dịch HCl và H_2SO_4 loãng. Ta dùng một kim loại:

- A. Mg
- B. Ba
- C. Cu
- D. Zn

Đáp án: B

Câu 96: (Mức 2)

Nhóm chất tác dụng với dung dịch HCl và với dung dịch H_2SO_4 loãng là:

- A. CuO, BaCl₂, ZnO
- B. CuO, Zn, ZnO
- C. CuO, BaCl₂, Zn
- D. BaCl₂, Zn, ZnO

Đáp án: B

Câu 97: (Mức 2)

Dãy các chất tác dụng được với dung dịch H₂SO₄ loãng tạo thành sản phẩm có chất khí:

- A. BaO, Fe, CaCO₃
- B. Al, MgO, KOH
- C. Na₂SO₃, CaCO₃, Zn
- D. Zn, Fe₂O₃, Na₂SO₃

Đáp án: C

Câu 98: (Mức 3)

Có 4 ống nghiệm đựng các dung dịch: Ba(NO₃)₂, KOH, HCl, (NH₄)₂CO₃. Dùng thêm hóa chất nào sau đây để nhận biết được chúng ?

- A. Quỳ tím
- B. Dung dịch phenolphthalein
- C. CO₂
- D. Dung dịch NaOH

Đáp án: A

Câu 99: (Mức 2)

Giấy quỳ tím chuyển sang màu đỏ khi nhúng vào dung dịch được tạo thành từ:

- A. 0,5 mol H₂SO₄ và 1,5 mol NaOH
- B. 1 mol HCl và 1 mol KOH
- C. 1,5 mol Ca(OH)₂ và 1,5 mol HCl
- D. 1 mol H₂SO₄ và 1,7 mol NaOH

Đáp án: D

Câu 100: (Mức 2)

Thuốc thử dùng để nhận biết 3 dung dịch : HCl, HNO₃, H₂SO₄ đựng trong 3 lọ khác nhau đã mất nhãn. Các thuốc thử dùng để nhận biết được chúng là:

- A. Dung dịch AgNO₃ và giấy quỳ tím.

- B. Dung dịch BaCl_2 và dung dịch AgNO_3
- C. Dùng quì tím và dung dịch NaOH
- D. Dung dịch BaCl_2 và dung dịch phenolphtalein.

Đáp án: B

Câu 101: (Mức 2)

Thuốc thử dùng để nhận biết dung dịch HCl và dung dịch H_2SO_4 là:

- A. K_2SO_4
- B. $\text{Ba}(\text{OH})_2$
- C. NaCl
- D. NaNO_3

Đáp án: B

Câu 102: (Mức 2)

Có 3 lọ mất nhãn đựng riêng biệt 3 dung dịch của 3 chất: HCl , Na_2SO_4 , NaOH . Chỉ dùng một hóa chất nào sau đây để phân biệt chúng ?

- A. Dung dịch BaCl_2
- B. Quì tím
- C. Dung dịch $\text{Ba}(\text{OH})_2$
- D. Zn

Đáp án: B

Câu 103: (Mức 2)

Kim loại X tác dụng với HCl sinh ra khí hydro. Dẫn khí hydro qua oxit của kim loại Y đun nóng thì thu được kim loại Y. Hai kim loại X và Y lần lượt là:

- A. Cu , Ca
- B. Pb , Cu
- C. Pb , Ca
- D. Ag , Cu

Đáp án: B

Câu 104: (Mức 2)

Khi cho từ từ dung dịch NaOH cho đến dư vào ống nghiệm đựng dung dịch hỗn hợp gồm HCl và một ít phenolphtalein. Hiện tượng quan sát được trong ống nghiệm là:

- A. Màu đỏ mất dần.
- B. Không có sự thay đổi màu
- C. Màu đỏ từ từ xuất hiện.
- D. Màu xanh từ từ xuất hiện.

Đáp án: C

Câu 105: (Mức 2)

Cho một mẫu giấy quì tím vào dung dịch NaOH . Thêm từ từ dung dịch HCl vào cho đến dư ta thấy màu giấy quì:

- A. Màu đỏ không thay đổi
- B. Màu đỏ chuyển dần sang xanh.
- C. Màu xanh không thay đổi
- D. Màu xanh chuyển dần sang đỏ.

Đáp án: D

Câu 106: (Mức 2)

Cho 300ml dung dịch HCl 1M vào 300ml dung dịch NaOH 0,5M. Nếu cho quì tím vào dung dịch sau phản ứng thì quì tím chuyển sang:

- A. Màu xanh.
- B. Không đổi màu.
- C. Màu đỏ.
- D. Màu vàng nhạt.

Đáp án: C

Câu 107: (Mức 2)

Khi trộn lẫn dung dịch X chứa 1 mol HCl vào dung dịch Y chứa 1,5 mol NaOH được dung dịch Z. Dung dịch Z làm quì tím chuyển sang:

- A. Màu đỏ
- B. Màu xanh
- C. Không màu.
- D. Màu tím.

Đáp án: B

Câu 108: (Mức 2)

Cho phản ứng: $\text{BaCO}_3 + 2\text{X} \rightarrow \text{H}_2\text{O} + \text{Y} + \text{CO}_2$

X và Y lần lượt là:

- A. H_2SO_4 và BaSO_4
- B. HCl và BaCl_2
- C. H_3PO_4 và $\text{Ba}_3(\text{PO}_4)_2$
- D. H_2SO_4 và BaCl_2

Đáp án: B

Câu 109: (Mức 2)

Trung hòa 200 ml dung dịch H_2SO_4 1M bằng 200 gam dung dịch NaOH 10%.
Dung dịch sau phản ứng làm quì tím chuyển sang:

- A. Đỏ
- B. Vàng nhạt
- C. Xanh
- D. Không màu

Đáp án: C

Câu 110: (Mức 2)

Dung dịch A có $\text{pH} < 7$ và tạo ra kết tủa khi tác dụng với dung dịch Bari nitrat $\text{Ba}(\text{NO}_3)_2$. Chất A là:

- A. HCl
- B. Na_2SO_4
- C. H_2SO_4
- D. $\text{Ca}(\text{OH})_2$

Đáp án: C

Câu 111: (Mức 2)

Thuốc thử dùng để nhận biết 4 chất: HNO_3 , $\text{Ba}(\text{OH})_2$, NaCl, NaNO_3 đựng riêng biệt trong các lọ mất nhãn là:

- A. Dùng quì tím và dung dịch $\text{Ba}(\text{NO}_3)_2$.
- B. Dùng dung dịch phenolphthalein và dung dịch AgNO_3 .
- C. Dùng quì tím và dung dịch AgNO_3 .
- D. Dùng dung dịch phenolphthalein và dung dịch $\text{Ba}(\text{NO}_3)_2$.

Đáp án: C

Câu 112: (Mức 2)

Dùng thuốc thử nào sau đây để nhận biết các chất chứa trong các ống nghiệm mất nhãn: HCl, KOH, NaNO_3 , Na_2SO_4 .

- A. Dùng quì tím và dung dịch CuSO_4 .
- B. Dùng dung dịch phenolphthalein và dung dịch BaCl_2 .
- C. Dùng quì tím và dung dịch BaCl_2 .
- D. Dùng dung dịch phenolphthalein và dung dịch H_2SO_4 .

Đáp án: C

Câu 113: (Mức 2)

Cho 4,8 gam kim loại magie tác dụng vừa đủ với dung dịch axit sunfuric. Thể tích khí Hidro thu được ở đktc là:

- A. 44,8 lít B. 4,48 lít C. 2,24 lít D. 22,4 lít

Đáp án: B

Câu 114: (Mức 2)

Cho 0,1mol kim loại kẽm vào dung dịch HCl dư. Khối lượng muối thu được là:

- A. 13,6 g B. 1,36 g C. 20,4 g D. 27,2 g

Đáp án: A

Câu 115: (Mức 3)

Cho 21 gam $MgCO_3$ tác dụng với một lượng vừa đủ dung dịch HCl 2M.

Thể tích dung dịch HCl đã dùng là:

- A. 2,5 lít B. 0,25 lít C. 3,5 lít D. 1,5 lít

Đáp án: B

Câu 116: (Mức 3)

Cho 0,2 mol Canxi oxit tác dụng với 500ml dung dịch HCl 1M. Khối lượng muối thu được là:

- A. 2,22 g B. 22,2 g C. 23,2 g D. 22,3 g

Đáp án: B

Câu 117: (Mức 3)

Hòa tan 16 gam SO_3 trong nước thu được 250 ml dung dịch axit. Nồng độ mol dung dịch axit thu được là:

- A. $C_{M(H_2SO_4)} = 0,2M$ B. $C_{M(H_2SO_4)} = 0,4M$
C. $C_{M(H_2SO_4)} = 0,6M$ D. $C_{M(H_2SO_4)} = 0,8M$

Đáp án: D

Câu 118:(Mức 3)

Khi cho 500ml dung dịch NaOH 1M tác dụng hết với dung dịch H₂SO₄ 2M tạo thành muối trung hòa. Thể tích dung dịch H₂SO₄ 2M là:

- A. 250 ml
- B. 400 ml
- C. 500 ml
- D. 125 ml

Đáp án: D

Câu 119: (Mức 3)

Cho 10,5 gam hỗn hợp hai kim loại Zn, Cu vào dung dịch H₂SO₄ loãng dư, người ta thu được 2,24 lít khí (đktc). Thành phần phần trăm theo khối lượng mỗi kim loại trong hỗn hợp ban đầu là:

- A. 61,9% và 38,1%
- B. 63% và 37%
- C. 61,5% và 38,5%
- D. 65% và 35%

Đáp án: A

Câu 120: (Mức 3):

Hòa tan hết 4,6 gam Na vào H₂O được dung dịch X. Thể tích dung dịch HCl 1M cần để phản ứng hết với dung dịch X là:

- A. 100 ml
- B. 200 ml
- C. 300 ml
- D. 400 ml

Đáp án: B

Câu 121: (Mức 3):

Trung hòa 200 ml dung dịch H₂SO₄ 1M bằng dung dịch NaOH 20%. Khối lượng dung dịch NaOH cần dùng là:

- A. 100 g
- B. 80 g
- C. 90 g
- D. 150 g

Đáp án: B

Câu 122: (Mức 3):

Để trung hòa 112 gam dung dịch KOH 25% thì cần dùng bao nhiêu gam dung dịch axit sunfuric 4,9%:

- A. 400 g
- B. 500 g
- C. 420 g
- D. 570 g

Bài 4. MỘT SỐ AXIT QUAN TRỌNG

Câu 128: (Mức 1)

Dung dịch axit clohidric tác dụng với sắt tạo thành:

- A. Sắt (II) clorua và khí hiđrô. B. Sắt (III) clorua và khí hiđrô.
C. Sắt (II) Sunfua và khí hiđrô. D. Sắt (II) clorua và nước.

Đáp án: A

Câu 129: (Mức 1)

Dung dịch axit clohidric tác dụng với đồng (II) hiđrôxit tạo thành dung dịch màu:

- A. Vàng đậm. B. Đỏ.
C. Xanh lam. D. Da cam.

Đáp án: C

Câu 130: (Mức 1)

Oxit tác dụng với axit clohidric là:

- A. SO_2 . B. CO_2 .
C. CuO . D. CO .

Đáp án: C

Câu 131: (Mức 1)

Dung dịch muối tác dụng với dung dịch axit clohidric là:

- A. $\text{Zn}(\text{NO}_3)_2$ B. NaNO_3 .
C. AgNO_3 . D. $\text{Cu}(\text{NO}_3)_2$.

Đáp án: C

Câu 132: (Mức 1)

Muối pha loãng axit sunfuric đặc ta phải:

- A. Rót nước vào axit đặc. B. Rót từ từ nước vào axit đặc.
C. Rót nhanh axit đặc vào nước. D. Rót từ từ axit đặc vào nước.

Đáp án: D

Câu 133: (Mức 1)

Axit sunfuric đặc nóng tác dụng với đồng kim loại sinh ra khí:

A. CO₂. B. SO₂. C. SO₃. D. H₂S.

Đáp án: B

Câu 134: (Mức 1)

Khi nhỏ từ từ H₂SO₄ đậm đặc vào đường chứa trong cốc hiện tượng quan sát được là:

- A. Sủi bọt khí, đường không tan.
- B. Màu trắng của đường mất dần, không sủi bọt.
- C. Màu đen xuất hiện và có bọt khí sinh ra.
- D. Màu đen xuất hiện, không có bọt khí sinh ra.

Đáp án: C

Câu 135: (Mức 1)

Nhỏ từ từ dung dịch axit clohidric vào cốc đựng một mẫu đá vôi cho đến dư axit. Hiện tượng nào sau đây xảy ra ?

- A. Sủi bọt khí, đá vôi không tan.
- B. Đá vôi tan dần, không sủi bọt khí.
- C. Không sủi bọt khí, đá vôi không tan.
- D. Sủi bọt khí, đá vôi tan dần.

Đáp án: D

Câu 136: (Mức 1)

Để điều chế muối clorua, ta chọn những cặp chất nào sau đây ?

- A. Na₂SO₄, KCl.
- B. HCl, Na₂SO₄.
- C. H₂SO₄, BaCl₂.
- D. AgNO₃, HCl.

Đáp án: D

Câu 137: (Mức 1)

Dãy các chất thuộc loại axit là:

- A. HCl, H₂SO₄, Na₂S, H₂S.
- B. Na₂SO₄, H₂SO₄, HNO₃, H₂S.
- C. HCl, H₂SO₄, HNO₃, Na₂S.
- D. HCl, H₂SO₄, HNO₃, H₂S.

Đáp án: D

Câu 138: (Mức 1)

Dãy các kim loại đều tác dụng với dung dịch axit clohidric:

- A. Al, Cu, Zn, Fe.
- B. Al, Fe, Mg, Ag.

C. Al, Fe, Mg, Cu. D. Al, Fe, Mg, Zn.

Đáp án: D

Câu 139: (Mức 1)

Để nhận biết dung dịch axit sunfuric và dung dịch axit clohidric ta dùng thuốc thử:

- A. NaNO_3 . B. KCl .
C. MgCl_2 . D. BaCl_2 .

Đáp án: D

Câu 140: (Mức 1)

Để nhận biết gốc sunfat ($= \text{SO}_4$) người ta dùng muối nào sau đây ?

- A. BaCl_2 . B. NaCl .
C. CaCl_2 . D. MgCl_2 .

Đáp án: A

Câu 141: (Mức 1)

Sắt tác dụng với khí clo ở nhiệt độ cao tạo thành:

- A. Sắt (II) Clorua. B. Sắt Clorua.
C. Sắt (III) Clorua. D. Sắt (II) Clorua và sắt (III) Clorua.

Đáp án: C

Câu 142: (Mức 1)

Hàm lượng cacbon trong thép chiếm dưới:

- A. 3%. B. 2%.
C. 4%. D. 5%.

Đáp án: B

Câu 143: (Mức 1)

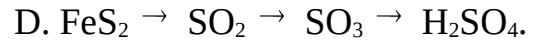

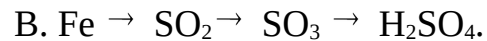
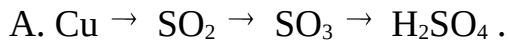
Đinh sắt không bị ăn mòn khi để trong:

- A. Không khí khô, đậy kín. B. Nước có hoà tan khí ôxi.
C. Dung dịch muối ăn. D. Dung dịch đồng (II) sunfat.

Đáp án: A

Câu 144: (Mức 2)

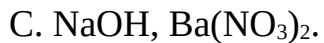
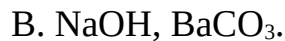
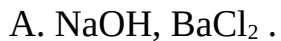
Sơ đồ phản ứng nào sau đây dùng để sản xuất axit sunfuric trong công nghiệp ?



Đáp án: D

Câu 145: (Mức 2)

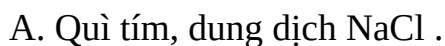
Cặp chất tác dụng với dung dịch axit clohidric:



Đáp án: B

Câu 146: (Mức 2)

Để nhận biết 3 ống nghiệm chứa dung dịch HCl , dung dịch H_2SO_4 và nước ta dùng:

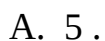


Đáp án: D

Câu 147: (Mức 2)

Cho magiê tác dụng với axit sunfuric đặc nóng xảy ra theo phản ứng sau:

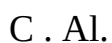
$\text{Mg} + \text{H}_2\text{SO}_4 \text{ (đặc, nóng)} \rightarrow \text{MgSO}_4 + \text{SO}_2 + \text{H}_2\text{O}$. Tổng hệ số trong phương trình hoá học là:



Đáp án: C

Câu 148: (Mức 2)

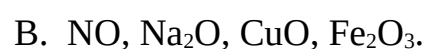
Để làm sạch dung dịch FeCl_2 có lẫn tạp chất CuCl_2 ta dùng:



Đáp án: D

Câu 149: (Mức 2)

Dãy các oxit tác dụng được với dung dịch HCl :



C. SO_2 , CaO , CuO , FeO .

D. CuO , CaO , Na_2O , FeO .

Đáp án: D

Câu 150: (Mức 2)

Chỉ dùng dung dịch NaOH có thể phân biệt được cặp kim loại:

A. Fe , Cu .

B. Mg , Fe .

C. Al , Fe .

D. Fe , Ag .

Đáp án: C

Câu 151: (Mức 2)

Pha dung dịch chứa 1 g NaOH với dung dịch chứa 1 g HCl sau phản ứng thu được dung dịch có môi trường:

A. Axít .

B. Trung tính.

C. Bazơ.

D. Không xác định.

Đáp án: A

Câu 152: (Mức 2)

Phản ứng giữa dung dịch $\text{Ba}(\text{OH})_2$ và dung dịch H_2SO_4 (vừa đủ) thuộc loại:

A. Phản ứng trung hoà .

B. Phản ứng thế.

C. Phản ứng hoá hợp.

D. Phản ứng oxi hoá – khử.

Đáp án: A

Câu 153: (Mức 2)

Để làm sạch một mẫu kim loại đồng có lẫn sắt và kẽm kim loại, có thể ngâm mẫu đồng này vào dung dịch:

A. FeCl_2 dư .

B. ZnCl_2 dư.

C. CuCl_2 dư.

D. AlCl_3 dư.

Đáp án: C

Câu 154: (Mức 2)

Nhôm hoạt động hoá học mạnh hơn sắt, vì:

A. Al , Fe đều không phản ứng với HNO_3 đặc nguội.

B. Al có phản ứng với dung dịch kiềm.

C. Nhôm đẩy được sắt ra khỏi dung dịch muối sắt.

D. Chỉ có sắt bị nam châm hút.

Đáp án: C

Câu 155: (Mức 2)

Cặp chất không thể đồng thời tồn tại trong một dung dịch:

A. NaOH, K₂SO₄ .

B. HCl, Na₂SO₄.

C. H₂SO₄, KNO₃.

D. HCl, AgNO₃.

Đáp án: D

Câu 156: (Mức 2)

Cho cùng một lượng sắt và kẽm tác dụng hết với axit clohidric:

A. Lượng H₂ thoát ra từ sắt nhiều hơn kẽm .

B. Lượng H₂ thoát ra từ kẽm nhiều hơn sắt.

C. Lượng H₂ thu được từ sắt và kẽm như nhau.

D. Lượng H₂ thoát ra từ sắt gấp 2 lần lượng H₂ thoát ra từ kẽm.

Đáp án: A

Câu 157: (Mức 2)

Để làm khô một mẫu khí SO₂ ẩm có (lẫn hơi nước) ta dẫn mẫu khí này qua:

A. NaOH đặc .

B. Nước vôi trong dư.

C. H₂SO₄ đặc.

D. Dung dịch HCl.

Đáp án: C

Câu 158: (Mức 3)

Cho 5,6 g sắt tác dụng với axit clohidric dư, sau phản ứng thể tích khí H₂ thu được (ở đktc):

A. 1,12 lít .

B. 2,24 lít.

C. 11,2 lít.

D. 22,4 lít.

Đáp án: B

Câu 159: (Mức 3)

Trong sơ đồ phản ứng sau: $M \xrightarrow{+HCl} N \xrightarrow{+NaOH} Cu(OH)_2$. M là:

A. Cu .

B. Cu(NO₃)₂.

C. CuO.

D.

CuSO₄.

Đáp án: C

Câu 160: (Mức 3)

Khối lượng dung dịch NaOH 10% cần để trung hoà 200 ml dung dịch HCl 1M là:

- A. 40g . B. 80g. C. 160g. D. 200g.

Đáp án: B

Câu 161: (Mức 3)

Trung hoà 200g dung dịch HCl 3,65% bằng dung dịch KOH 1M . Thể tích dung dịch KOH cần dùng là:

- A. 100 ml . B. 300 ml. C. 400 ml. D. 200 ml.

Đáp án: D

Câu 162: (Mức 3)

Cho 5,6 gam sắt tác dụng với 5,6 lít khí Cl₂ (đktc). Sau phản ứng thu được một lượng muối clorua là:

- A. 16,25 g . B. 15,25 g. C. 17,25 g. D. 16,20 g.

Đáp án: A

Câu 163: (Mức 3)

Thuốc thử để nhận biết ba lọ mất nhãn chứa riêng biệt 3 dung dịch: H₂SO₄, BaCl₂, NaCl là:

- A. Phenolphtalein. B. Dung dịch NaOH.
C. Dung dịch Na₂CO₃. D. Dung dịch Na₂SO₄.

Đáp án: C

Câu 164: (Mức 3)

Thêm 20 g HCl vào 480 gam dung dịch HCl 5%, thu được dung dịch mới có nồng độ:

- A. 9,8% . B. 8,7%. C. 8,9%. D.8,8%.

Đáp án: D

Câu 165: (Mức 3)

Cho 8 g hỗn hợp Fe và Mg tác dụng hoàn toàn với dung dịch HCl dư sinh ra 4,48 lít khí H₂ (đktc). Thành phần phần trăm về khối lượng của Fe và Mg lần lượt là:

- A. 70% và 30% B. 60% và 40%.
C.50% và 50%. D. 80% và 20%.

Đáp án: A

Câu 166: (Mức 3)

Hoà tan hết 3,6 g một kim loại hoá trị II bằng dung dịch H_2SO_4 loãng được 3,36 lít H_2 (đktc). Kim loại là:

- A. Zn . B. Mg. C. Fe. D. Ca.

Đáp án: B

Câu 167: (Mức 3)

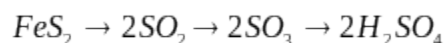
Nhúng đinh sắt vào dung dịch $CuSO_4$, khi lấy đinh sắt ra khối lượng tăng 0,2g so với ban đầu. Khối lượng kim loại đồng bám vào sắt:

- A. 0,2 g . B. 1,6 g. C. 3,2 g. D. 6,4 g.

Đáp án: B

Câu 168: (Mức 3)

Từ 60 kg FeS_2 sản xuất được bao nhiêu kg H_2SO_4 theo sơ đồ sau:



- A. 98 kg . B. 49 kg. C. 48 kg. D. 96 kg.

Đáp án: A

Câu 169: (Mức 3)

Đốt cháy 16,8 gam sắt trong khí ôxi ở nhiệt độ cao thu được 16,8 gam Fe_3O_4 . Hiệu suất phản ứng là:

- A. 71,4% . B. 72,4%. C. 73,4% D. 74,4%.

Đáp án: B

Câu 170: (Mức 3)

Trung hoà 100 ml dung dịch H_2SO_4 1M bằng V (ml) dung dịch NaOH 1M. V là:

- A. 50 ml . B. 200 ml. C. 300 ml. D. 400 ml.

Đáp án: B

Câu 171: (Mức 3)

Khi đốt 5g một mẫu thép trong khí ôxi thì thu được 0,1g khí CO_2 . Vậy phần trăm cacbon có chứa trong thép là:

- A. 0,55% . B. 5,45%.
C. 54,50%. D. 10,90%.

Đáp án: A

Câu 172: (Mức 3)

Hoà tan 50 g CaCO_3 vào dung dịch axit clohidric dư. Biết hiệu suất của phản ứng là 85%. Thể tích của khí CO_2 (đktc) thu được là:

- A. 0,93 lít. B. 95,20 lít. C. 9,52 lít. D. 11,20 lít.

Đáp án: C

Câu 173: (Mức 3)

Một dung dịch axit sunfuric trên thị trường có nồng độ 55%, để có 0,5 mol axit sunfuric thì cần lấy một lượng dung dịch axit sunfuric là:

- A. 98,1 g. B. 97,0 g. C. 47,6 g. D. 89,1 g.

Đáp án: D

Câu 174: (Mức 3)

Nhúng cây đinh sắt có khối lượng 2 gam vào dung dịch đồng (II) sunfat, sau phản ứng lấy thanh sắt ra rửa sạch, sấy khô có khối lượng 2,4 gam, khối lượng sắt tham gia phản ứng là:

- A. 2,8 g. B. 28 g. C. 5,6 g. D. 56 g.

Đáp án: A

Bài 7: TÍNH CHẤT HOÁ HỌC CỦA BAZƠ

Câu 175: (Mức 1)

Dung dịch KOH phản ứng với dãy oxit:

- A. CO_2 ; SO_2 ; P_2O_5 ; Fe_2O_3 B. Fe_2O_3 ; SO_2 ; SO_3 ; MgO
C. P_2O_5 ; CO_2 ; Al_2O_3 ; SO_3 D. P_2O_5 ; CO_2 ; CuO ; SO_3

Đáp án: C

Câu 176: (Mức 1)

Dãy các bazơ bị nhiệt phân huỷ tạo thành oxit bazơ tương ứng và nước:

- A. $\text{Cu}(\text{OH})_2$; $\text{Zn}(\text{OH})_2$; $\text{Al}(\text{OH})_3$; $\text{Mg}(\text{OH})_2$
B. $\text{Cu}(\text{OH})_2$; $\text{Zn}(\text{OH})_2$; $\text{Al}(\text{OH})_3$; NaOH
C. $\text{Fe}(\text{OH})_3$; $\text{Cu}(\text{OH})_2$; KOH ; $\text{Mg}(\text{OH})_2$
D. $\text{Fe}(\text{OH})_3$; $\text{Cu}(\text{OH})_2$; $\text{Ba}(\text{OH})_2$; $\text{Mg}(\text{OH})_2$

Đáp án: A

Câu 177. (Mức 1)

Dãy các bazơ làm phenolphthalein hoá đỏ:

- A. NaOH; Ca(OH)₂; Zn(OH)₂; Mg(OH)₂ B. NaOH; Ca(OH)₂; KOH;
LiOH
C. LiOH; Ba(OH)₂; KOH; Al(OH)₃ D. LiOH; Ba(OH)₂; Ca(OH)₂;
Fe(OH)₃

Đáp án: B

Câu 178. (Mức 1) Dung dịch KOH **không** có tính chất hoá học nào sau đây?

- A. Làm quỳ tím hoá xanh
B. Tác dụng với oxit axit tạo thành muối và nước
C. Tác dụng với axit tạo thành muối và nước
D. Bị nhiệt phân huỷ tạo ra oxit bazơ và nước

Đáp án: D

Câu 179. (Mức 1)

Nhóm các dung dịch có pH > 7 là:

- A. HCl, HNO₃ B. NaCl, KNO₃
C. NaOH, Ba(OH)₂ D. Nước cất, nước muối

Đáp án: C

Câu 180. (Mức 1)

Bazơ tan và không tan có tính chất hoá học chung là:

- A. Làm quỳ tím hoá xanh
B. Tác dụng với oxit axit tạo thành muối và nước
C. Tác dụng với axit tạo thành muối và nước
D. Bị nhiệt phân huỷ tạo ra oxit bazơ và nước

Đáp án: C

Câu 181: (Mức 1)

Cho các bazơ sau: Fe(OH)₃, Al(OH)₃, Cu(OH)₂, Zn(OH)₂. Khi nung nóng các bazơ trên tạo ra dãy oxit bazơ tương ứng là:

- A. FeO, Al₂O₃, CuO, ZnO B. Fe₂O₃, Al₂O₃, CuO, ZnO
C. Fe₃O₄, Al₂O₃, CuO, ZnO D. Fe₂O₃, Al₂O₃, Cu₂O, ZnO

Đáp án: B

Câu 182: (Mức 1)

Nhóm bazơ vừa tác dụng được với dung dịch HCl, vừa tác dụng được với dung dịch KOH.

A. Ba(OH)₂ và NaOH

B. NaOH và Cu(OH)₂

C. Al(OH)₃ và Zn(OH)₂

D. Zn(OH)₂ và Mg(OH)₂

Đáp án: C

Câu 183: (Mức 1)

Có những bazơ Ba(OH)₂, Mg(OH)₂, Cu(OH)₂, Ca(OH)₂. Nhóm các bazơ làm quỳ tím hoá xanh là:

A. Ba(OH)₂, Cu(OH)₂

B. Ba(OH)₂, Ca(OH)₂

C. Mg(OH)₂, Ca(OH)₂

D. Mg(OH)₂, Ba(OH)₂

Đáp án: B

Câu 184: (Mức 1)

Cặp chất nào sau đây tồn tại trong một dung dịch (không có xảy ra phản ứng với nhau)?

A. NaOH và Mg(OH)₂

B. KOH và Na₂CO₃

C. Ba(OH)₂ và Na₂SO₄

D. Na₃PO₄ và Ca(OH)₂

Đáp án: B

Câu 185: (Mức 1)

Để nhận biết dd KOH và dd Ba(OH)₂ ta dùng thuốc thử là:

A. Phenolphthalein

B. Quỳ tím

C. dd H₂SO₄

D. dd HCl

Đáp án: C

Câu 186: (Mức 2)

Sục 2,24 lít khí CO₂ vào dung dịch chứa 0,2 mol NaOH. Dung dịch thu được sau phản ứng chứa:

A. NaHCO₃

B. Na₂CO₃

C. Na₂CO₃ và NaOH

D. NaHCO₃ và NaOH

Đáp án: B

Đáp án: B

Câu 193: (Mức 2)

Để điều chế dung dịch $\text{Ba}(\text{OH})_2$, người ta cho:

- A. BaO tác dụng với dung dịch HCl
 Na_2CO_3
- B. BaCl_2 tác dụng với dung dịch
 Na_2CO_3
- C. BaO tác dụng với dung dịch H_2O
 Na_2SO_4
- D. $\text{Ba}(\text{NO}_3)_2$ tác dụng với dung dịch
 Na_2SO_4

Đáp án: C

Câu 194: (Mức 2)

Để điều chế dung dịch KOH , người ta cho:

- A. K_2CO_3 tác dụng với dung dịch $\text{Ca}(\text{OH})_2$
dung dịch NaOH
- B. K_2SO_4 tác dụng với dung
dung dịch NaOH
- C. K_2SO_3 tác dụng với dung dịch CaCl_2
dung dịch NaNO_3
- D. K_2CO_3 tác dụng với dung
dung dịch NaNO_3

Đáp án: A

Câu 195: (Mức 2)

Cho 1g NaOH rắn tác dụng với dung dịch chứa 1g HNO_3 . Dung dịch sau phản ứng có môi trường:

- A. Trung tính
- B. Bazơ
- C. Axít
- D. Lưỡng tính

Đáp án: B

Câu 196: (Mức 2)

Cặp chất **không tồn tại** trong một dung dịch (chúng xảy ra phản ứng với nhau):

- A. CuSO_4 và KOH
- B. CuSO_4 và NaCl
- C. MgCl_2 và $\text{Ba}(\text{NO}_3)_2$
- D. AlCl_3 và $\text{Mg}(\text{NO}_3)_2$

Đáp án: A

Câu 197: (Mức 2)

Cặp chất tồn tại trong một dung dịch (chúng không phản ứng với nhau):

- A. KOH và NaCl
- B. KOH và HCl
- C. KOH và MgCl_2
- D. KOH và $\text{Al}(\text{OH})_3$

Đáp án: A

Câu 198. (Mức 2)

Dùng dung dịch KOH phân biệt được hai muối :

A. NaCl và $MgCl_2$

B. NaCl và $BaCl_2$

C. Na_2SO_4 và Na_2CO_3

D. $NaNO_3$ và Li_2CO_3

Đáp án: A

Câu 199. (Mức 2)

Nhỏ một giọt quỳ tím vào dung dịch KOH, dung dịch có màu xanh, nhỏ từ từ dung dịch HCl cho tới dư vào dung dịch có màu xanh trên thì:

A. Màu xanh vẫn không thay đổi.
mất hẳn

B. Màu xanh nhạt dần rồi

C. Màu xanh nhạt dần, mất hẳn rồi chuyển sang màu đỏ
dần

D. Màu xanh đậm thêm

Đáp án: C

Câu 200. (Mức 2)

Nhóm các khí đều **không** phản ứng với dung dịch KOH ở điều kiện thường:

A. CO_2 , N_2O_5 , H_2S

B. CO_2 , SO_2 , SO_3

C. NO_2 , HCl, HBr

D. CO, NO, N_2O

Đáp án: D

Câu 201. (Mức 2)

Cho 100ml dung dịch $Ba(OH)_2$ 0,1M vào 100ml dung dịch HCl 0,1M. Dung dịch thu được sau phản ứng:

A. Làm quỳ tím hoá xanh

B. Làm quỳ tím hoá đỏ

C. Phản ứng được với magiê giải phóng khí hiđrô
quỳ tím

D. Không làm đổi màu

Đáp án: A

Câu 202: (Mức 3)

Dẫn 1,68 lít khí CO_2 (đktc) vào x g dung dịch KOH 5,6%. Để thu được muối $KHCO_3$ duy nhất thì x có giá trị là:

A. 75g
300 g

B. 150 g

C. 225 g

D.

Đáp án: A

Câu 203: (Mức 3)

Dùng 400ml dung dịch $\text{Ba}(\text{OH})_2$ 0,1M hấp thụ hoàn toàn V lít khí SO_2 (đktc). Sau phản ứng thu được muối BaSO_3 không tan. Giá trị bằng số của V là:

- A. 0,896 lít B. 0,448 lít C. 8,960 lít D. 4,480 lít

Đáp án: A

Câu 204: (Mức 3)

Nhiệt phân hoàn toàn 19,6g $\text{Cu}(\text{OH})_2$ thu được một chất rắn màu đen, dùng khí H_2 dư khử chất rắn màu đen đó thu được một chất rắn màu đỏ có khối lượng là:

- A. 6,4 g B. 9,6 g C. 12,8 g D. 16 g

Đáp án: C

Câu 205: (Mức 3)

Cho 200ml dung dịch $\text{Ba}(\text{OH})_2$ 0,4M vào 250ml dung dịch H_2SO_4 0,3M. Khối lượng kết tủa thu được là:

- A. 17,645 g B. 16,475 g C. 17,475 g D. 18,645 g

Đáp án: C

Câu 206: (Mức 3)

Trộn 400g dung dịch KOH 5,6% với 300g dung dịch CuSO_4 16%. Khối lượng kết tủa thu được là:

- A. 9,8 g B. 14,7 g C. 19,6 g D. 29,4 g

Đáp án: C

Câu 207: (Mức 3)

Nhiệt phân hoàn toàn x g $\text{Fe}(\text{OH})_3$ đến khối lượng không đổi thu được 24g chất rắn. Giá trị bằng số của x là:

- A. 16,05g B. 32,10g C. 48,15g D. 72,25g

Đáp án: B

Câu 208: (Mức 3)

Cho 200ml dung dịch KOH 1M tác dụng với 200ml dung dịch H_2SO_4 1M, sau phản ứng cho thêm một mảnh Mg dư vào sản phẩm thấy thoát ra một thể tích khí H_2 (đktc) là:

- A. 2,24 lít B. 4,48 lít C. 3,36 lít D. 6,72 lít

C. Làm đổi màu chất chỉ thị, tác dụng với oxit axit và axit.

D. Tác dụng với oxit axit và axit.

Đáp án: C

Câu 220: (Mức 1)

Cặp chất **không** thể tồn tại trong một dung dịch (tác dụng được với nhau) là:

A. $\text{Ca}(\text{OH})_2$, Na_2CO_3

B. $\text{Ca}(\text{OH})_2$, NaCl

C. $\text{Ca}(\text{OH})_2$, NaNO_3

D. NaOH , KNO_3

Đáp án: A

Câu 221: (Mức 1)

Nếu rót 200 ml dung dịch NaOH 1M vào ống nghiệm đựng 100 ml dung dịch H_2SO_4 1M thì dung dịch tạo thành sau phản ứng sẽ:

A. Làm quỳ tím chuyển đỏ

B. Làm quỳ tím chuyển xanh

C. Làm dung dịch phenolphthalein không màu chuyển đỏ.

D. Không làm thay đổi màu quỳ tím.

Đáp án: D

Câu 222: (Mức 1)

Dung dịch NaOH và dung dịch KOH **không** có tính chất nào sau đây?

A. Làm đổi màu quỳ tím và phenolphthalein

B. Bị nhiệt phân hủy khi đun nóng tạo thành oxit bazơ và nước.

C. Tác dụng với oxit axit tạo thành muối và nước

D. Tác dụng với axit tạo thành muối và nước

Đáp án: B

Câu 223: (Mức 1)

Cặp oxit phản ứng với nước ở nhiệt độ thường tạo thành dung dịch bazơ là:

A. K_2O , Fe_2O_3 .

B. Al_2O_3 , CuO .

C. Na_2O , K_2O .

D. ZnO , MgO .

Đáp án: C

Câu 224: (Mức 1)

Dãy các bazơ bị phân hủy ở nhiệt độ cao:

A. $\text{Ca}(\text{OH})_2$, NaOH , $\text{Zn}(\text{OH})_2$, $\text{Fe}(\text{OH})_3$

C. Quỳ tím và dung dịch K_2CO_3

D. Quỳ tím và dung dịch $NaCl$

Đáp án: C

Câu 230: (Mức 2)

Cặp chất khi phản ứng với nhau tạo thành chất kết tủa trắng :

A. $Ca(OH)_2$ và Na_2CO_3 .

B. $NaOH$ và Na_2CO_3 .

C. KOH và $NaNO_3$.

D. $Ca(OH)_2$ và $NaCl$

Đáp án: A

Câu 231: (Mức 2)

Cặp chất khi phản ứng với nhau tạo ra dung dịch $NaOH$ và khí H_2 :

A. Na_2O và H_2O .

B. Na_2O và CO_2 .

C. Na và H_2O .

D. $NaOH$ và HCl

Đáp án: C.

Câu 232: (Mức 2)

Cặp chất đều làm đục nước vôi trong $Ca(OH)_2$:

A. CO_2 , Na_2O .

B. CO_2 , SO_2 .

C. SO_2 , K_2O

D. SO_2 , BaO

Đáp án: B.

Câu 233: (Mức 2)

Dãy các bazơ đều làm đổi màu quỳ tím và dung dịch phenolphthalein :

A. KOH , $Ca(OH)_2$, $Cu(OH)_2$, $Zn(OH)_2$

B. $NaOH$, $Al(OH)_3$, $Ba(OH)_2$,

$Cu(OH)_2$

C. $Ca(OH)_2$, KOH , $Zn(OH)_2$, $Fe(OH)_2$

D. $NaOH$, KOH , $Ca(OH)_2$, $Ba(OH)_2$

Đáp án: D

Câu 234: (Mức 2)

Dung dịch $NaOH$ và dung dịch $Ca(OH)_2$ **không phản ứng** với cặp chất:

A. HCl , H_2SO_4

B. CO_2 , SO_3

C. $Ba(NO_3)_2$, $NaCl$

D. H_3PO_4 , $ZnCl_2$

Đáp án: C

Câu 235: (Mức 2)

Thành phần phần trăm của Na và Ca trong hợp chất $NaOH$ và $Ca(OH)_2$ lần lượt là:

A. 50,0 %, 54,0 %

B. 52,0 %, 56,0 %

C. 54,1 %, 57,5 %

D. 57, 5% , 54,1 %

Đáp án: D

Câu 236: (Mức 2)

Dung dịch NaOH phản ứng với tất cả các chất trong dãy:

A. CO_2 , P_2O_5 , HCl, CuCl_2

B. CO_2 , P_2O_5 , KOH, CuCl_2

C. CO_2 , CaO, KOH, CuCl_2

D. CO_2 , P_2O_5 , HCl, KCl

Đáp án: A

Câu 237: (Mức 2)

NaOH rắn có khả năng hút nước rất mạnh nên có thể dùng làm khô một số chất. NaOH làm khô khí ẩm nào sau đây?

A. H_2S .

B. H_2 .

C. CO_2 .

D. SO_2 .

Đáp án: B

Câu 238: (Mức 3)

Cho 2,24 lít khí CO_2 (đktc) hấp thụ hoàn toàn bởi 200 ml dung dịch $\text{Ca}(\text{OH})_2$, chỉ thu được muối CaCO_3 . Nồng độ mol của dung dịch $\text{Ca}(\text{OH})_2$ cần dùng là:

A. 0,5M

B. 0,25M

C. 0,1M

D. 0,05M

Đáp án: A

Câu 239: (Mức 3)

Hòa tan 30 g NaOH vào 170 g nước thì thu được dung dịch NaOH có nồng độ là:

A. 18%

B. 16 %

C. 15 %

D. 17 %

Đáp án: C

Câu 240: (Mức 3)

Dẫn 22,4 lít khí CO_2 (đktc) vào 200g dung dịch NaOH 20%. Sau phản ứng tạo ra sản phẩm nào trong số các sản phẩm sau:

A. Muối natri cacbonat và nước.

B. Muối natri hidrocacbonat

C. Muối natri cacbonat.

D. Muối natri hidrocacbonat và natri cacbonat

Đáp án: B

Câu 241: (Mức 3)

Trung hòa 200 g dung dịch NaOH 10% bằng dung dịch HCl 3,65%. Khối lượng dung dịch HCl cần dùng là:

- A. 200g B. 300g C. 400g D. 500g

Đáp án : D

Câu 242: (Mức 3)

Hòa tan 112 g KOH vào nước thì được 2 lit dung dịch. Nồng độ mol của dung dịch thu được là:

- A. 2,0M B. 1,0M C. 0,1M D. 0,2M

Đáp án: B

Câu 243: (Mức 3)

Trung hòa 200 ml dung dịch NaOH 1M bằng dung dịch H₂SO₄ 10%. Khối lượng dung dịch H₂SO₄ cần dùng là:

- A . 98 g B. 89 g C. 9,8 g D.8,9 g

Đáp án : A

Câu 244: (Mức 3)

Hòa tan 6,2 g Na₂O vào nước được 2 lít dung dịch. Nồng độ mol của dung dịch thu được là:

- A .0,1M B. 0,2 M C. 0,3M D. 0,4M

Đáp án: A

Câu 245: (Mức 3)

Hòa tan 80 g NaOH vào nước thu được dung dịch có nồng độ 1M. Thể tích dung dịch NaOH

- là: A. 1 lít B. 2 lít C. 1,5 lít D. 3 lít

Đáp án: B

BÀI 9: TÍNH CHẤT HÓA HỌC CỦA MUỐI

Câu 246: (Mức 1)

Các cặp chất cùng tồn tại trong 1 dung dịch (không phản ứng với nhau):

1. CuSO₄ và HCl

2. H_2SO_4 và Na_2SO_3

3. KOH và NaCl

4. MgSO_4 và BaCl_2

A. (1; 2)

B. (3; 4)

C. (2; 4)

D. (1; 3)

Đáp án: D

Câu 247: (Mức 1) Cho dung dịch axit sunfuric loãng tác dụng với muối natrisunfit (Na_2SO_3). Chất khí nào sinh ra ?

A. Khí hiđro

B. Khí oxi

C. Khí lưu huỳnhđioxit

D. Khí hiđro sunfua

Đáp án: C

Câu 248: (Mức 2) Có thể dùng dung dịch HCl để nhận biết các dung dịch không màu sau đây:

A. NaOH , Na_2CO_3 , AgNO_3

B. Na_2CO_3 , Na_2SO_4 , KNO_3

C. KOH , AgNO_3 , NaCl

D. NaOH , Na_2CO_3 , NaCl

Đáp án: A

Câu 249: (Mức 1) Các Cặp chất nào sau đây **không** xảy ra phản ứng ?

1. $\text{CaCl}_2 + \text{Na}_2\text{CO}_3$

2. $\text{CaCO}_3 + \text{NaCl}$

3. $\text{NaOH} + \text{HCl}$

4. $\text{NaOH} + \text{KCl}$

A. 1 và 2

B. 2 và 3

C. 3 và 4

D. 2 và 4

Đáp án: D

Câu 250: (Mức 1) Điện phân dung dịch NaCl bão hoà, có màng ngăn giữa hai điện cực, sản phẩm thu được là:

- A. NaOH, H₂, Cl₂
- B. NaCl, NaClO, H₂, Cl₂
- C. NaCl, NaClO, Cl₂
- D. NaClO, H₂ và Cl₂

Đáp án: A

Câu 251: (Mức 1)

Cho 50 g CaCO₃ vào dung dịch HCl dư thể tích CO₂ thu được ở đktc là:

- A. 11,2 lít
- B. 1,12 lít
- C. 2,24 lít
- D. 22,4 lít

Đáp án: A

Câu 252: (Mức 2) Cho dung dịch KOH vào ống nghiệm đựng dung dịch FeCl₃, hiện tượng quan sát được là:

- A. Có kết tủa trắng xanh.
- B. Có khí thoát ra.
- C. Có kết tủa đỏ nâu.
- D. Kết tủa màu trắng.

Đáp án: C

Câu 253: (Mức 1) Cho phương trình phản ứng



X là:

- A. CO
- B. CO₂
- C. H₂
- D. Cl₂

Đáp án: B

Câu 254: (Mức 3)

A. Hãy cho biết muối nào có thể điều chế bằng phản ứng của kim loại với dung dịch Axit H_2SO_4 loãng ? ZnSO_4

B. Na_2SO_3

C. CuSO_4

D. MgSO_3

Đáp án: A

Câu 255: (Mức 1) Dung dịch của chất X có $\text{pH} > 7$ và khi cho tác dụng với dung dịch kali sunfat (K_2SO_4) tạo ra chất không tan (kết tủa). Chất X là:

A. BaCl_2

B. NaOH

C. $\text{Ba}(\text{OH})_2$

D. H_2SO_4

Đáp án: C

A. **Câu 256:** (Mức 1) Cặp chất nào sau đây **không** thể tồn tại trong 1 dung dịch (phản ứng với nhau) ? NaOH , MgSO_4

B. KCl , Na_2SO_4

C. CaCl_2 , NaNO_3

D. ZnSO_4 , H_2SO_4

Đáp án: A

Câu 257: (Mức 1)

A. Dung dịch tác dụng được với các dung dịch : $\text{Fe}(\text{NO}_3)_2$, CuCl_2 là: Dung dịch NaOH

B. Dung dịch HCl

C. Dung dịch AgNO_3

D. Dung dịch BaCl_2

Đáp án: A

Câu 258: (Mức 2) Nếu chỉ dùng dung dịch NaOH thì có thể phân biệt được 2 dung dịch muối trong mỗi cặp chất sau:

A. Na_2SO_4 và $\text{Fe}_2(\text{SO}_4)_3$

- B. Na_2SO_4 và K_2SO_4
- C. Na_2SO_4 và BaCl_2
- D. Na_2CO_3 và K_3PO_4

Đáp án: A

Câu 259: (Mức 2) Để làm sạch dung dịch đồng nitrat $\text{Cu}(\text{NO}_3)_2$ có lẫn tạp chất bạc nitrat AgNO_3 . Ta dùng kim loại:

- A. Mg
- B. Cu
- C. Fe
- D. Au

Đáp án: B

Câu 260: (Mức 2) Những cặp nào sau đây có phản ứng xảy ra:

1. $\text{Zn} + \text{HCl} \rightarrow$
2. $\text{Cu} + \text{HCl} \rightarrow$
3. $\text{Cu} + \text{ZnSO}_4 \rightarrow$
4. $\text{Fe} + \text{CuSO}_4 \rightarrow$

- A. 1; 2
- B. 3; 4
- C. 1; 4
- D. 2; 3

Đáp án: C

Câu 261: (Mức 1) Dãy muối tác dụng với dung dịch axit sunfuric loãng là:

- A. Na_2CO_3 , Na_2SO_3 , NaCl
- B. CaCO_3 , Na_2SO_3 , BaCl_2
- C. CaCO_3 , BaCl_2 , MgCl_2
- D. BaCl_2 , Na_2CO_3 , $\text{Cu}(\text{NO}_3)_2$

Đáp án: B

Câu 262: (Mức 3) Để nhận biết 3 lọ mất nhãn đựng 3 dung dịch CuCl_2 , FeCl_3 , MgCl_2 ta dùng:

- A. Quỳ tím
- B. Dung dịch Ba(NO₃)₂
- C. Dung dịch AgNO₃
- D. Dung dịch KOH

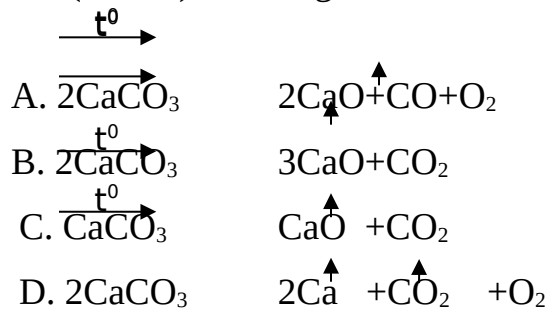
Đáp án: D

Câu 263: (Mức 2) Nhỏ từ từ dung dịch NaOH vào dung dịch CuCl₂ đến khi kết tủa không tạo thêm nữa thì dừng lại. Lọc kết tủa rồi đem nung đến khối lượng không đổi. Thu được chất rắn nào sau đây:

- A. Cu
- B. CuO
- C. Cu₂O
- D. Cu(OH)₂.

Đáp án: B

Câu 264: (Mức 1) Phản ứng biểu diễn đúng sự nhiệt phân của muối Canxi Cacbonat:



Đáp án: C

Câu 265: (Mức 1)

Lưu huỳnh đioxit được tạo thành từ phản ứng của cặp chất:

- A. Na₂SO₄+CuCl₂
- B. Na₂SO₃+NaCl
- C. K₂SO₃+HCl
- D. K₂SO₄+HCl

Đáp án: C

Câu 266: (Mức 3) Khi cho 200g dung dịch Na₂CO₃ 10,6% vào dung dịch HCl dư, khối lượng khí sinh ra:

- A. 4,6 g

- B. 8 g
- C. 8,8 g
- D. 10 g

Đáp án: C

Câu 267: (Mức 1) Muối đồng (II) sunfat (CuSO_4) có thể phản ứng với dãy chất:

- A. CO_2 , NaOH , H_2SO_4 , Fe
- B. H_2SO_4 , AgNO_3 , $\text{Ca}(\text{OH})_2$, Al
- C. NaOH , BaCl_2 , Fe , H_2SO_4
- D. NaOH , BaCl_2 , Fe , Al

Đáp án: D

A. **Câu 268:** (Mức 3) Cho các chất CaCO_3 , HCl , NaOH , BaCl_2 , CuSO_4 , có bao nhiêu cặp chất có thể phản ứng với nhau ? 2

- B. 4
- C. 3
- D. 5

Đáp án: B

Câu 269: (Mức 2) Cho 200g dung dịch KOH 5,6% vào dung dịch CuCl_2 dư, sau phản ứng thu được lượng chất kết tủa là:

- A. 19,6 g
- B. 9,8 g
- C. 4,9 g
- D. 17,4 g

Đáp án: B

Câu 270: (Mức 2) Cho a g Na_2CO_3 vào dung dịch HCl , sau phản ứng thu được 3,36 lít khí ở đktc. Vậy a có giá trị:

- A. 15,9 g
- B. 10,5 g
- C. 34,8 g
- D. 18,2 g

Đáp án: A

Câu 271: (Mức 1)

Dãy chất nào sau đây bị nhiệt phân hủy ở nhiệt độ cao:

- A. BaSO_3 , BaCl_2 , KOH , Na_2SO_4
- B. AgNO_3 , Na_2CO_3 , KCl , BaSO_4
- C. CaCO_3 , $\text{Zn}(\text{OH})_2$, KNO_3 , KMnO_4
- D. $\text{Fe}(\text{OH})_3$, Na_2SO_4 , BaSO_4 , KCl

Đáp án: C

Câu 272: (Mức 1) Hợp chất nào sau đây bị nhiệt phân hủy tạo ra hợp chất oxit và một chất khí làm đục nước vôi trong

- A. Muối sunfat
- B. Muối cacbonat không tan
- C. Muối clorua
- D. Muối nitrat

Đáp án: B

Câu 273: (Mức 2) Trường hợp nào tạo ra chất kết tủa khi trộn 2 dung dịch sau ?

- A. NaCl và AgNO_3
- B. NaCl và $\text{Ba}(\text{NO}_3)_2$
- C. KNO_3 và BaCl_2
- D. CaCl_2 và NaNO_3

Đáp án: A

Câu 274: (Mức 1)

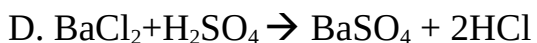
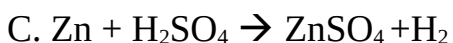
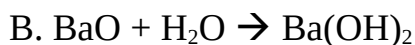
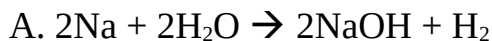
Dung dịch tác dụng được với $\text{Mg}(\text{NO}_3)_2$:

- A. AgNO_3
- B. HCl
- C. KOH
- D. KCl

Đáp án: C

Câu 275: (Mức 1)

Phản ứng nào dưới đây là phản ứng trao đổi ?



Đáp án: D

Câu 276: (Mức 3)

Để làm sạch dung dịch ZnSO_4 có lẫn CuSO_4 , ta dùng kim loại:

- A. Al B. Cu C. Fe D. Zn

Đáp án: D

Câu 277: (Mức 1)

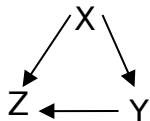
Chất tác dụng được với dung dịch CuCl_2 là:

- A. NaOH B. Na_2SO_4 C. NaCl D. NaNO_3

Đáp án: A

Câu 278: (Mức 3)

Cho sơ đồ sau:



Thứ tự X, Y, Z phù hợp với dãy chất:

- A. $\text{Cu}(\text{OH})_2$, CuO , CuCl_2
B. CuO , $\text{Cu}(\text{OH})_2$, CuCl_2
C. $\text{Cu}(\text{NO}_3)_2$, CuCl_2 , $\text{Cu}(\text{OH})_2$
D. $\text{Cu}(\text{OH})_2$, CuCO_3 , CuCl_2

Đáp án: A

Câu 279: (Mức 3)

Trộn dung dịch có chứa 0,1mol CuSO_4 và một dung dịch chứa 0,3 mol NaOH, lọc kết tủa, rửa sạch rồi đem nung đến khối lượng không đổi thu được m g chất rắn. Giá trị m là:

- A. 8 g
B. 4 g
C. 6 g
D. 12 g

Đáp án: A

Câu 280: (Mức 3)

Khi phân hủy bằng nhiệt 14,2 g CaCO_3 và MgCO_3 ta thu được 3,36 lít CO_2 ở đktc. Thành phần phần trăm về khối lượng các chất trong hỗn hợp đầu là:

- A. 29,58% và 70,42%
- B. 70,42% và 29,58%
- C. 65% và 35%
- D. 35% và 65%

Đáp án: B

Câu 281: (Mức 3)

Cho 500 ml dung dịch NaCl 2M tác dụng với 600 ml dung dịch AgNO_3 2M. Khối lượng kết tủa thu được là:

- A. 143,5 g
- B. 14,35 g
- C. 157,85 g
- D. 15,785 g

Đáp án: A

Câu 282: (Mức 2)

- Trộn 2 dung dịch nào sau đây sẽ **không** xuất hiện kết tủa ?
- A. BaCl_2 , Na_2SO_4
 - B. Na_2CO_3 , $\text{Ba}(\text{OH})_2$
 - C. BaCl_2 , AgNO_3
 - D. NaCl , K_2SO_4

Đáp án: D

Câu 283: (Mức 3)

Từ Zn, dung dịch H_2SO_4 loãng, CaCO_3 , KMnO_4 có thể điều chế trực tiếp những khí nào sau đây ?

- A. H_2 , CO_2 , O_2
- B. H_2 , CO_2 , O_2 , SO_2
- C. SO_2 , O_2 , H_2
- D. H_2 , O_2 , Cl_2

Đáp án: A

Câu 284: (Mức 2)

Trộn những cặp chất nào sau đây ta thu được NaCl ?

- A. Dung dịch Na_2CO_3 và dung dịch BaCl_2 .
- B. Dung dịch NaNO_3 và CaCl_2 .
- C. Dung dịch KCl và dung dịch NaNO_3
- D. Dung dịch Na_2SO_4 và dung dịch KCl

Đáp án: A

Câu 285: (Mức 1)

Hợp chất bị nhiệt phân hủy thoát ra khí làm than hồng bùng cháy:

- A. Muối cacbonat không tan
- B. Muối sunfat
- C. Muối Clorua
- D. Muối nitrat

Đáp án: D

Câu 286: (Mức 1)

Số mol của 200 gam dung dịch CuSO_4 32% là:

- A. 0,4 mol
- B. 0,2 mol
- C. 0,3 mol
- D. 0,25 mol

Đáp án: A

Câu 287: (Mức 3)

Cho 20 gam CaCO_3 vào 200 ml dung dịch HCl 3M. Số mol chất còn dư sau phản ứng là:

- A. 0,4 mol
- B. 0,2 mol
- C. 0,3 mol
- D. 0,25 mol

Đáp án: B

Câu 288: (Mức 1)

Trường hợp nào sau đây có phản ứng tạo sản phẩm là chất kết tủa màu xanh?

- A. Cho Al vào dung dịch HCl.
- B. Cho Zn vào dung dịch AgNO_3 .
- C. Cho dung dịch KOH vào dung dịch FeCl_3 .
- D. Cho dung dịch NaOH vào dung dịch CuSO_4 .

Đáp án: D

Câu 289: (Mức 1)

Chất phản ứng được với CaCO_3 là: A. HCl

- B. NaOH
- C. KNO_3
- D. Mg

Đáp án: A

Câu 290: (Mức 1)

Dãy các chất đều tác dụng được với dung dịch H_2SO_4 loãng là:

- A. Na_2CO_3 , CaSO_3 , $\text{Ba}(\text{OH})_2$.
- B. NaHCO_3 , Na_2SO_4 , KCl.
- C. NaCl, $\text{Ca}(\text{OH})_2$, BaCO_3 .
- D. AgNO_3 , K_2CO_3 , Na_2SO_4

Đáp án: A

Câu 291: (Mức 2)

Cho 10,6 g Na_2CO_3 vào 200 g dung dịch HCl (vừa đủ). Nồng độ % của dung dịch HCl cần dùng là:

- A. 36,5 %
- B. 3,65 %
- C. 1,825%
- D. 18,25%

Đáp án: B

Câu 292: (Mức 3)

Cho 1,84g hỗn hợp 2 muối ACO_3 và BCO_3 tác dụng hết với dung dịch HCl thu được 0,672 lít CO_2 ở đktc và dung dịch X. khối lượng muối trong dung dịch X là:

- A. 1,17(g)
- B. 3,17(g)
- C. 2,17(g)
- D. 4,17(g)

Đáp án: C

Câu 293: (Mức 3)

Cho 17,1 g Ba(OH)_2 vào 200 g dung dịch H_2SO_4 loãng dư. Khối lượng dung dịch sau phản ứng khi lọc bỏ kết tủa là:

- A. 193,8 g
- B. 19,3 g
- C. 18,3 g
- D. 183,9 g

Đáp án: A

Câu 294: (Mức 1)

Các muối phản ứng được với dung dịch NaOH là:

- A. MgCl_2 , CuSO_4
- B. BaCl_2 , FeSO_4
- C. K_2SO_4 , ZnCl_2
- D. KCl , NaNO_3

Đáp án: A

Câu 295: (Mức 2)

Để hòa tan hết 5,1 g M_2O_3 phải dùng 43,8 g dung dịch HCl 25%. Phân tử khối của M_2O_3 là:

- A. 160
- B. 102
- C. 103
- D. 106

Đáp án: B

Câu 296: (Mức 1)

Các cặp chất tác dụng được với nhau là:

1. K_2O và CO_2
2. H_2SO_4 và $BaCl_2$
3. Fe_2O_3 và H_2O
4. K_2SO_4 và $NaCl$

- A. 1, 3
- B. 2, 4
- C. 1, 2
- D. 3, 4

Đáp án: C

Câu 297: (Mức 1)

Người ta điều chế oxi trong phòng thí nghiệm bằng cách nhiệt phân các muối dưới đây:

- A. K_2SO_4 , $NaNO_3$
- B. $MgCO_3$, $CaSO_4$
- C. $CaCO_3$, $KMnO_4$
- D. $KMnO_4$, $KClO_3$

Đáp án: D

Bài 10: MỘT SỐ MUỐI QUAN TRỌNG ($NaCl$ và KNO_3)

Câu 298: (Mức 1)

Trong tự nhiên muối natri clorua có nhiều trong:

- A. Nước biển.
- B. Nước mưa.
- C. Nước sông.
- D. Nước giếng.

Đáp án: A

Câu 299: (Mức 1)

Nung kali nitrat (KNO_3) ở nhiệt độ cao, ta thu được chất khí là:

- A. NO. B. N_2O C. N_2O_5 D. O_2 .

Đáp án: D

Câu 300: (Mức 1)

Muối kali nitrat (KNO_3):

- A. Không tan trong nước.
B. Tan rất ít trong nước.
C. Tan nhiều trong nước.
D. Không bị phân huỷ ở nhiệt độ cao.

Đáp án : C

Câu 301: (Mức 2)

Điện phân dung dịch natri clorua (NaCl) bão hoà trong bình điện phân có màng ngăn ta thu được hỗn hợp khí là:

- A. H_2 và O_2 . B. H_2 và Cl_2 . C. O_2 và Cl_2 . D. Cl_2 và HCl

Đáp án: B

Câu 302 (Mức 2)

Để làm sạch dung dịch NaCl có lẫn Na_2SO_4 ta dùng:

- A. Dung dịch AgNO_3 . B. Dung dịch HCl .
C. Dung dịch BaCl_2 . D. Dung dịch $\text{Pb}(\text{NO}_3)_2$.

Đáp án : C

Câu 303: (Mức 2)

Hoà tan 50 gam muối ăn vào 200gam nước thu được dung dịch có nồng độ là:

- A. 15%. B. 20%. C. 18%. D. 25%

Đáp án: B

Câu 304: (Mức 2)

Để có được dung dịch NaCl 32%, thì khối lượng NaCl cần lấy hoà tan vào 200 gam nước là:

- A. 90g. B. 94,12 g. C. 100g. D. 141,18 g.

Đáp án: B

Câu 305: (Mức 2)

Hoà tan 7,18 gam muối NaCl vào 20 gam nước ở 20°C thì được dung dịch bão hoà. Độ tan của NaCl ở nhiệt độ đó là:

- A. 35g. B. 35,9g. C. 53,85g. D. 71,8g.

Đáp án: B.

Câu 306: (Mức 3)

Hoà tan 10,95 g KNO₃ vào 150g nước thì được dung dịch bão hoà ở 20°C, độ tan của KNO₃ ở nhiệt độ này là:

- A. 6,3g. B. 7 g C. 7,3 g D. 7,5 g.

Đáp án: C

Câu 307: (Mức 3)

Hoà tan 5,85 g natri clorua vào nước thu được 50 ml dung dịch. Dung dịch tạo thành có nồng độ mol là:

- A. 1M. B. 1,25M. C. 2M. D. 2.75M.

Đáp án: C

BÀI 11 : PHÂN BÓN HOÁ HỌC

Câu 308 : (Mức 1)

Trong các hợp chất sau hợp chất có trong tự nhiên dùng làm phân bón hoá học:

- A /CaCO₃ B/Ca₃(PO₄)₂ C/Ca(OH)₂ D/CaCl₂

Đáp án : B

Câu 309: (Mức 1)

Trong các loại phân bón sau, phân bón hoá học kép là:

A/ $(\text{NH}_4)_2\text{SO}_4$

B/ $\text{Ca}(\text{H}_2\text{PO}_4)_2$

C/KCl

D/ KNO_3

Đáp án : D

Câu 310 : (Mức 1)

Trong các loại phân bón hoá học sau loại nào là phân đạm ?

A/ KCl

B/ $\text{Ca}_3(\text{PO}_4)_2$

C/ K_2SO_4

D/ $(\text{NH}_2)_2\text{CO}$

Đáp án : D

Câu 311: (Mức 2)

Dãy phân bón hoá học chỉ chứa toàn phân bón hoá học đơn là:

A/ KNO_3 , NH_4NO_3 , $(\text{NH}_2)_2\text{CO}$

B/ KCl , $\text{NH}_4\text{H}_2\text{PO}_4$, $\text{Ca}(\text{H}_2\text{PO}_4)_2$

C/ $(\text{NH}_4)_2\text{SO}_4$, KCl , $\text{Ca}(\text{H}_2\text{PO}_4)_2$

D/ $(\text{NH}_4)_2\text{SO}_4$, KNO_3 , NH_4Cl

Đáp án: C

Câu 312 :(Mức 2)Trong các loại phân bón sau, loại phân bón nào có lượng đạm cao nhất ?

A/ NH_4NO_3

B/ NH_4Cl

C/ $(\text{NH}_4)_2\text{SO}_4$

D/

$(\text{NH}_2)_2\text{CO}$

Đáp án : D

Câu 313 : (Mức 1)

Để nhận biết 2 loại phân bón hoá học là: NH_4NO_3 và NH_4Cl . Ta dùng dung dịch:

A/ NaOH

B/ $\text{Ba}(\text{OH})_2$

C/ AgNO_3

D/ BaCl_2

Đáp án : C

Câu 314 : (Mức 2)

Để nhận biết dung dịch NH_4NO_3 , $\text{Ca}_3(\text{PO}_4)_2$, KCl người ta dùng dung dịch :

A/ NaOH B/ $\text{Ba}(\text{OH})_2$ C/ KOH D/ Na_2CO_3

Đáp án: B

Câu 315 : (Mức 2)

Cho 0,1 mol $\text{Ba}(\text{OH})_2$ vào dung dịch NH_4NO_3 dư thì thể tích thoát ra ở đktc là :

A/ 2,24 lít B/ 4,48 lít C/ 22,4 lít D/ 44,8 lít

Đáp án: B

Câu 316: (Mức 2)

Khối lượng của nguyên tố N có trong 200 g $(\text{NH}_4)_2\text{SO}_4$ là

A/ 42,42 g B/ 21,21 g C/ 24,56 g D/ 49,12 g

Đáp án: A

Câu 317:(Mức 2)

Phần trăm về khối lượng của nguyên tố N trong $(\text{NH}_2)_2\text{CO}$ là :

A/ 32,33% B/ 31,81% C/ 46,67% D/ 63,64%

Đáp án: C

BÀI 15: TÍNH CHẤT VẬT LÝ CỦA KIM LOẠI

Câu 318: (Mức 1)

Trong các kim loại sau đây, kim loại dẫn điện tốt nhất là:

A. Nhôm (Al) B. Bạc(Ag) C. Đồng (Cu) D. Sắt (Fe)

Đáp án: B

Câu 319: (Mức 1)

Trong các kim loại sau đây, kim loại có nhiệt độ nóng chảy cao nhất là:

A. Vonfam(W) B. Đồng (Cu) C. Sắt (Fe) D. Kẽm
(Zn)

Đáp án: A

Câu 320: (Mức 1)

Trong các kim loại sau đây, kim loại dẻo nhất là:

A. Đồng (Cu) B. Nhôm (Al) C. Bạc (Ag) D.
Vàng(Au)

Đáp án: D

Câu 321: (Mức 1)

Kim loại nào sau đây nhẹ nhất (có khối lượng riêng nhỏ nhất) ?

A. Liti (Li) B. Na(Natri) C. Kali (K) D. Rubiđi
(Rb)

Đáp án: A

Câu 322: (Mức 1)

Kim loại được dùng làm vật liệu chế tạo vỏ máy bay do có tính bền và nhẹ, đó là kim loại:

A. Na B. Zn C. Al D. K

Đáp án: C

Câu 323: (Mức 2)

Kim loại được dùng làm đồ trang sức vì có ánh kim rất đẹp, đó là các kim loại:

A. Ag, Cu. B. Au, Pt. C . Au, Al. D. Ag, Al.

Đáp án: B

Câu 324: (Mức 2)

1 mol nhôm (nhiệt độ, áp suất trong phòng thí nghiệm), khối lượng riêng $2,7 \text{ g/cm}^3$, có thể tích tương ứng là:

A. 10 cm^3 B. 11 cm^3 C. 12 cm^3 D. 13 cm^3

Đáp án: A

Câu 325: (Mức 2)

1 mol kali (nhiệt độ áp suất trong phòng thí nghiệm), khối lượng riêng $0,86 \text{ g/cm}^3$, có thể tích tương ứng là:

A. 50 cm^3 B. $45,35 \text{ cm}^3$ C. $55,41 \text{ cm}^3$ D. 45 cm^3

Đáp án : B

Câu 326: (Mức 2)

1 mol đồng (nhiệt độ áp suất trong phòng thí nghiệm), thể tích $7,16 \text{ cm}^3$, có khối lượng riêng tương ứng là:

A. $7,86 \text{ g/cm}^3$ B. $8,3 \text{ g/cm}^3$ C. $8,94 \text{ g/cm}^3$ D. $9,3 \text{ g/cm}^3$

Đáp án: C

Bài 16 : TÍNH CHẤT HOÁ HỌC CỦA KIM LOẠI

Câu 327: (Mức 1)

Đơn chất tác dụng với dung dịch H_2SO_4 loãng giải phóng khí hiđrô là:

A. Đồng B. Lưu huỳnh C. Kẽm D. Thủy ngân

Đáp án : C

Câu 328 : (Mức 1)

Các kim loại tác dụng được với dung dịch $\text{Cu}(\text{NO}_3)_2$ tạo thành kim loại đồng:

A. Al, Zn, Fe B. Mg, Fe, Ag C. Zn, Pb, Au D.
Na, Mg, Al

Đáp án : A

Câu 329 : (Mức 1)

Để làm sạch mẫu chì bị lẫn kẽm, người ta ngâm mẫu chì này vào một lượng dư dung dịch:

A. ZnSO_4 B. $\text{Pb}(\text{NO}_3)_2$ C. CuCl_2 D. Na_2CO_3

Đáp án : B

Câu 330 : (Mức 1)

Dung dịch FeCl_2 có lẫn tạp chất là CuCl_2 có thể dùng kim loại nào sau đây để làm sạch dung dịch FeCl_2 trên:

A. Zn B. Fe C. Mg D. Ag

Đáp án : B

Câu 331: (Mức 1)

Kim loại vừa tác dụng với dd HCl vừa tác dụng được với dung dịch KOH:

A. Fe, Al B. Ag, Zn C. Al, Cu D. Al, Zn

Đáp án : D

Câu 332 : (Mức 1)

Đồng kim loại có thể phản ứng được với:

- A. Dung dịch HCl
B. Dung dịch H_2SO_4 loãng
C. H_2SO_4 đặc, nóng
D. Dung dịch NaOH

Đáp án : C

Câu 333: (Mức 1)

Các kim loại tác dụng được với nước ở nhiệt độ thường tạo thành dung dịch kiềm và giải phóng khí hiđrô:

- A. K, Ca
B. Zn, Ag
C. Mg, Ag
D. Cu, Ba

Đáp án : A

Câu 334: (Mức 1)

Khi thả một cây đinh sắt sạch vào dung dịch $CuSO_4$ loãng, có hiện tượng sau:

- A. Sủi bọt khí, màu xanh của dung dịch nhạt dần.
B. Có một lớp đồng màu đỏ phủ lên đinh sắt, màu xanh của dung dịch đậm dần.
C. Có một lớp đồng màu đỏ phủ lên đinh sắt, dung dịch không đổi màu.
D. Có một lớp đồng màu đỏ phủ lên đinh sắt, màu xanh của dung dịch nhạt dần

Đáp án : D

Câu 335 : (Mức 1)

Có hỗn hợp kim loại gồm Fe, Cu, Ag có thể thu được Ag tinh khiết bằng cách sau:

- A. Hoà tan hỗn hợp vào dung dịch HCl.
B. Hoà tan hỗn hợp vào HNO_3 đặc nguội.
C. Hoà tan hỗn hợp kim loại vào dung dịch $AgNO_3$.
D. Dùng nam châm tách Fe và Cu ra khỏi Ag .

Đáp án : C

Câu 336 : (Mức 1)

Cho các kim loại Fe, Cu, Ag, Al, Mg. Kết luận nào sau đây là **SAI** :

- A. Kim loại không tác dụng với H_2SO_4 đặc, nguội Al, Fe.

B. Kim loại tác dụng với dung dịch H_2SO_4 loãng, HCl : Cu, Ag

C. Kim loại tác dụng với dung dịch NaOH là Al

D. Kim loại không tan trong nước ở nhiệt độ thường: Tất cả các kim loại trên.

Đáp án : B

Câu 337 : (Mức 1)

Lấy một ít bột Fe cho vào dung dịch HCl vừa đủ rồi nhỏ từ từ dung dịch NaOH đến dư vào dung dịch . Hiện tượng xảy ra là:

A. Có khí bay ra và dung dịch có màu xanh lam.

B. Không thấy hiện tượng gì.

C. Ban đầu có khí thoát ra và dd có kết tủa trắng xanh rồi chuyển dần thành màu nâu đỏ.

D. Có khí thoát ra và tạo kết tủa màu xanh đến khi kết thúc .

Đáp án : C

Câu 338 : (Mức 1)

Hiện tượng xảy ra khi đốt sắt trong bình khí clo là:

A. Khói màu trắng sinh ra.

B. Xuất hiện những tia sáng chói.

C. Tạo chất bột trắng bám xung quanh thành bình.

D. Có khói màu nâu đỏ tạo thành.

Đáp án: D

Câu 339: (Mức 2)

Nung 6,4g Cu ngoài không khí thu được 6,4g CuO. Hiệu suất phản ứng là:

A. 100%.

B. 80%.

C. 70%.

D. 60%.

Đáp án : B

Câu 340: (Mức 2)

Hoà tan hoàn toàn 3,25g một kim loại X (hoá trị II) bằng dung dịch H_2SO_4 loãng thu được 1,12 lít khí H_2 ở đktc. Vậy X là kim loại nào sau đây:

A. Fe

B. Mg

C. Ca

D. Zn

Đáp án : D

Câu 341: (Mức 2)

Hoà tan hết 2,3g Na kim loại vào 97,8g nước thu được dung dịch có nồng độ:

- A. 2,4%. B. 4,0%. C. 23,0%. D. 5,8%.

Đáp án : B

Câu 342: (Mức 2)

Hoà tan hết 12g một kim loại (hoá trị II) bằng dung dịch H_2SO_4 loãng thu được 6,72 lít khí H_2 (đktc). Kim loại này là:

- A. Zn B. Fe C. Ca D. Mg

Đáp án : C

Câu 343: Hàm lượng sắt trong Fe_3O_4 :

- A. 70% B. 72,41% C. 46,66% D. 48,27%

Đáp án : B

Câu 344: (Mức 2)

Cho 4,6g một kim loại M (hoá trị I) phản ứng với khí clo tạo thành 11,7g muối. M là kim loại nào sau đây:

- A. Li B. K C. Na D. Ag

Đáp án : C

Câu 345: (Mức 2)

Cho lá sắt có khối lượng 5,6g vào dung dịch đồng (II) sunfat, sau một thời gian phản ứng nhấc lá sắt ra khỏi dung dịch, rửa nhẹ, làm khô và cân lại thấy khối lượng lá sắt là 6,4g. Khối lượng muối tạo thành là:

- A. 15,5 gam B. 16 gam C. 17,2 gam D. 15,2 gam

Đáp án : D

Câu 346: (Mức 3)

Cho một bản nhôm có khối lượng 70g vào dung dịch $CuSO_4$. Sau một thời gian lấy bản nhôm ra cân có khối lượng 76,9g. Khối lượng đồng bám vào bản nhôm là:

- A. 19,2g B. 10,6g C. 16,2g D. 9,6g

Đáp án : D

Câu 347 : (Mức 2)

Cho 8,1g một kim loại (hoá trị III) tác dụng với khí clo có dư thu được 40,05g muối. Xác định kim loại đem phản ứng:

- A. Cr B. Al C. Fe D. Au

Đáp án : B

Câu 348: (Mức 2)

Khối lượng Cu có trong 120g dung dịch CuSO_4 20% là:

- A. 20g B. 19,6g C. 6,9g D. 9,6g

Đáp án : D

Câu 349 : (Mức 2)

Nhúng một lá sắt vào dung dịch đồng sunfat sau một thời gian lấy lá sắt ra khỏi dung dịch cân lại thấy nặng hơn ban đầu 0,2g. Khối lượng đồng bám vào lá sắt là:

- A. 0,2g B. 1,6g C. 3,2g D. 6,4g

Đáp án : B

Câu 350: (Mức 2)

Khi phân tích định lượng ta thấy trong muối Sunfat của kim loại M có hoá trị II hàm lượng M là 29,41% về khối lượng . Vậy M là :

- A. Cu B. Fe C. Ca D. Mg

Đáp án : C

Câu 351 : (Mức 3)

Cho 100 gam hỗn hợp gồm 2 kim loại Fe, Cu vào dung dịch CuSO_4 dư sau phản ứng thấy khối lượng chất rắn thu được tăng thêm 4 gam so với ban đầu . Vậy % khối lượng của Cu trong hỗn hợp ban đầu là :

- A. 100% B. 72% C. 32% D. 28%

Đáp án : B

Câu 352 : (Mức 2)

Cho vào dung dịch HCl một cây đinh sắt , sau một thời gian thu được 11,2 lít khí hiđrô (đktc) . Khối lượng sắt đã phản ứng là :

- A. 28 gam B. 12,5 gam C. 8 gam D. 36 gam

Đáp án: A

Câu 353 : (Mức 3)

Thả một miếng đồng vào 100 ml dd AgNO_3 phản ứng kết thúc người ta thấy khối lượng miếng đồng tăng thêm 1,52 gam so với ban đầu . Nồng độ mol của dung dịch AgNO_3 đã dùng là :

- A. 0,2 M B. 0,3 M C. 0,4 M D. 0,5M

Đáp án : A

Câu 354 : (Mức 3)

Cho 1 gam Natri tác dụng với 1 gam khí Clo sau phản ứng thu được 1 lượng NaCl là:

- A. 2 g B. 2,54 g C. 0,82 g D. 1,648 g

Đáp án : D

Câu 355 : (Mức 3)

Cho 10,5g hỗn hợp 2 kim loại Cu và Zn vào dd H_2SO_4 loãng dư, người ta thu được 2,24 lít khí (đktc). Thành phần % theo khối lượng của Cu và Zn lần lượt là:

- A. 61,9% và 38,1% B. 38,1 % và 61,9%
C. 65% và 35% D. 35% và 65%

Đáp án : B

Câu 356 : (Mức 3)

Cho 1 g hợp kim của natri tác dụng với nước ta thu được dung dịch kiềm, để trung hoà lượng kiềm đó cần phải dùng 50ml dung dịch HCl 0,2M. Thành phần % của natri trong hợp kim là:

- A. 39,5% B. 23% C. 46% D. 24%

Đáp án : B

Câu 357 : (Mức 3)

Cho hỗn hợp A gồm bột các kim loại đồng và nhôm vào cốc chứa một lượng dư dung dịch HCl , phản ứng xong thu được 13,44 lít khí H_2 (đktc) còn 6,4g chất rắn không tan. Vậy khối lượng của hỗn hợp là:

- A. 17,2g B. 19,2g C. 8,6g D. 12,7g

Đáp án : A

Câu 358 : Hoà tan 9 g hợp kim nhôm – magiê vào dung dịch H_2SO_4 dư thu được 10,08 lít khí H_2 (đktc). Thành phần % khối lượng của Al và Mg trong hợp kim lần lượt là:

A. 50% và 50% B. 40% và 60% C. 60% và 40% D. 39% và 61%

Đáp án : C

Câu 359: (Mức 3)

Cho 0,83g hỗn hợp gồm Al và Fe tác dụng với dung dịch H_2SO_4 loãng dư. Sau phản ứng thu được 0,56 lít khí H_2 (đktc). Thành phần % theo khối lượng mỗi kim loại trong hỗn hợp lần lượt là:

A. 32,5% và 67,5%

B. 67,5% và 32,5%

C. 55% và 45%

D. 45% và 55%

Đáp án : A

Câu 360 : (Mức 3)

Cho 22,4g Fe tác dụng vừa đủ với 200g dung dịch H_2SO_4 loãng. Nồng độ % của dung dịch axit đã phản ứng là:

A. 32%

B. 54%

C. 19,6%

D. 18,5%

Đáp án : C

Câu 361 : (Mức 3)

Hoà tan một lượng sắt vào 400ml dung dịch HCl vừa đủ. Sau phản ứng thu được 3,36 lít khí hidrô (đktc). Nồng độ M của dung dịch HCl là:

A. 0,25M

B. 0,5M

C. 0,75M

D. 1M

Đáp án : C

Câu 362: (Mức 3)

Cho 9,6 gam kim loại Magie vào 120 gam dung dịch HCl (vừa đủ). Nồng độ phần trăm của dung dịch sau phản ứng là :

A. 29,32%

B. 29,5%

C. 22,53%

D. 22,67%

Đáp án : B

Bài 17 :DÂY HOẠT ĐỘNG HOÁ HỌC CỦA KIM LOẠI

Câu 363 : (Mức 1)

Dãy kim loại được sắp xếp theo chiều hoạt động hóa học giảm dần:

A. Na , Mg , Zn

- B. Al , Zn , Na
- C. Mg , Al , Na
- D. Pb , Al , Mg

Đáp án : A

Câu 364 : (Mức 1)

Dãy kim loại được sắp xếp theo chiều hoạt động hóa học tăng dần:

- A. K , Al , Mg , Cu , Fe
- B. Cu , Fe , Mg , Al , K
- C. Cu , Fe , Al , Mg , K
- D. K , Cu , Al , Mg , Fe

Đáp án : C

Câu 365 : (Mức 1)

Từ Cu và hoá chất nào dưới đây để điều chế được CuSO_4 ?

- A. MgSO_4
- B. $\text{Al}_2(\text{SO}_4)_3$
- C. H_2SO_4 loãng
- D. H_2SO_4 đặc , nóng

Đáp án : D

Câu 366 : (Mức 1)

Có một mẫu dung dịch MgSO_4 bị lẫn tạp chất là ZnSO_4 , có thể làm sạch mẫu dung dịch này bằng kim loại

- A.Zn B.Mg C.Fe D.Cu

Đáp án : B

Câu 367 : (Mức 1)

Để làm sạch một mẫu đồng kim loại có lẫn sắt kim loại và kẽm kim loại có thể ngâm mẫu đồng vào dung dịch

- A. FeCl_2 dư B. ZnCl_2 dư C. CuCl_2 dư D. AlCl_3 dư

Đáp án : C

Câu 368: (Mức 1)

Dung dịch ZnCl_2 có lẫn tạp chất CuCl_2 kim loại làm sạch dung dịch ZnCl_2 là:

A.Na

B.Mg

C.Zn

D.Cu

Đáp án : C

Câu 369 : (Mức 2)

Dãy kim loại tác dụng được với dung dịch $\text{Cu}(\text{NO}_3)_2$ tạo thành Cu kim loại:

A. Al , Zn , Fe

B. Zn , Pb , Au

C. Mg , Fe , Ag

D. Na , Mg , Al

Đáp án : A

Câu 370: (Mức 2)

Có một mẫu Fe bị lẫn tạp chất là nhôm, để làm sạch mẫu sắt này bằng cách ngâm nó với

A. Dung dịch NaOH dư

B. Dung dịch H_2SO_4 loãng

C. Dung dịch HCl dư

D. Dung dịch HNO_3 loãng .

Đáp án : A

Câu 371 : (Mức 2)

Kim loại nào dưới đây làm sạch được một mẫu dung dịch $\text{Zn}(\text{NO}_3)_2$ lẫn $\text{Cu}(\text{NO}_3)_2$ và AgNO_3 ?

A.Zn

B.Cu

C.Fe

D.Pb

Đáp án : A

Câu 372 : (Mức 2)

Có 4 kim loại X, Y, Z, T đứng sau Mg trong dãy hoạt động hóa học. Biết Z và T tan trong dung dịch HCl, X và Y không tan trong dung dịch HCl, Z đẩy được T trong dung dịch muối T, X đẩy được Y trong dung dịch muối Y. Thứ tự hoạt động hóa học của kim loại tăng dần như sau:

A. T, Z, X, Y

B. Z, T, X, Y

C. Y, X, T, Z

D. Z, T, Y, X

Đáp án : C

Câu 373: (Mức 2)

Cho 4,8 gam kim loại M có hóa trị II vào dung dịch HCl dư , thấy thoát ra 4,48 lít khí hidro (ở đktc). Vậy kim loại M là :

A.Ca

B.Mg

C.Fe

D.Ba

Đáp án : B

Câu 374 : (Mức 2)

Hiện tượng gì xảy ra khi cho 1 thanh đồng vào dung dịch H_2SO_4 loãng?

A. Thanh đồng tan dần , khí không màu thoát ra

B. Thanh đồng tan dần , dung dịch chuyển thành màu xanh lam

C. Không hiện tượng

D. Có kết tủa trắng .

Đáp án : C

Câu 375: (Mức 2)

Hiện tượng xảy ra khi cho 1 lá nhôm vào dung dịch H_2SO_4 đặc, nguội:

A. Khí mùi hắc thoát ra

B. Khí không màu và không mùi thoát ra

C. Lá nhôm tan dần

D. Không có hiện tượng

Đáp án : D

Câu 376 : (Mức 2)

Hiện tượng xảy ra khi cho 1 thanh sắt vào dung dịch H_2SO_4 đặc nguội:

A. Không có hiện tượng

B. Thanh sắt tan dần

C. Khí không màu và không mùi thoát ra

D. Khí có mùi hắc thoát ra

Đáp án : A

Câu 377: (Mức 2)

Cho 5,4 gam nhôm vào dung dịch HCl dư , thể tích khí thoát ra (ở đktc) là:

A.4,48 lít

B.6,72 lít

C.13,44 lít

D.8,96 lít

Đáp án : B

Câu 378 : (Mức 2)

Cho 1 lá nhôm vào dung dịch NaOH. Có hiện tượng:

- A. Lá nhôm tan dần, có kết tủa trắng
- B. Không có hiện tượng
- C. Lá nhôm tan dần, có khí không màu thoát ra
- D. Lá nhôm tan dần, dung dịch chuyển thành màu xanh lam

Đáp án : C

Câu 379 : (Mức 2)

Cho 1 thanh đồng vào dung dịch HCl có hiện tượng gì xảy ra?

- A. Thanh đồng tan dần, có khí không màu thoát ra
- B. Không có hiện tượng
- C. Thanh đồng tan dần , dung dịch chuyển thành màu xanh lam
- D. Thanh đồng tan dần , dung dịch trong suốt không màu

Đáp án : B

Câu 380 : (Mức 3)

Có 3 lọ đựng 3 chất riêng biệt Mg , Al , Al_2O_3 để nhận biết chất rắn trong từng lọ chỉ dùng 1 thuốc thử là :

- A. Nöôùc
- B. Dung dịch HCl
- C. Dung dịch KOH
- D. Dung dịch H_2SO_4 loãng .

Đáp án : C

Câu 381 : (Mức 3)

Cho 10 gam hỗn hợp gồm Al và Cu vào dung dịch HCl dư thấy thoát ra 6,72 lít khí hiđrô (ở đktc). Phần trăm của nhôm trong hỗn hợp là :

- A.81 % B.54 % C.27 % D.40 %

Đáp án : B

Câu 382 : (Mức 3)

Cùng một khối lượng Al và Zn, nếu được hoà tan hết bởi dung dịch HCl thì

- A. Al giải phóng hiđro nhiều hơn Zn
- B. Zn giải phóng hiđro nhiều hơn Al
- C. Al và Zn giải phóng cùng một lượng hiđro
- D. Lượng hiđro do Al sinh ra bằng 2,5 lần do Zn sinh ra .

Đáp án : A

Câu 383 : (Mức 3)

Hoà tan hoàn toàn 32,5 gam một kim loại M (hoá trị II) bằng dung dịch H_2SO_4 loãng được 11,2 lít khí hiđro (ở đktc). M là

- A.Zn B.Fe C.Mg D.Cu

Đáp án :A

Câu 384 : (Mức 3)

Cho lá đồng vào dung dịch $AgNO_3$, sau một thời gian lấy lá đồng ra cân lại khối lượng lá đồng thay đổi như thế nào ?

- A. Tăng so với ban đầu
- B. Giảm so với ban đầu
- C. Không tăng , không giảm so với ban đầu
- D. Giảm một nửa so với ban đầu

Đáp án : A

Câu 385 : (Mức 3)

Cho một lá Fe vào dung dịch $CuSO_4$, sau một thời gian lấy lá sắt ra, khối lượng dung dịch thay đổi như thế nào?

- A. Tăng so với ban đầu
- B. Giảm so với ban đầu
- C. Không tăng , không giảm so với ban đầu
- D. Tăng gấp đôi so với ban đầu

Đáp án : B

Câu 386: (Mức 3)

Chỉ dùng nước nhận biết được ba chất rắn riêng biệt:

- A. Al , Fe , Cu
- B. Al , Na , Fe

C. Fe , Cu , Zn

D. Ag , Cu , Fe

Đáp án : B

Câu 387 : (Mức 3)

Ngâm lá sắt có khối lượng 56gam vào dung dịch AgNO_3 , sau một thời gian lấy lá sắt ra rửa nhẹ cân được 57,6 gam . Vậy khối lượng Ag sinh ra là

A.10,8 g

B.21,6 g

C.1,08 g

D.2,16 g

Đáp án : D

Câu 388: (Mức 3)

Ngâm 1 lá Zn vào dung dịch CuSO_4 sau 1 thời gian lấy lá Zn ra thấy khối lượng dung dịch tăng 0,2 g. Vậy khối lượng Zn phản ứng là

A.0,2 g

B.13 g

C.6,5 g

D.0,4

g

Đáp án : B

Câu 389 : (Mức 3)

Cho 1 viên Natri vào dung dịch CuSO_4 , hiện tượng xảy ra:

A. Viên Natri tan dần, sủi bọt khí, dung dịch không đổi màu

B. Viên Natri tan dần, không có khí thoát ra, có kết tủa màu xanh lam

C. Viên Natri tan, có khí không màu thoát ra, xuất hiện kết tủa màu xanh lam

D. Không có hiện tượng .

Đáp án : C. Viên Natri tan, có khí không màu thoát ra, xuất hiện kết tủa màu xanh lam

BÀI 18 : NHÔM

Câu 390: (Mức 1)

Nhôm là kim loại

A . dẫn điện và nhiệt tốt nhất trong số tất cả kim loại .

- B . dẫn điện và nhiệt đều kém
- C . dẫn điện tốt nhưng dẫn nhiệt kém.
- D . dẫn điện và nhiệt tốt nhưng kém hơn đồng .

Đáp án : D

Câu 391 : (Mức 1)

Người ta có thể dát mỏng được nhôm thành thìa, xoong, chậu, giấy gói bánh kẹo là do nhôm có tính :

- A. dẻo
- B. dẫn điện .
- C . dẫn nhiệt .
- D . ánh kim .

Đáp án : A .

Câu 392 : (Mức 1)

Một kim loại có khối lượng riêng là $2,7 \text{ g/cm}^3$, nóng chảy ở 660°C . Kim loại đó là :

- A. sắt
- B . nhôm
- C. đồng .
- D . bạc .

Đáp án : B .

Câu 393 : (Mức 1)

Nhôm bền trong không khí là do

- A . nhôm nhẹ, có nhiệt độ nóng chảy cao
- B . nhôm không tác dụng với nước .
- C . nhôm không tác dụng với oxi .
- D . có lớp nhôm oxit mỏng bảo vệ .

Đáp án : D

Câu 394 : (Mức 1)

Kim loại nhôm có độ dẫn điện tốt hơn kim loại:

- A. Cu, Ag
- B. Ag
- C. Fe, Cu
- D. Fe

Đáp án: D

Câu 395 : (Mức 1)

Hợp chất nào của nhôm dưới đây tan nhiều được trong nước ?

- A. Al_2O_3
- B. $\text{Al}(\text{OH})_3$
- C. AlCl_3
- D. AlPO_4

Đáp án : C

Câu 396: (Mức 1)

Thả một mảnh nhôm vào ống nghiệm chứa dung dịch CuSO_4 . Xảy ra hiện tượng:

- A. Không có dấu hiệu phản ứng.
- B. Có chất rắn màu trắng bám ngoài lá nhôm, màu xanh của dung dịch CuSO_4 nhạt dần.
- C. Có chất rắn màu đỏ bám ngoài lá nhôm, màu xanh của dung dịch CuSO_4 nhạt dần.
- D. Có chất khí bay ra, dung dịch không đổi màu

Đáp án: C

Câu 397: (Mức 1)

Không được dùng chậu nhôm để chứa nước vôi trong, do

- A. nhôm tác dụng được với dung dịch axit.
- B. nhôm tác dụng được với dung dịch bazơ.
- C. nhôm đẩy được kim loại yếu hơn nó ra khỏi dung dịch muối.
- D. nhôm là kim loại hoạt động hóa học mạnh

Đáp án ; B

Câu 398: (Mức 1)

Kim loại nào dưới đây tan được trong dung dịch kiềm :

- A. Mg B. Al C. Fe D. Ag .

Đáp án : B

Câu 399: (Mức 1)

X là kim loại nhẹ, dẫn điện tốt, phản ứng mạnh với dung dịch HCl, tan trong dung dịch kiềm và giải phóng H_2 . X là:

- A. Al B. Mg C. Cu D. Fe.

Đáp án : A.

Câu 400: (Mức 1)

Nguyên liệu sản xuất nhôm là quặng :

- A. Hematit B. Manhetit C. Bôxit D. Pirit.

Đáp án : C

Câu 401: (Mức 2)

Trong các chất sau đây: FeO , Al_2O_3 , $\text{Zn}(\text{OH})_2$, $\text{Al}(\text{OH})_3$, SO_2 , số chất lưỡng tính là:

- A. 5 B. 4 C. 3 D. 2

Đáp án : C

Câu 402: (Mức 2)

Nhôm phản ứng được với :

- A. Khí clo, dung dịch kiềm, axit, khí oxi.
B. Khí clo, axit, oxit bazơ, khí hidro.
C. Oxit bazơ, axit, hidro, dung dịch kiềm
D. Khí clo, axit, oxi, hidro, dung dịch magiesunfat

Đáp án: A

Câu 403: (Mức 2)

Cặp chất nào dưới đây có phản ứng ?

- A. $\text{Al} + \text{HNO}_3$ đặc, nguội B. $\text{Fe} + \text{HNO}_3$ đặc, nguội
C. $\text{Al} + \text{HCl}$ D. $\text{Fe} + \text{Al}_2(\text{SO}_4)_3$

Đáp án : C

Câu 404: (Mức 2)

Có dung dịch muối AlCl_3 lẫn tạp chất CuCl_2 , dùng chất nào sau đây để làm sạch muối nhôm?

- A. AgNO_3 B. HCl C. Mg D. Al .

Đáp án : D

Câu 405: (Mức 2)

Thành phần chính của đất sét là $\text{Al}_2\text{O}_3 \cdot 2\text{SiO}_2 \cdot 2\text{H}_2\text{O}$. Phần trăm khối lượng của nhôm trong hợp chất trên là:

- A. 20,93 % B. 10,46 % C. 24,32 % D. 39,53 %.

Đáp án : A

Câu 406: (Mức 2)

Không được dùng nồi nhôm để nấu xà phòng. Vì :

- A. phản ứng không xảy ra.
B. nhôm là kim loại có tính khử mạnh.

C. chất béo phản ứng được với nhôm.

D. nhôm sẽ bị phá hủy trong dung dịch kiềm.

Đáp án : D

Câu 407: (Mức 2)

Khi cho từ từ (đến dư) dung dịch kiềm vào dung dịch nhôm clorua ta thấy:

A. đầu tiên xuất hiện kết tủa keo và không tan trong kiềm dư

B. đầu tiên xuất hiện kết tủa keo trắng, kết tủa tan dần và dung dịch trở lại trong suốt.

C. không xuất hiện kết tủa và dung dịch có màu xanh

D. không có hiện tượng nào xảy ra.

Đáp án : B

Câu 408: (Mức 2)

Có chất rắn màu đỏ bám trên dây nhôm khi nhúng dây nhôm vào dung dịch:

A. AgNO_3

B. CuCl_2

C. Axit HCl

D. $\text{Fe}_2(\text{SO}_4)_3$.

Đáp án : B

Câu 409: (Mức 2)

Nhận định sơ đồ phản ứng sau :



X có thể là :

A. Al_2O_3

B. $\text{Al}(\text{OH})_3$

C. H_2SO_4

D. $\text{Al}(\text{NO}_3)_3$

Đáp án : A

Câu 410: (Mức 2)

Các chất tác dụng được với dung dịch NaOH :

A. Al, MgO

B. CO_2 , Al

C. SO_2 , Fe_2O_3

D. Fe, SO_2 .

Đáp án : B

Câu 411: (Mức 2)

Phương trình phản ứng :



- A. 4 g Al phản ứng hoàn toàn với 3 g khí O₂ cho 2g Al₂O₃.
- B. 108g Al phản ứng hoàn toàn với 3 lít khí O₂ cho 2g Al₂O₃.
- C. 2,7 g Al phản ứng hoàn toàn với 2,4 g khí O₂ cho 5,1 g Al₂O₃.
- D. 4 mol Al phản ứng hoàn toàn với 3 lít khí O₂ cho 2 mol Al₂O₃.

Đáp án : C

Câu 412: (Mức 3)

Cho 10,8 g một kim loại M (hóa trị III) phản ứng với khí clo tạo thành 53,4g muối.
Kim loại M là:

- A. Na
- B. Fe
- C. Al
- D. Mg.

Đáp án : C

Câu 413: (Mức 3)

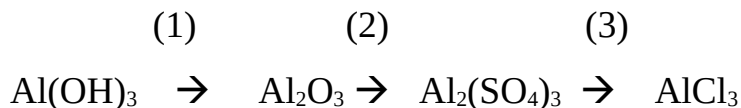
Cho lá nhôm vào dung dịch axit HCl có dư thu được 3,36 lít khí hidro (ở đktc).
Khối lượng nhôm đã phản ứng là :

- A. 1,8 g
- B. 2,7 g
- C. 4,05 g
- D. 5,4 g

Đáp án : B.

Câu 414: (Mức 3)

Bổ túc sơ đồ phản ứng:

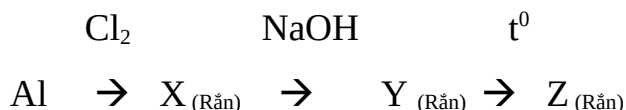


- A. (1) nhiệt phân, (2) dung dịch H₂SO₄ , (3) dung dịch BaCl₂.
- B. (1) nhiệt phân, (2) dung dịch H₂SO₄ , (3) dung dịch NaCl .
- C. (1) nhiệt phân, (2) dung dịch Na₂SO₄ , (3) dung dịch HCl .
- D. (1) nhiệt phân, (2) dung dịch Na₂SO₄ , (3) dung dịch BaCl₂.

Đáp án : A

Câu 415: (Mức 3)

Cho sơ đồ phản ứng :



Z : có công thức là :

A. Al_2O_3 B. AlCl_3 C. $\text{Al}(\text{OH})_3$ D. NaCl .

Đáp án : A

Câu 416: (Mức 3)

Cho 1,35g Al vào dung dịch chứa 7,3g HCl. Khối lượng muối nhôm tạo thành là

A. 6,675 g B. 8,945 g C. 2,43 g D. 8,65 g

Đáp án : A

Câu 417: (Mức 3)

Hòa tan 12g hỗn hợp gồm Al, Ag vào dung dịch H_2SO_4 loãng, dư. Phản ứng kết thúc thu được 13,44 lít khí H_2 (đktc). Thành phần % khối lượng của Al, Ag trong hỗn hợp lần lượt là

A. 70% và 30% B. 90% và 10%
C. 10% và 90% ; D. 30% và 70% .

Đáp án : B

Câu 418: (Mức 3)

Hòa tan 5,1g oxit của một kim loại hóa trị III bằng dung dịch HCl, số mol axit cần dùng là 0,3 mol. Công thức phân tử của oxit đó là :

A. Fe_2O_3 B. Al_2O_3 C. Cr_2O_3 D. FeO

Đáp số : B

Câu 419: (Mức 3)

Đốt cháy hoàn toàn 1,35g nhôm trong oxi. .Khối lượng nhôm oxit tạo thành và khối lượng oxi đã tham gia phản ứng là:

A. 2,25g và 1,2g B. 2,55g và 1,28g
C. 2,55 và 1,2g D. 2,7 và 3,2 g

Đáp án : C

Câu 420: (Mức 3)

Cho 17g oxit M_2O_3 tác dụng hết với dung dịch H_2SO_4 thu được 57g muối sunfat. Nguyên tử khối của M là:

A. 56 B. 52 C. 55 D.

27

Đáp án : D

Câu 421: (Mức 3)

Đốt nhôm trong bình khí Clo . Sau phản ứng thấy khối lượng chất rắn trong bình tăng 7,1g . Khối lượng nhôm đã tham gia phản ứng là :

- A. 2,7g B. 1,8g C. 4,1g D. 5,4g.

Đáp án : B

Câu 422: (Mức 3)

Cho 5,4g Al vào 100ml dung dịch H_2SO_4 0,5M .Thể tích khí H_2 sinh ra (ở đktc) và nồng độ mol của dung dịch sau phản ứng là: (giả sử thể tích dung dịch thay đổi không đáng kể)

- A. 1,12 lít và 0,17M B. 6,72 lít và 1,0 M
C. 11,2 lít và 1,7 M D. 67,2 lít và 1,7M.

Đáp án : A

Câu 423: (Mức 3)

Hòa tan 25,8g hỗn hợp gồm bột Al và Al_2O_3 trong dung dịch HCl dư. Sau phản ứng người ta thu được 0,6g khí H_2 . Khối lượng muối $AlCl_3$ thu được là :

- A. 53,4g B. 79,6g C. 80,1g D. 25,8g.

Đáp án : C

BÀI 19- 20: SẮT - HỢP KIM SẮT: GANG, THÉP

Câu 424: (Mức 1)

Thép là hợp kim của sắt với cacbon và một số nguyên tố khác trong đó hàm lượng cacbon chiếm:

- A. Trên 2% B. Dưới 2%
C. Từ 2% đến 5% D. Trên 5%

Đáp án: B

Câu 425: (Mức 1)

Gang là hợp kim của sắt với cacbon và một lượng nhỏ các nguyên tố khác như: Si, Mn, S,... trong đó hàm lượng cacbon chiếm:

- A. Từ 2% đến 6% B. Dưới 2%

C. Từ 2% đến 5%

D. Trên 6%

Đáp án: C

Câu 426: (Mức 1)

Cho dây sắt quấn hình lò xo (đã được nung nóng đỏ) vào lọ đựng khí clo. Hiện tượng xảy ra là:

A. Sắt cháy tạo thành khói trắng dày đặc bám vào thành bình.

B. Không thấy hiện tượng phản ứng

C. Sắt cháy sáng tạo thành khói màu nâu đỏ

D. Sắt cháy sáng tạo thành khói màu đen

Đáp án: C

Câu 427: (Mức 1)

Ngâm một cây đinh sắt sạch vào dung dịch bạc nitrat. Hiện tượng xảy ra là:

A. Không có hiện tượng gì cả.

B. Bạc được giải phóng, nhưng sắt không biến đổi.

C. Không có chất nào sinh ra, chỉ có sắt bị hoà tan.

D. Sắt bị hoà tan một phần, bạc được giải phóng.

Đáp án: D

Câu 428: (Mức 1)

Hoà tan hỗn hợp gồm Fe và Cu vào dung dịch HCl (vừa đủ). Các sản phẩm thu được sau phản ứng là:

A. FeCl₂ và khí H₂

B. FeCl₂, Cu và khí H₂

C. Cu và khí H₂

D. FeCl₂ và Cu

Đáp án: B

Câu 429: (Mức 2)

Dụng cụ làm bằng gang dùng chứa hoá chất nào sau đây ?

A. Dung dịch H₂SO₄ loãng

B. Dung dịch CuSO₄

C. Dung dịch MgSO₄

D. Dung dịch H₂SO₄ đặc, nguội.

Đáp án: D

Câu 430: (Mức 2)_

Kim loại được dùng để làm sạch FeSO_4 có lẫn tạp chất là CuSO_4 là:

- A. Fe
B. Zn
C. Cu
D. Al

Đáp án: A

Câu 431: (Mức 2)

Một tấm kim loại bằng vàng bị bám một lớp kim loại sắt ở bề mặt, để làm sạch tấm kim loại vàng ta dùng:

- A. Dung dịch CuSO_4 dư
B. Dung dịch FeSO_4 dư
C. Dung dịch ZnSO_4 dư
D. Dung dịch H_2SO_4 loãng dư

Đáp án: D

Câu 432: (Mức 2)

Trong các chất sau đây chất nào chứa hàm lượng sắt nhiều nhất?

- A. FeS_2
B. FeO
C. Fe_2O_3
D. Fe_3O_4

Đáp án: B

Câu 433: (Mức 2)

Để chuyển FeCl_3 thành $\text{Fe}(\text{OH})_3$, người ta dùng dung dịch:

- A. HCl
B. H_2SO_4
C. NaOH
D. AgNO_3

Đáp án: C

Câu 434: (Mức 2)

Phản ứng tạo ra muối sắt (III) sunfat là:

- A. Sắt phản ứng với H_2SO_4 đặc, nóng.
B. Sắt phản ứng với dung dịch H_2SO_4 loãng
C. Sắt phản ứng với dung dịch CuSO_4
D. Sắt phản ứng với dung dịch $\text{Al}_2(\text{SO}_4)_3$

Đáp án: A

Câu 435: (Mức 3)

Hoà tan 16,8g kim loại hoá trị II vào dung dịch HCl dư, sau phản ứng thu được 6,72 lít khí H_2 (đktc). Kim loại đem hoà tan là:

A. Mg

B. Zn

C. Pb

D. Fe

Đáp án: D

Câu 436: (Mức 3)

Khử một lượng quặng hematit chứa 80% (Fe_2O_3) thu được 1,68 tấn sắt, khối lượng quặng cần lấy là:

A. 2,4 tấn

B. 2,6 tấn

C. 2,8 tấn

D. 3,0 tấn

Đáp án: D

Câu 437: (Mức 3)

Một loại quặng chứa 82% Fe_2O_3 . Thành phần phần trăm của Fe trong quặng theo khối lượng là:

A. 57,4%

B. 57,0 %

C. 54,7%

D. 56,4 %

Đáp án: A

Câu 438: (Mức 3)

Một tấn quặng manhetit chứa 81,2% Fe_3O_4 . Khối lượng Fe có trong quặng là:

A. 858 kg

B. 885 kg

C. 588 kg

D. 724 kg

Đáp án: C

Câu 439: (Mức 3)

Clo hoá 33,6g một kim loại A ở nhiệt độ cao thu được 97,5g muối ACl_3 . A là kim loại:

A. Al

B. Cr

C. Au

D. Fe

Đáp án: D

Câu 440: (Mức 3)

Ngâm một lá sắt có khối lượng 20g vào dung dịch bạc nitrat, sau một thời gian phản ứng nhấc lá kim loại ra làm khô cân nặng 23,2g. Lá kim loại sau phản ứng có:

A. 18,88g Fe và 4,32g Ag

B. 1,880g Fe và 4,32g Ag

C. 15,68g Fe và 4,32g Ag

D. 18,88g Fe và 3,42g Ag

Đáp án: A

-----HẾT-----