

Trường: Tiểu học Đặng Thị Mành

Thứ Sáu, ngày 30 tháng 12 năm 2022

Điểm trường:.....

KIỂM TRA ĐỊNH KỲ CUỐI HKI - Năm học: 2022- 2023

Lớp: 1A1

MÔN : Toán - Lớp 1

Họ tên:.....

Thời gian làm bài: 35 phút





| | | | |
|------------------|-----------------------|-----------------------|-------------------|
| Chữ ký người coi | Chữ ký người chấm bài | Chữ ký người chấm lại | HIỆU TRƯỞNG duyệt |
| | | | |

| | |
|--|----------------------|
| Điểm bài làm ghi bằng chữ ; ghi bằng số → <input type="text"/> | Điểm bài làm |
| Điểm chấm lại ghi bằng chữ ; ghi bằng số → <input type="text"/> | Điểm chấm lại |

| | |
|------------------------------------|------------------------------------|
| Nhận xét của người chấm bài | Nhận xét của người chấm lại |
| | |

.....
/ / 3:30

Câu 1: Điền số thích hợp vào chỗ trống:



.....
/ / 3:30

Câu 2: Phép tính có kết quả bằng 7 là:

A. 5+3

B. 10 - 6

C. 3+4

D. 9 -3

.....
/ / 3:30

Câu 3: Điền dấu >, <, =

3 8



10 8

6 5



9 9

.....
/ / 3 / 2 ...

Câu 4 . Nối phép tính với kết quả thích hợp:



- 0
- 3
- 7
- 9
- 10



.....
/ / 3 / 2 ...

Câu 5: Hình bên có :

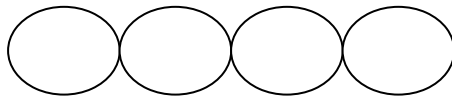

.....hình vuông

.....hình tam giác



.....
/ / 3 / 2 ...

Câu 6: a) Xếp các số sau theo thứ tự từ bé đến lớn:



b) Xếp các số sau theo thứ tự lớn đến bé:



.....
/ / 3 / 2 ...

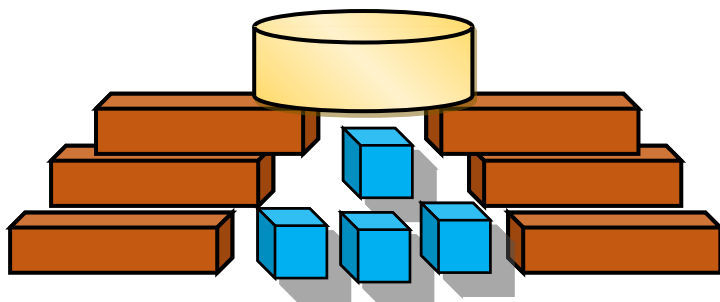
Câu 7 : Đúng ghi Đ, sai ghi S:

- $10 + 0 = 10$
- $8 - 8 = 8$
- $7 - 3 = 10$
- $4 + 5 = 9$

Câu 8: Hình bên có:

.....khối hộp chữ nhật

.....khối lập phương



.....
/ /


Câu 9: Viết phép tính thích hợp để hoàn thành “Ngôi nhà phép tính”:

| | | | | |
|--|---|--|---|--|
| <div style="display: flex; justify-content: space-around;"> <div style="border: 1px solid black; border-radius: 50%; width: 40px; height: 40px; text-align: center; line-height: 40px;">3</div> <div style="border: 1px solid black; border-radius: 50%; width: 40px; height: 40px; text-align: center; line-height: 40px;">1 0</div> <div style="border: 1px solid black; border-radius: 50%; width: 40px; height: 40px; text-align: center; line-height: 40px;">7</div> </div> | | | | |
| | + | | = | |
| | + | | = | |
| | - | | = | |
| | - | | = | |

.....
/ /

Câu 10: Nhìn tranh điền phép tính thích hợp:

a)



| | | | | |
|--|--|--|--|--|
| | | | | |
|--|--|--|--|--|

b)



| | | | | |
|--|--|--|--|--|
| | | | | |
|--|--|--|--|--|



HƯỚNG DẪN CHẤM

MÔN TOÁN KHỐI 1 – CUỐI HKI – NĂM HỌC 2022 – 2023

Câu 1: (1 điểm) Điền đúng mỗi số đạt 0,25 đ

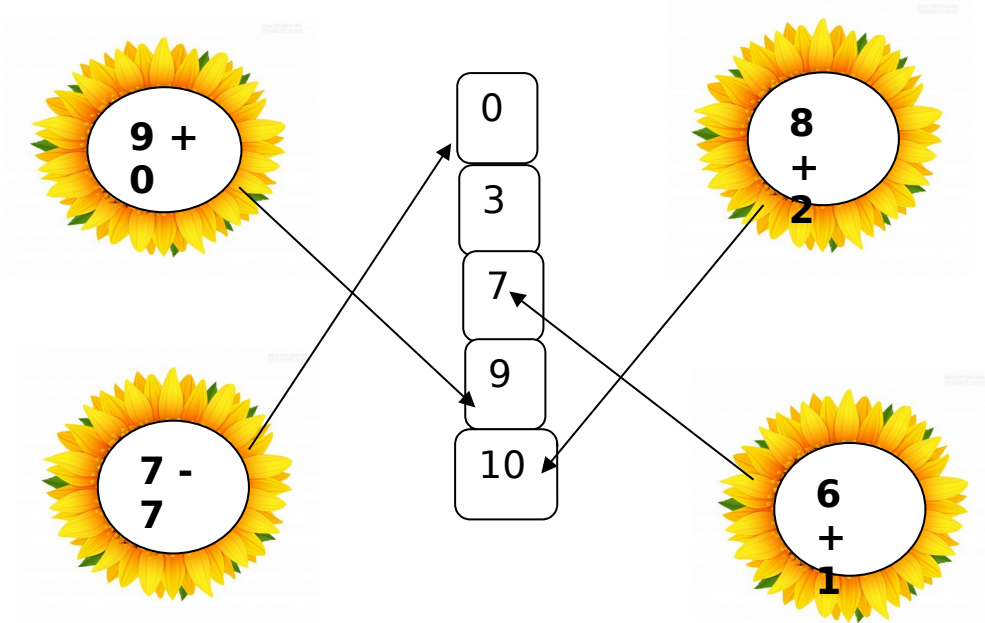
Câu 2: (1 điểm) Chọn đúng phép tính có kết quả bằng 7 đạt 1đ

- A. $5+3$ B. $10 - 6$ **C. $3+4$** D. $9 - 3$

Câu 3: (1 điểm) Điền đúng mỗi chỗ trống đạt 0,25 đ

$$\begin{array}{cc} 3 \square 8 & 10 \square 8 \\ 6 \square 5 & 9 \square 9 \end{array}$$

Câu 4 . (1 điểm) Nối đúng mỗi phép tính đạt 0,25đ



Câu 5 . (1 điểm) Điền đúng mỗi chỗ trống đạt 0,5đ

- 7 hình vuông
- 5 hình tam giác

Câu 6: (1 điểm) Xếp đúng thứ tự mỗi yêu cầu đạt 0,5đ.

- Theo thứ tự từ bé đến lớn: 1,5,6,8 (0,5 đ)
- Theo thứ tự từ lớn đến bé: 9,7,4,3 (0,5đ)

Câu 7: (1 điểm) Điền đúng mỗi chỗ trống đạt 0,25đ

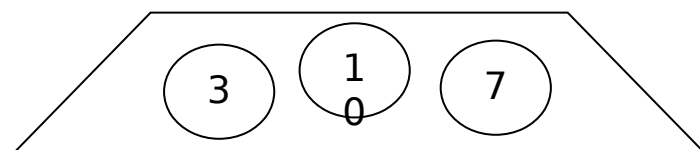
$$\begin{array}{cc} 10 + 0 = 10 & \text{đ} & 8 - 8 = 8 & \text{s} \\ 7 - 3 = 10 & \text{s} & 4 + 5 = 9 & \text{đ} \end{array}$$

Câu 8: (1 điểm) Điền đúng mỗi chỗ trống đạt 0,5đ

6 khối hộp chữ nhật

4 khối lập phương

Câu 9: (1 điểm) Viết đúng mỗi phép tính đạt 0,25đ

| | | | | |
|--|---|---|---|----|
|  | | | | |
| 3 | + | 7 | = | 10 |
| 7 | + | 3 | = | 10 |
| 10 | - | 3 | = | 7 |
| 10 | - | 7 | = | 3 |

Câu 10: (1 điểm) Điền đúng mỗi phép tính đạt 0,5đ

a)

| | | | | |
|---|---|---|---|---|
| 7 | - | 2 | = | 5 |
|---|---|---|---|---|

b)

| | | | | |
|---|---|---|---|---|
| 4 | + | 4 | = | 8 |
|---|---|---|---|---|