

PHÒNG GD VÀ ĐT .....  
**TRƯỜNG** .....  
KHỐI 1

**MA TRẬN ĐỀ KIỂM TRA ĐỊNH KỲ MÔN TOÁN CUỐI HỌC KÌ I**  
Năm học: 2022- 2023

Mạch kiến thức, kỹ năng	Số câu và số điểm	Mức 1		Mức 2		Mức 3		Tổng	
		TN KQ	TL	TN KQ	TL	TN KQ	TL	TN KQ	TL
<b>Số học</b>	Số câu	3	1	2			1	5	2
	Câu số	1,2,3	9	4, 6			10		
	Số điểm	3,0	1,0	2,0			1,0	5,0	2,0
<b>Hình học</b>	Số câu		1	1			1	1	2
	Câu số		7	5			8		
	Số điểm		1,0	1,0			1,0	1,0	2,0
<b>Tổng</b>	Số câu	3	2	3			2	6	4
	Số điểm	3,0	2,0	3,0			2,0	6,0	4,0

PHÒNG GD VÀ ĐT .....

TRƯỜNG .....  
KHỐI 1

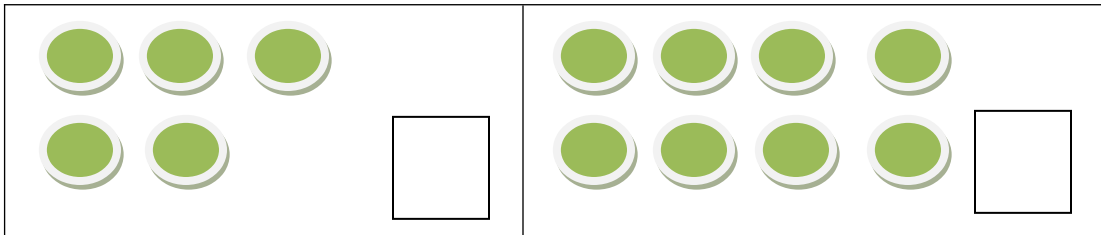
**ĐỀ KIỂM TRA ĐỊNH KÌ MÔN TOÁN CUỐI HỌC KÌ I**

**Năm học : 2022- 2023**

**Thời gian : 40 phút ( không kể thời gian phát đề )**

**I. PHẦN TRẮC NGHIỆM: (6 điểm)**

**Câu 1: Số ? ( 1 điểm ) (M1)**



**Câu 2: Viết số còn thiếu vào ô trống : ( 1 điểm ) (M1)**

4			7		
---	--	--	---	--	--

**Câu 3: Khoanh vào chữ cái đặt trước kết quả đúng: ( 1,5 điểm ) (M1)**

a.  $2 + 6 =$

A. 6

B. 4

C. 8

b.  $4 \dots 8$

A. >

B. <

C. =

**Câu 4: Đúng ghi Đ, sai ghi S vào ô trống. (1 điểm) (M2)**

$4 + 2 + 3 = 9$

$3 + 6 - 3 = 6$

$9 - 2 - 3 = 4$

$8 - 5 + 0 = 3$

**Câu 5: Hình dưới là khối? ?( 1 điểm ) (M2)**



A. Khối hộp chữ nhật

B. Khối lập phương

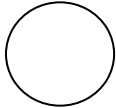
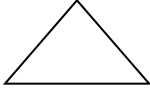
**Câu 6: Khoanh vào chữ cái đặt trước kết quả đúng: (0.5 điểm) (M2)**

$4 + 5 - 2 = ?$

A. 7

B. 5



C. 6

**II/ PHẦN TỰ LUẬN: (4 điểm)****Câu 7: Nối với hình thích hợp ( 1 điểm ) (M1)**

Hình tròn

Hình vuông

Hình tam giác

**Câu 8. Nối tên các đồ vật sau phù hợp với khối hộp chữ nhật, khối lập phương. (1 điểm) ( M3)****Câu 9. Số ( 1 điểm ) ( M1)**

3	+	1	=	
---	---	---	---	--

5	-	2	=	
---	---	---	---	--

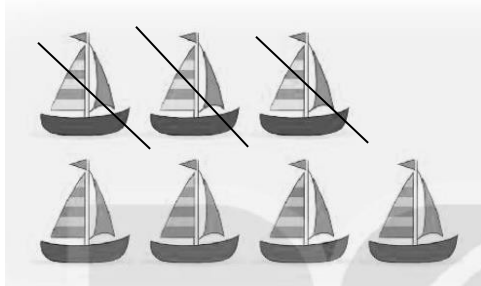
**Câu 10.** Xem tranh rồi viết phép tính thích hợp: ( 1 điểm) (M3)

—  
a)



$$\square \bigcirc \square = \square$$

b)



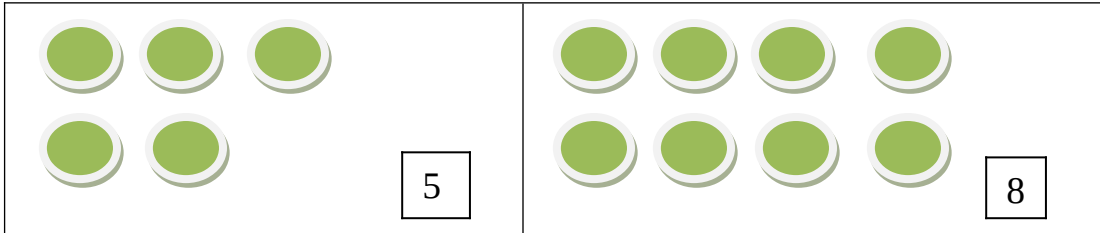
$$\square \bigcirc \square = \square$$

TRƯỜNG .....  
KHỐI 1 \_\_\_\_\_

**ĐÁP ÁN KIỂM TRA ĐỊNH KÌ MÔN TOÁN CUỐI HỌC KÌ I**  
**Năm học : 2022- 2023**

**I. PHẦN TRẮC NGHIỆM: (6 điểm)**

Câu 1: Số ? ( 1 điểm ) (M1)



Câu 2: Viết số còn thiếu vào ô trống : ( 1 điểm ) (M1)

4	5	6	7	8	9
---	---	---	---	---	---

Câu 3: Khoanh vào chữ cái đặt trước kết quả đúng: ( 1,5 điểm ) (M1)

a.  $2 + 6 =$

A. 6

B. 4

C. 8

b.  $4 \dots 8$

A. >

B. <

C. =

Câu 4: Đúng ghi Đ, sai ghi S vào ô trống. (1 điểm) (M2)

$4 + 2 + 3 = 9$

$3 + 6 - 3 = 9$

$9 - 2 - 3 = 2$

$8 - 5 + 0 = 3$

Câu 5: Hình dưới là khối? ?( 1 điểm ) (M2)



A Khối hộp chữ nhật

B. Khối lập phương

Câu 6: Khoanh vào chữ cái đặt trước kết quả đúng: (0.5 điểm) (M2)

A . 7

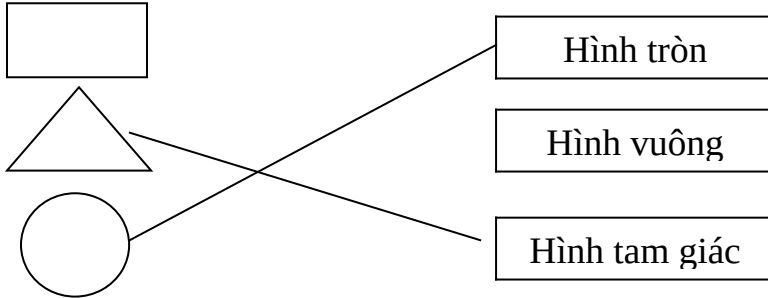
$$4 + 5 - 2 = ?$$

B. 5

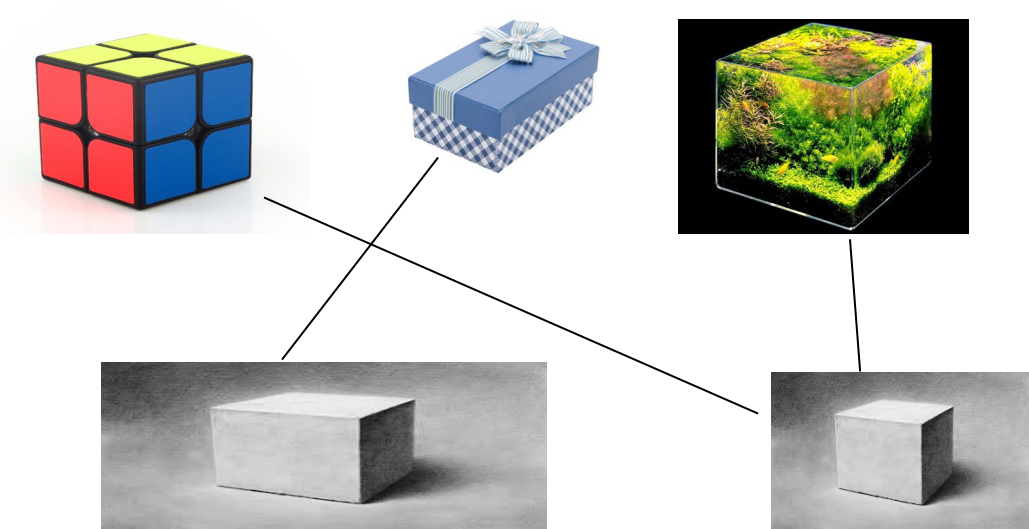
C . 6

**II/ PHẦN TỰ LUẬN: (4 điểm)**

Câu 7: Nối với hình thích hợp ( 1 điểm ) (M1)



Câu 8. Nối tên các đồ vật sau phù hợp với khối hộp chữ nhật, khối lập phương. (1 điểm) ( M3)



Câu 9. Số ( 1 điểm ) ( M1)



3	+	1	=	4
---	---	---	---	---


Câu 10. Xem tranh

5	-	2	=	3
---	---	---	---	---

rồi viết


phép tính thích hợp: ( 1 điểm) (M3)

a) —



$$\boxed{5} \quad \boxed{+} \quad \boxed{0} \quad \boxed{=} \quad \boxed{5}$$

b)



$$\boxed{7} \quad \boxed{-} \quad \boxed{3} \quad \boxed{=} \quad \boxed{4}$$

