

PHIẾU TOÁN CUỐI TUẦN 20

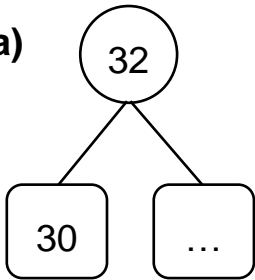
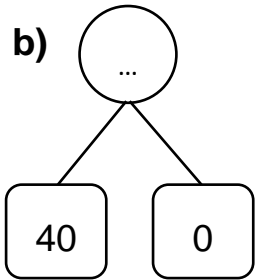
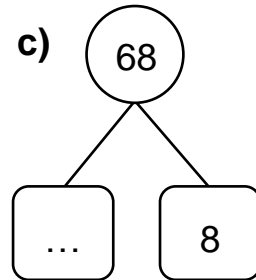
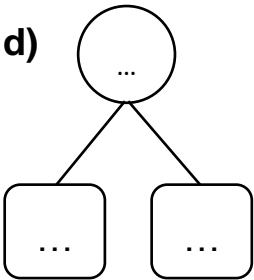
Họ và tên học sinh: Lớp:

Bài 1. Nói.

Số gồm 5 chục và 3 đơn vị	Số gồm 1 chục và 8 đơn vị	Số gồm 9 chục và 9 đơn vị	Số gồm 6 chục và 0 đơn vị
---------------------------------	---------------------------------	---------------------------------	---------------------------------

18	99	60	53
----	----	----	----

Bài 2. Số?

a) 	b) 	c) 	d) 
---	---	--	---

(Với câu 2d, học sinh tự nghĩ ra một số và tự tách số)

Bài 3. Hoàn thành bảng theo mẫu.

Viết số	Đọc số	Viết số	Đọc số
11	Mười một	55	Năm mươi lăm
27	Hai mươi tư
95	Ba mươi mốt
50	Bảy mươi
22	Tám mươi chín

Bài 4. Dựa vào bảng các số từ 0 đến 99, em hãy hoàn thành các câu sau:






- a) Số lớn nhất có một chữ số là:
- b) Số lớn nhất có hai chữ số là:
- c) 90 ; 91 ; 92; 93 ; ... ; ... ; 96 ; ... ; 98 ;
- d) 1 ; 3 ; 5; ... ; ... ; 11 ; ... ;

0	1	2	3	4	5	6	7	8	9
10	11	12	13	14	15	16	17	18	19
20	21	22	23	24	25	26	27	28	29
30	31	32	33	34	35	36	37	38	39
40	41	42	43	44	45	46	47	48	49
50	51	52	53	54	55	56	57	58	59
60	61	62	63	64	65	66	67	68	69
70	71	72	73	74	75	76	77	78	79
80	81	82	83	84	85	86	87	88	89
90	91	92	93	94	95	96	97	98	99

Câu 5. a) Nối các con vật với thức ăn phù hợp.

b) Viết số thích hợp vào viên gạch dưới mỗi con vật.

c) Tô màu theo ý thích.



Để có trọn bộ phiếu cuối tuần, trọn bộ bộ giáo án powerpoint Toán + Tiếng Việt, mời thầy cô tham gia nhóm facebook:

<https://www.facebook.com/groups/443096903751589>

Zalo: 0916604268