

PHIẾU TOÁN CUỐI TUẦN 25

Họ và tên học sinh: Lớp:

Em hãy khoanh vào đáp án đúng nhất hoặc hoàn thành các bài tập theo yêu cầu.

Bài 1. Độ dài của cây bút chì là:



A. 7 cm

B. 8 cm

C. 9cm

Bài 2. Số 46 gồm có:

A. 40 chục và 6 đơn vị.

B. 4 chục và 60 đơn vị.

C. 4 chục và 6 đơn vị.

Bài 3. Đúng ghi Đ, sai ghi S.

$$\begin{array}{r} 65 \\ + 2 \\ \hline 67 \end{array} \square$$

$$\begin{array}{r} 65 \\ + 2 \\ \hline 85 \end{array} \square$$

$$\begin{array}{r} 23 \\ + 6 \\ \hline 89 \end{array} \square$$

$$\begin{array}{r} 23 \\ + 6 \\ \hline 29 \end{array} \square$$




Bài 4. Lấy số bé nhất có 2 chữ số cộng với 1 thì kết quả sẽ là:




A. 1

B. 11

C. 3

Bài 5. Tìm thức ăn cho mỗi con vật rồi viết kết quả các phép tính vào ô trống.

	<input type="checkbox"/>
	<input type="checkbox"/>
	<input type="checkbox"/>

$93 + 5$	
$21 + 6$	
$50 + 3$	

(Học sinh có thể tô màu các con vật theo ý thích).