

SỞ GIÁO DỤC VÀ ĐÀO TẠO HẢI DƯƠNG **KỶ THI CHỌN HỌC SINH GIỎI CẤP TỈNH LỚP 12 THPT**
NĂM HỌC 2024-2025

Môn thi: HÓA HỌC

Ngày thi: 29/10/2024

Thời gian làm bài: 100 phút, không tính thời gian phát đề
 Đề thi có 09 trang

ĐỀ CHÍNH THỨC

MÃ ĐỀ: 204

Cho biết:

- Nguyên tử khối một số nguyên tố:

H = 1; C = 12; N = 14; O = 16; F = 19; Na = 23; Mg = 24; Al = 27; S = 32; Cl = 35,5; K = 39; Ca = 40; Fe = 56; Cu = 64; Zn = 65; Ag = 108; Ba = 137; Pb = 207.

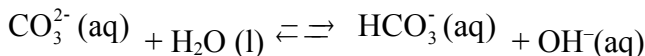
- Thể tích các chất khí đo ở điều kiện chuẩn (đkc). Ở đkc, một mol khí có thể tích là 24,79L.

- Bảng số sóng hấp thụ đặc trưng trên phổ hồng ngoại (IR) của một số nhóm chức:

Loại hợp chất	Liên kết	Số sóng (cm ⁻¹)
Alcohol	O-H	3500 - 3200
Aldehyde	C=O	1740 - 1685
	C-H	2830 - 2695
Carboxylic acid	C=O	1760 - 1690
	O-H	3300 - 2500
Ester	C=O	1750 - 1715
	C-O	1300 - 1000
Ketone	C=O	1715 - 1666
Amine	N-H	3300 - 3000

Phần I (6,0 điểm): Câu trắc nghiệm nhiều phương án lựa chọn. Thí sinh trả lời từ câu 1 đến câu 24. Mỗi câu hỏi thí sinh chỉ chọn một phương án.

Câu 1: Trong phản ứng sau đây, những chất nào đóng vai trò là base theo thuyết Brønsted – Lowry?



- A. H₂O và OH⁻. B. CO₃²⁻ và OH⁻. C. H₂O và CO₃²⁻. D. CO₃²⁻ và HCO₃⁻.


Câu 2: Thành phần dầu tẩy trang hoa hồng Cocoon có C15-19 Alkane, tức là các alkane có từ 15 đến 19 nguyên tử carbon. Hãy cho biết vì sao người ta dùng alkane làm thành phần dầu tẩy trang?

A. Do alkane dễ phản ứng với các chất trong kem, phân bôi da thành chất hòa tan trong nước để bị rửa trôi.

B. Do alkane dễ hòa tan trong nước.

C. Do các alkane có khả năng chống nắng tốt.

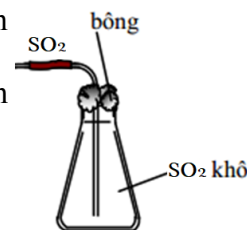
D. Do các alkane không phân cực, dễ hòa tan các chất trong phấn, kem, bột trang điểm, tẩy trang, kem dưỡng da, sữa rửa mặt, nước hoa và bị rửa trôi đi.



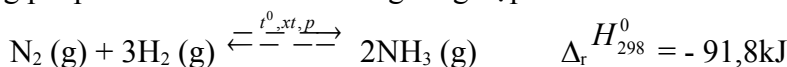
Câu 3: Một bạn học sinh thu khí SO₂ vào bình tam giác và đậy miệng bình bằng bông tẩm dung dịch E (để giữ không cho khí SO₂ bay ra) theo sơ đồ bên. Theo em, để hiệu quả nhất, bạn học sinh cần sử dụng dung dịch E là dung dịch đây?

A. Muối ăn. B. Nước vôi.

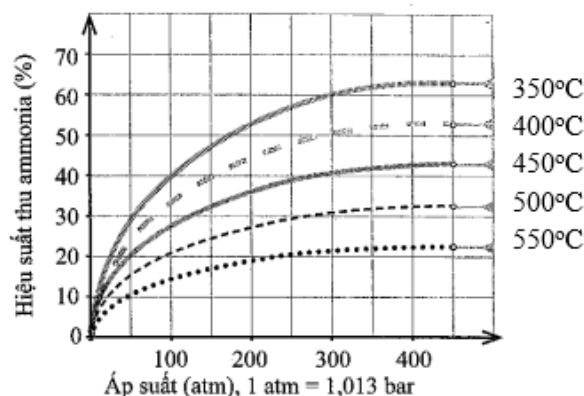
C. Cồn ethanol. D. Giấm ăn.



Câu 4: Trong công nghiệp, Ammonia được tổng hợp từ nitrogen và hydrogen theo phương pháp Haber-Bosch. Phản ứng tổng hợp ammonia:



Kết quả nghiên cứu sự phụ thuộc của hiệu suất tổng hợp ammonia vào áp suất và nhiệt độ của phản ứng được thể hiện ở giản đồ trong hình dưới đây:



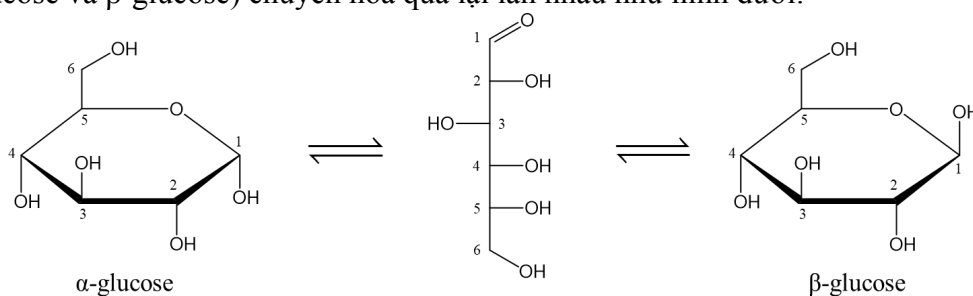
Hình 5. Sự phụ thuộc của hiệu suất tổng hợp ammonia vào áp suất và nhiệt độ phản ứng

(Nguồn: Cowbridge Chemistry Department: Making ammonia – The Haber process
<http://ccschemistry.blogspot.com/2016/>, truy cập ngày 22-3-2023.)

Nhận xét nào sau đây là đúng?

- A. Ở nhiệt độ 400 °C, hiệu suất phản ứng đạt khoảng 50% ở 200 atm.
- B. Nếu thực hiện phản ứng ở nhiệt độ càng thấp thì sẽ càng đạt hiệu quả kinh tế cao.
- C. Trong khoảng từ 350 °C đến 550 °C, hiệu suất thu ammonia tăng dần.
- D. Để tăng hiệu suất tổng hợp ammonia có thể đồng thời tăng áp suất và giảm nhiệt độ.

Câu 5: Các nghiên cứu về cấu tạo cho biết glucose có một dạng mạch hở và hai dạng mạch vòng (α -glucose và β -glucose) chuyển hóa qua lại lẫn nhau như hình dưới:



Phát biểu nào sau đây đúng?

- A. Ở dạng mạch hở, phân tử glucose có 5 nhóm hydroxy và một nhóm chức ketone.
- B. Glucose có phản ứng làm mất màu dung dịch nước bromine.
- C. Glucose có phản ứng hòa tan $\text{Cu}(\text{OH})_2$ ở điều kiện thường tạo dung dịch phức màu tím.
- D. Nhóm $-\text{OH}$ ở vị trí carbon số 6 trong glucose dạng mạch vòng gọi là $-\text{OH}$ hemiacetal.

Câu 6: Ngâm bột củ nghệ với ethanol nóng, sau đó lọc bỏ bã, lấy dung dịch đem cô để làm bay hơi bớt dung môi. Phần dung dịch còn lại sau khi cô được làm lạnh, để yên một thời gian rồi lọc lấy kết tủa curcumin màu vàng. Từ mô tả ở trên, hãy cho biết, người ta đã sử dụng các kỹ thuật tinh chế nào để lấy được curcumin từ củ nghệ?

- A. Kết tinh và sắc kí. B. Chung cất và sắc kí. C. Chiết và kết tinh. D. Chiết và chung cất.

Câu 7: Tiến hành thí nghiệm phản ứng của hồ tinh bột với iodine theo các bước sau đây:

Bước 1: Cho vài giọt dung dịch iodine vào ống nghiệm đựng sẵn 2 mL dung dịch hồ tinh bột.

Bước 2: Đun nóng dung dịch một lát, sau đó để nguội.

Phát biểu **không** đúng là

- A. Sau bước 1 và bước 2 dung dịch thu được đều có màu xanh tím.
- B. Nhỏ vài giọt dung dịch iodine lên mặt cắt của quả chuối xanh cũng thấy xuất hiện màu xanh tím tương tự thí nghiệm.
- C. Trong tinh bột, các phân tử amylopectin có dạng xoắn, tương tác với iodine tạo màu xanh tím.
- D. Khi đun nóng dung dịch ở bước 2 thì thấy mất màu xanh tím.

Câu 8: Phân bón hữu cơ truyền thống gồm phân chuồng, phân xanh, phân rác... được sản xuất từ chất thải của động vật, xác cây xanh, rác thải hữu cơ. Phương pháp nào sau đây thường được sử dụng phổ biến để sản xuất phân bón hữu cơ truyền thống?

- A. Ủ kín B. Ngâm nước C. Nghiền nhỏ D. Đốt cháy

Câu 9: Catechin là một chất kháng oxi hoá mạnh, ức chế hoạt động của các gốc tự do nên có khả năng phòng chống bệnh ung thư, nhồi máu cơ tim. Trong lá chè tươi, catechin chiếm khoảng 25% đến 35%

nồng. Nó được tìm thấy trong nhiều loại thực vật như dâu tây, húng quế, bạch đàn trắng,... Công thức của methyl cinnamate như hình bên.

Phát biểu nào sau đây **không** đúng ?

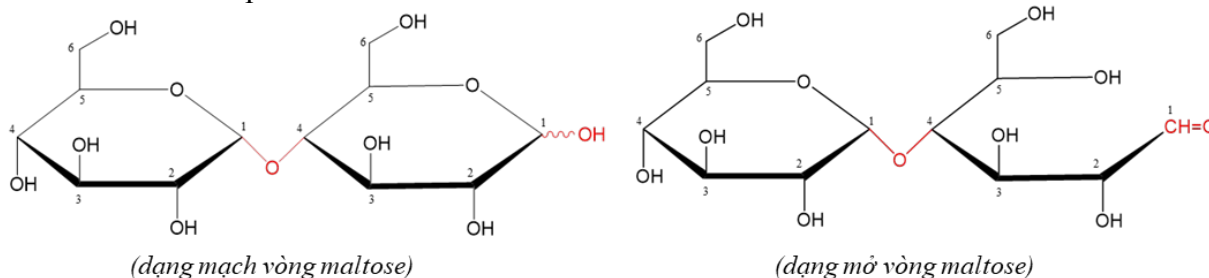
A. Trong phân tử methyl cinnamate, phần trăm theo khối lượng của oxygen xấp xỉ bằng 29,75%.

B. Thủy phân hoàn toàn methyl cinnamate trong dung dịch NaOH, đun nóng, thu được methanol và sodium cinnamate.

C. Methyl cinnamate có thể tham gia phản ứng cộng hợp với H_2 (Ni, t^0) theo tỉ lệ mol 1 : 4 .

D. Methyl cinnamate là ester đơn chức.

Câu 15: Cho cấu trúc phân tử maltose như hình dưới.



Nhận xét nào sau đây là đúng?

A. Phân tử maltose dạng vòng có chứa hai nhóm -OH hemiacetal.

B. Phân tử maltose gồm một gốc α -glucose và một gốc β -fructose.

C. Maltose là disaccharide, có thể tham gia phản ứng thủy phân trong môi trường base.

D. Maltose có thể tham gia phản ứng tráng bạc với thuốc thử Tollens.

Câu 16: Cho các phát biểu sau về phân bón:

(a) Hàm lượng lân hữu hiệu của phân lân được tính bằng phần trăm khối lượng của P_2O_5 tương ứng với lượng P trong thành phần của nó.

(b) Các nguyên tố dinh dưỡng như Fe, Co, Mn, Zn, B, Mo, Cu thuộc loại nguyên tố trung lượng trong phân bón.

(c) Phân bón hữu cơ thể hiện quá trình cung cấp dinh dưỡng chậm hơn phân bón vô cơ.

(d) Người ta dùng loại phân bón chứa nguyên tố potassium để tăng cường sức chống sâu bệnh, chống rét và chịu hạn cho cây.

(e) Tro thực vật cũng là một loại phân đạm vì có chứa K_2CO_3 .

Số phát biểu **không** đúng là

A. 3.

B. 4.

C. 1.

D. 2.

Câu 17: Chỉ số octane (octane number) là chỉ số đo lường khả năng chống kích nổ của một nhiên liệu khi nhiên liệu này bốc cháy với không khí bên trong xilanh của động cơ đốt trong. Quy ước chỉ số octane của 2,2,4-trimethylpentane là 100 và của heptane là 0. Chỉ số octane càng cao, hiệu suất cháy của xăng càng cao. RON là viết tắt của “research octane number”, tức chỉ số octane nghiên cứu. Ví dụ RON 92 thì có chỉ số octane bằng 92, tức là 100 lít xăng RON 92 có thể quy đổi tương ứng 92 lít xăng có chỉ số octane 100, còn lại là xăng có chỉ số octane bằng 0. Xăng E5 có chứa 5% ethanol và 95% xăng RON 92 theo thể tích, cho biết ethanol có chỉ số octane là 109.

Cho các phát biểu sau:

(a) Công thức cấu tạo của ethanol là $CH_3 - CH_2 - OH$.

(b) Chỉ số octane của xăng E5 là 92,85.

(c) Công thức phân tử của 2,2,4-trimethylpentane là C_5H_{12} .

(d) Xăng E5 có hiệu suất cháy kém hơn xăng RON 95.

(e) Ứng dụng của phản ứng reforming alkane là để sản xuất xăng có chỉ số octane cao.

Số phát biểu đúng là

A. 3.

B. 5.

C. 4.

D. 2.

Câu 18: CFC (chlorofluorocarbon) là kí hiệu chung chỉ nhóm các hợp chất hữu cơ mà trong phân tử có chứa 3 loại nguyên tố Cl, F và C. Ưu điểm của chúng là rất bền, không cháy, không mùi, không độc, không gây ra sự ăn mòn, dễ bay hơi... nên được dùng làm chất sinh hàn trong tủ lạnh, điều hòa không khí, dùng trong các bình xịt tạo bọt xốp... Tuy nhiên, do có nhược điểm lớn là phá hủy tầng ozone bảo vệ trái đất nên từ những năm 1990, CFC bị hạn chế sử dụng theo các quy định của công ước về bảo vệ môi trường và

chống biến đổi khí hậu: Freon-12 là một loại chất CFC được sử dụng khá phổ biến, có chứa 31,40% fluorine và 58,68% chlorine về khối lượng. Công thức phân tử của freon-12 là

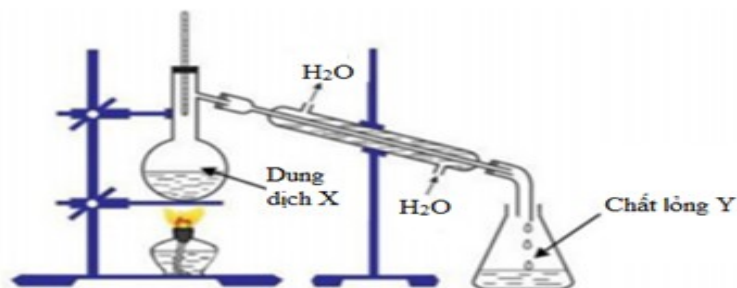
A. CCl_2F_2 .

B. CCl_3F .

C. $\text{C}_2\text{Cl}_4\text{F}_2$.

D. CClF_3 .

Câu 19: Để điều chế ester Isoamyl acetate có mùi chuối chín (dầu chuối) từ Isoamyl alcohol và acetic acid có xúc tác H_2SO_4 đặc, người ta lắp dụng cụ như hình vẽ sau:



Cho các phát biểu:

(a) Cần chuẩn bị hóa chất trong bình dung dịch X gồm CH_3COOH , $\text{C}_2\text{H}_5\text{OH}$, H_2SO_4 đặc.

(b) Bình dung dịch X cần thêm đá bọt giúp tránh chất lỏng sôi trào.

(c) Bình chất lỏng Y thường có lẫn nước, để tách ester cần dùng phương pháp chưng cất.

(d) Nước trong hình vẽ có tác dụng làm lạnh để ngưng tụ ester.

(e) Phản ứng xảy ra sự tách nhóm $-\text{OH}$ trong phân tử alcohol

Số phát biểu đúng là

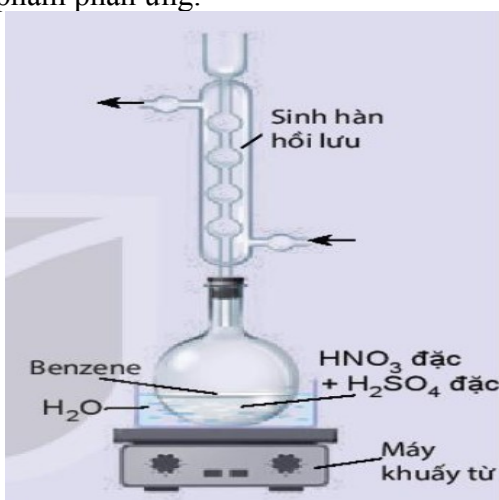
A. 3.

B. 2.

C. 1.

D. 4.

Câu 20: Nitrobenzene được ứng dụng trong nông nghiệp để tổng hợp chất kích thích tăng trưởng thực vật, kích thích cây ra hoa. Phản ứng nitro hoá benzene trong phòng thí nghiệm được thực hiện như sau: Cho con tủy vào bình cầu dung tích 250 mL, thêm khoảng 30 mL H_2SO_4 đặc, làm lạnh trong chậu nước đá rồi thêm từ từ khoảng 30 mL HNO_3 , sau đó thêm tiếp khoảng 10 mL benzene và lắp sinh hàn hồi lưu. Đun cách thủy hỗn hợp phản ứng trên bếp từ đến 80°C trong khoảng 60 phút. Để nguội rồi cho hỗn hợp vào phễu chiết để tách sản phẩm phản ứng.



Nhận định nào sau đây **không** đúng về thí nghiệm trên:

A. Sinh hàn hồi lưu có tác dụng ngưng tụ các chất lỏng bay hơi cho trở lại bình phản ứng.

B. Chất lỏng trong phễu chiết tách thành 2 lớp, lớp trên là sản phẩm phản ứng, lớp dưới là dung dịch hỗn hợp 2 acid.

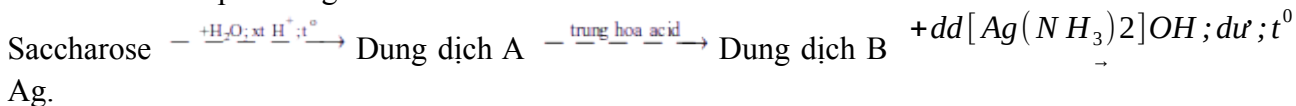
C. Nếu thay benzene bằng toluene thì phản ứng xảy ra dễ hơn, nhưng **không** thu được nitrobenzene.

D. Phản ứng xảy ra trong thí nghiệm là phản ứng cộng nhóm nitro vào vòng benzene.

Câu 21: Để tách lấy lượng phân bón Kali người ta thường tách KCl khỏi quặng sylvinit, thành phần chính của quặng là NaCl, KCl. Vì NaCl và KCl có nhiều tính chất tương tự nhau nên người ta không dùng phương pháp hóa học để tách chúng. Thực tế người ta dựa vào độ tan khác nhau trong nước theo nhiệt độ để tách hai chất này. Biết: độ tan (S) của một chất ở nhiệt độ xác định là khối lượng chất đó tan trong 100 gam nước để tạo dung dịch bão hòa. Cho bảng độ tan của NaCl và KCl:

- a) Hỗn hợp eugenol với zinc oxide có thể được sử dụng trong các chế phẩm vệ sinh răng miệng.
 b) Công thức phân tử của eugenol là $C_9H_8O_3$
 c) Trong phản ứng hydrogen hóa, một mol eugenol phản ứng cộng tối đa được 5 mol H_2 (Ni, t°).
 d) Trong phổ hồng ngoại của chất X, **không** xuất hiện tín hiệu đỉnh hấp thụ (peak) ở số sóng 1740-1685 cm^{-1} .

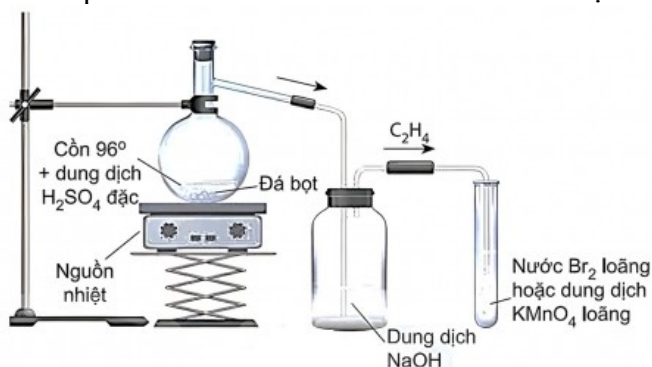
Câu 3. Theo Tiêu chuẩn Việt Nam TCVN 7624 : 2007, khi chế tạo gương, chiều dày lớp bạc phủ trên bề mặt tấm kính (quy ra tổng lượng bạc trên một đơn vị m^2 kính) phải đạt tối thiểu 0,7 $g.m^{-2}$. Một công ty cần sản xuất 30000 m^2 gương có độ dày lớp bạc phủ ở mức 0,72 $g.m^{-2}$. Để tạo ra bạc, người ta tiến hành theo sơ đồ phản ứng như sau:



Biết hiệu suất cả quá trình là 80%.

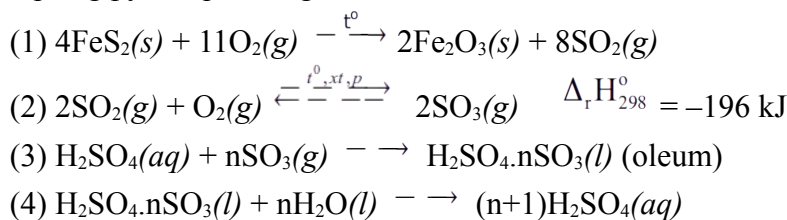
- a) Trong dung dịch A có hai monosaccharide.
 b) Trong quá trình thủy phân saccharose có thể thay xúc tác acid bằng xúc tác base.
 c) Lượng bạc được tráng lên 30000 m^2 gương với độ dày lớp bạc phủ ở mức 0,72 $g.m^{-2}$ là 21,6 kg.
 d) Để tráng bạc 30000 m^2 gương với độ phủ bạc như trên, công ty đó cần sử dụng lượng saccharose ít nhất là 17,1 kg.

Câu 4. Hình vẽ sau đây mô tả quá trình điều chế và thử tính chất hóa học của ethylene :



- a) Khí ethylene sinh ra làm nhạt màu dung dịch nước bromine.
 b) Ethylene sinh ra từ phản ứng tách nước của ethanol.
 c) Dung dịch $KMnO_4$ tác dụng với ethylene (dư) tạo thành dung dịch trong suốt, không màu.
 d) Bình đựng dung dịch NaOH có tác dụng loại bỏ H_2SO_4 bị lẫn trong ethylene sinh ra.

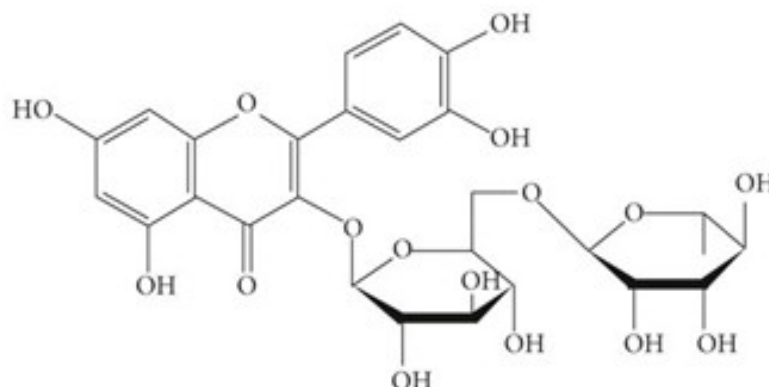
Câu 5. Sulfuric acid là một trong những hóa chất quan trọng nhất được sử dụng trong công nghiệp; được sản xuất hàng trăm triệu tấn mỗi năm, chiếm nhiều nhất trong ngành công nghiệp hóa chất. Phương pháp sản xuất sulfuric acid phổ biến nhất là phương pháp tiếp xúc, theo đó acid có thể được sản xuất từ quặng pyrite qua các giai đoạn theo sơ đồ sau:



Dùng sulfuric acid 98% hấp thụ $SO_3(g)$ trong giai đoạn (3), quá trình này được thực hiện trong tháp tiếp xúc. Để xác định công thức của oleum thu được, người ta pha loãng 8,36 gam oleum vào nước thành 1,0 lít dung dịch sulfuric acid, sau đó tiến hành chuẩn độ 10,00 mL dung dịch acid này bằng dung dịch chuẩn NaOH 0,10 M. Thể tích NaOH trung bình cần sử dụng để chuẩn độ là 20,01 mL.

- a) Phản ứng (2) nên được thực hiện ở nhiệt độ rất cao để tăng hiệu suất điều chế SO_3 .
 b) Cách thực hiện đạt hiệu quả tiếp xúc tốt nhất ở giai đoạn (3) là $SO_3(g)$ được phun vào từ phía trên tháp, $H_2SO_4(aq)$ được bơm từ dưới lên.
 c) Nếu ở giai đoạn (3) dùng nước thay cho H_2SO_4 đặc để hấp thụ SO_3 thì sẽ gây ra hiện tượng khói mù acid.
 d) Công thức của oleum xác định được ở trên là $H_2SO_4.4SO_3$.

Câu 6. Rutin có nhiều trong hoa hòe, có tác dụng làm bền vững thành mạch, chống co thắt, chống viêm cầu thận cấp. Rutin được dùng để điều chế thuốc chứa quercetin có tác dụng chống oxy hóa, kháng viêm, chống dị ứng, ngăn ngừa ung thư. Trong môi trường acid, một phân tử rutin phản ứng với 2 phân tử nước, thu được sản phẩm gồm quercetin, glucose và rhamnose ($C_6H_{12}O_5$). Biết độ tan của rutin (gam/1L nước) ở 100 °C và 25 °C lần lượt là 5,2 và 0,125. Rutin có công thức cấu trúc như hình sau:

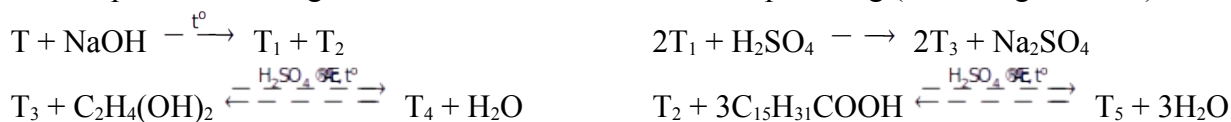


- Không nên uống trà có hoa hòe vì hoa hòe chứa các chất gây hại cho sức khỏe.
- Công thức phân tử của rutin là $C_{26}H_{28}O_{16}$.
- Để tách rutin từ hoa hòe có thể dùng phương pháp chiết và kết tinh.
- Công thức phân tử của quercetin là $C_{15}H_{10}O_7$.

Phần III (2,0 điểm). Câu trắc nghiệm trả lời ngắn. Thí sinh trả lời từ câu 1 đến câu 8.

Câu 1. Aspirin được sử dụng làm thuốc giảm đau, hạ sốt có thành phần chính là acetyl salixylic acid ($o\text{-CH}_3\text{COO-C}_6\text{H}_4\text{-COOH}$) và các tá dược. Cho 1,0 gam aspirin vào 30 mL ethanol và lắc đều thu được dung dịch X. Cho X tác dụng với 40 mL dung dịch NaOH 1M đun nóng, khi phản ứng xảy ra hoàn toàn đưa về nhiệt độ phòng thu được dung dịch Y. Thêm vài giọt phenolphthalein vào dung dịch Y thấy dung dịch xuất hiện màu hồng. Sau đó thêm từ từ dung dịch HCl 0,5M vào đến khi dung dịch mất màu hồng thì hết 53 mL. Phần trăm theo khối lượng của acetyl salixylic acid trong mẫu aspirin ban đầu là x%. Giá trị của x là bao nhiêu (kết quả làm tròn đến hàng đơn vị, giả sử các tá dược trong aspirin không tham gia vào các phản ứng trên) ?

Câu 2. Hợp chất T có công thức $C_8H_{14}O_4$. Từ T thực hiện các phản ứng (theo đúng tỉ lệ mol):



Biết T_3 có đồng phân hình học, T_2 mạch không phân nhánh và có 1 nhóm CH_3 .

Cho các phát biểu sau:

- Khối lượng mol của T_5 là 806 gam/mol.
- T_4 tác dụng được với cả Na và dung dịch KOH.
- Đốt hoàn toàn 1 mol T_1 thu được 4 mol CO_2 .
- Có 1 công thức cấu tạo thỏa mãn với T.
- T_2 được sinh ra khi thủy phân triolein.
- T_3 có số nguyên tử H gấp 3 lần số nguyên tử O.

Số phát biểu đúng là bao nhiêu?

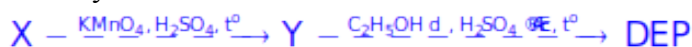
Câu 3. Một bình gas (khí hóa lỏng) có chứa 12 kg hỗn hợp propane và butane, trong đó propane chiếm 27,5% về khối lượng. Khi đốt cháy hoàn toàn, 1 mol propan tỏa ra lượng nhiệt là 2220 kJ và 1 mol butan tỏa ra lượng nhiệt là 2850 kJ. Trung bình, lượng nhiệt tiêu thụ từ đốt khí gas của một hộ gia đình A là 19000 kJ/ngày, hiệu suất sử dụng nhiệt là 80%. Hộ gia đình A sử dụng liên tục trong x ngày thì hết một bình gas trên. Giá trị của x (làm tròn đến hàng đơn vị) là bao nhiêu?

Câu 4. Vỏ trứng có chứa calcium ở dạng $CaCO_3$. Để xác định hàm lượng calcium trong vỏ trứng, trong phòng thí nghiệm người ta có thể làm như sau:

Lấy 1,0 g vỏ trứng khô, đã được làm sạch, hoà tan hoàn toàn trong 50 mL dung dịch HCl 0,4 M. Lọc dung dịch sau phản ứng thu được 50 mL dung dịch A. Lấy 10,0 mL dung dịch A chuẩn độ với

dung dịch NaOH 0,1 M thấy hết 5,6 mL dung dịch NaOH. Hàm lượng calcium trong vỏ trứng xác định được là a%, giả thiết các tạp chất khác trong vỏ trứng không phản ứng với HCl và NaOH. Giá trị của a là bao nhiêu (kết quả làm tròn đến hàng phần mười)?

Câu 5. Diethyl phthalate (còn gọi là DEP) được sử dụng làm thuốc trị ghẻ ngứa, côn trùng đốt. DEP có chứa vòng benzene và hai nhóm thế ở vị trí ortho. DEP được tổng hợp từ hydrocarbon thơm X có công thức phân tử C_8H_{10} theo sơ đồ sau đây.

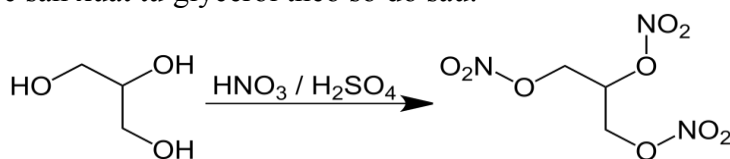


Phân tử khối của DEP là bao nhiêu?

Câu 6: Hợp chất X là dẫn xuất của benzene có công thức phân tử $C_8H_{10}O_2$. X tác dụng với NaOH theo tỉ lệ mol 1:1. Mặt khác cho X tác dụng với Na thì số mol H_2 thu được đúng bằng số mol của X đã phản ứng. Nếu tách một phân tử H_2O từ X thì tạo ra sản phẩm có thể trùng hợp tạo polymer. Có bao nhiêu công thức cấu tạo phù hợp của X?

Câu 7. Trong cơ thể, glucose là sản phẩm của quá trình thủy phân tinh bột dưới tác dụng của enzyme. Trong quá trình hô hấp tế bào, 1 mol glucose bị oxi hóa hoàn toàn qua các phản ứng sinh hóa tạo thành carbon dioxide, nước và giải phóng năng lượng là 2880 kJ. Trong khẩu phần ăn hằng ngày của một người trưởng thành sử dụng hết 400 gam gạo. Hàm lượng tinh bột trong gạo là 81%. Giả sử 90% lượng tinh bột trong gạo chuyển hóa thành glucose và toàn bộ lượng glucose này tham gia vào quá trình hô hấp tế bào. Năng lượng giải phóng từ sự oxi hóa hoàn toàn glucose còn thiếu so với nhu cầu năng lượng trung bình (2000 Calori/ngày) của một người trưởng thành là x Calori/ngày. Giá trị của x là bao nhiêu? (Kết quả làm tròn đến hàng đơn vị, cho biết: 1 Calori = 1 kcal = 1000 cal = 4184 J).

Câu 8. Trinitroglycerol (TNG) đã được Alfred Nobel sử dụng làm chất nổ thương mại, là hợp chất nguy hiểm. TNG được sản xuất từ glycerol theo sơ đồ sau:



Nguyên liệu glycerol dùng sản xuất thuốc nổ là sản phẩm thủy phân hoàn toàn một loại chất béo đã tinh chế (A) có chứa tỉ lệ về số mol gồm 30% tristearin, 40% tripalmitin và 30% triolein. Để sản xuất ra 10 tấn thuốc nổ cần dùng m tấn chất béo (A). Biết trong thuốc nổ đó chứa 90,8% TNG, còn lại là tạp chất trơ, hiệu suất toàn bộ quá trình sản xuất là 80%. Giá trị của m là bao nhiêu? (kết quả làm tròn đến hàng phần mười).

----- HẾT PHẦN TRẮC NGHIỆM -----

(*) Ghi chú:

- Thí sinh không sử dụng tài liệu, kể cả bảng tuần hoàn các nguyên tố hóa học.
- Cán bộ coi thi không giải thích gì thêm.

Họ và tên thí sinh: Số báo danh: Phòng thi:

CBCT thứ nhất: CBCT thứ hai: